

Hướng dẫn trả lời **các câu hỏi trang 122, 123, 124, 125, 126, 127 sách Tự nhiên xã hội lớp 3 CTST Bài 29: Bề mặt Trái Đất** đầy đủ và chính xác nhất, mời các em học sinh và phụ huynh cùng tham khảo

Giải Tự nhiên xã hội lớp 3 CTST trang 122 Khởi động

Giải Tự nhiên xã hội lớp 3 Bài 29 trang 122 Câu hỏi: Em biết những châu lục và đại dương nào trên Trái Đất?

Trả lời:

- Những châu lục: châu Á, châu Âu, châu Phi, châu Đại Dương, châu Nam Cực.
- Những đại dương: Thái Bình Dương, Đại Tây Dương, Ấn Độ Dương, Bắc Băng Dương.

Giải TNXH lớp 3 Chân trời sáng tạo trang 122, 123 Nhận thức

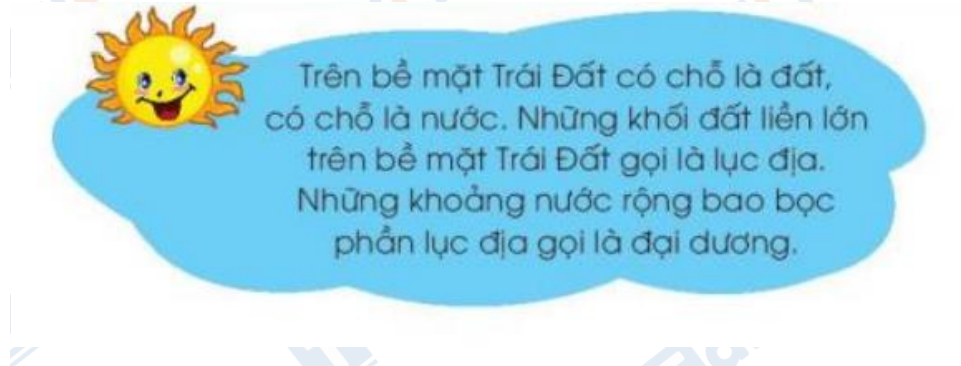
Giải Tự nhiên xã hội lớp 3 Bài 29 trang 122 Câu hỏi: Quan sát quả địa cầu:

- Nhận xét màu sắc được thể hiện trên quả địa cầu.
- Chỉ đại dương và lục địa.



Trả lời:

- Nhận xét màu sắc được thể hiện trên quả địa cầu: quả địa cầu có nhiều màu sắc khác nhau. Mỗi màu sắc thể hiện một đặc điểm địa hình.
- Học sinh chỉ đại dương và lục địa.



Giải Tự nhiên xã hội lớp 3 Bài 29 trang 123 Câu hỏi: Chỉ trên lược đồ và nói tên các châu lục, đại dương.



Trả lời:

Học sinh chỉ trên lược đồ và nói tên các châu lục, đại dương.

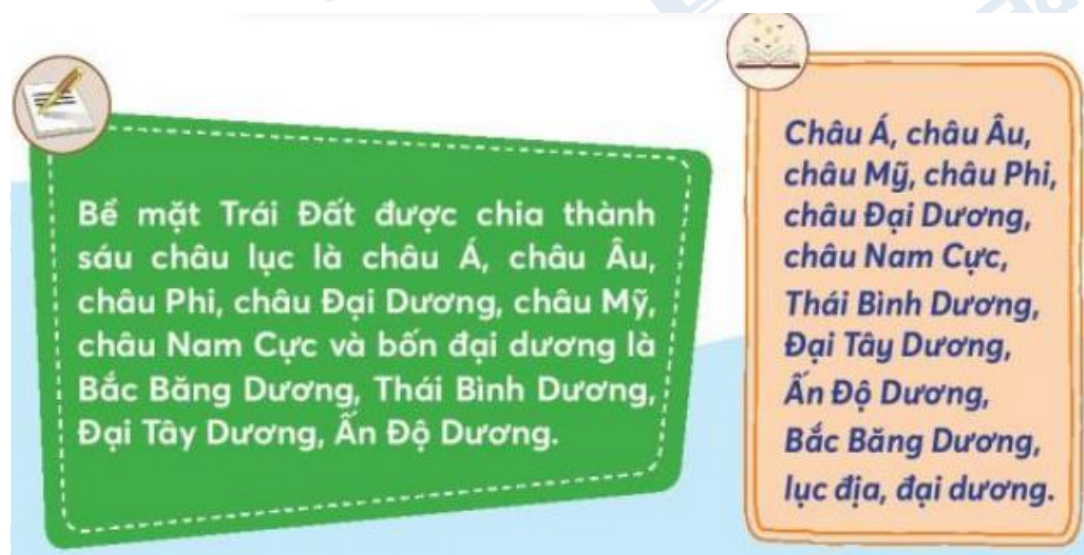
Giải Tự nhiên và xã hội CTST lớp 3 trang 123 Vận dụng

Giải Tự nhiên xã hội lớp 3 Bài 29 trang 123 Câu hỏi: Trò chơi: “Du lịch vòng quanh thế giới”

- Một bạn nói tên một châu lục hoặc tên đại dương
- Bạn còn lại chỉ vị trí của châu lục hoặc đại dương đó trên địa cầu.

Trả lời:

Học sinh tham gia trò chơi.



Giải Tự nhiên xã hội 3 CTST trang 124, 125 Nhận thức

Giải Tự nhiên xã hội lớp 3 Bài 29 trang 124 Câu hỏi: Chỉ trên hình và nói với bạn:

- Tên các dạng địa hình trên Trái Đất.
- Tên gọi của những vùng có nước trên mặt đất



Sơ đồ các dạng địa hình trên bề mặt Trái Đất

Trả lời:

- Tên các dạng địa hình trên Trái Đất: đại dương, biển, suối, sông, đồng bằng, hồ, đồi, cao nguyên.

- Tên gọi của những vùng có nước trên mặt đất: đại dương, biển, sông, suối, hồ.

Giải Tự nhiên xã hội lớp 3 Bài 29 trang 124, 125 Câu hỏi: Hình nào sau đây thể hiện đồng bằng, đồi, núi, cao nguyên, sông, hồ, suối? Vì sao em biết?



Trả lời:

- Hình thể hiện đồng bằng, đồi, núi, cao nguyên, sông , hồ, suối:

+ Đồng bằng: hình 6

+ Đồi: hình 4

+ Núi: hình 5

+ Cao nguyên: hình 7

+ Sông: hình 9

+ Hồ: hình 8

+ Suối: hình 10

- Vì:

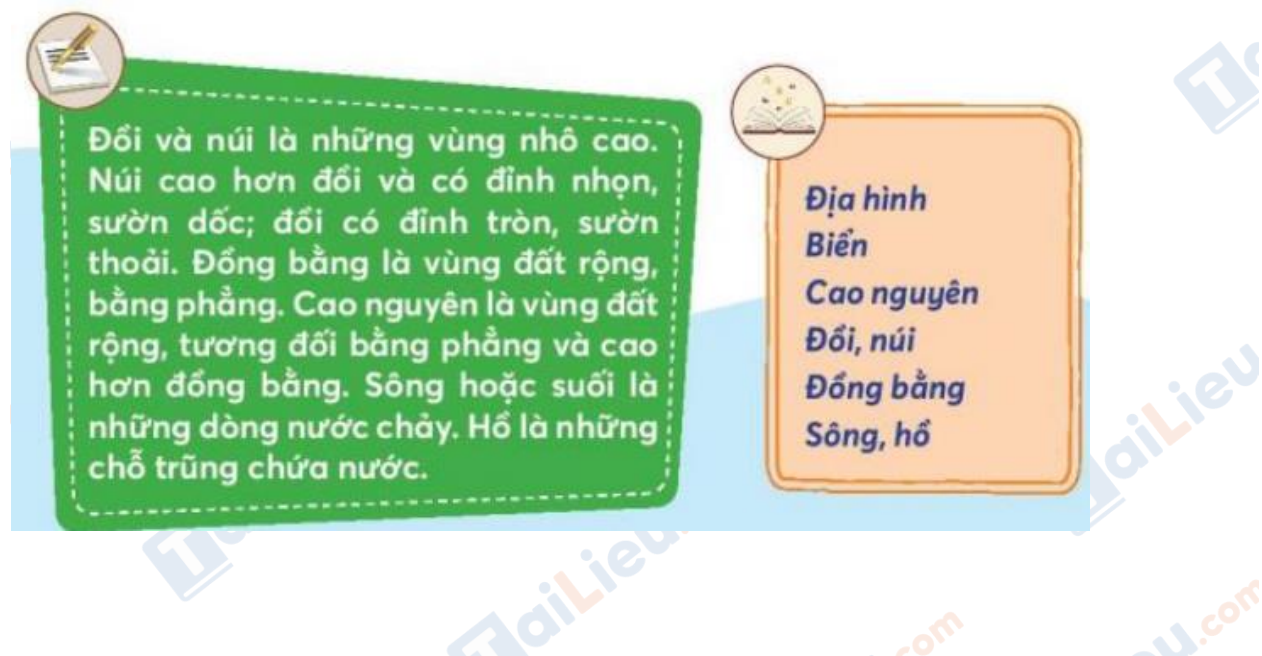
+ Đồi và núi là những vùng nhô cao. Núi cao hơn đồi và có đỉnh nhọn, sườn dốc; đồi có đỉnh tròn, sườn thoải.

+ Đồng bằng là vùng đất rộng, bằng phẳng.

+ Cao nguyên là vùng đất rộng, tương đối bằng phẳng và cao hơn đồng bằng.

+ Sông hoặc suối là những dòng nước chảy. Suối nhỏ, có đá, chảy từ cao xuống thấp. Sông lớn, chảy ra biển.

+ Hồ là những chỗ trũng chứa nước.



Giải TN&XH Chân trời sáng tạo lớp 3 trang 125 Vận dụng

Giải Tự nhiên xã hội lớp 3 Bài 29 trang 125 Câu hỏi:

- Địa phương nơi em sinh sống có những dạng địa hình nào?
- Kể tên một số núi, đồi, cao nguyên, sông , suối, hồ,... có ở địa phương em.

Trả lời:

- Địa phương nơi em sinh sống có những dạng địa hình: đồng bằng, hồ, sông, núi.

- Kể tên một số núi, đồi, cao nguyên, sông , suối, hồ,...:

+ Đồng bằng Sông Hồng.

+ Hồ Tây, Hồ Gươm.

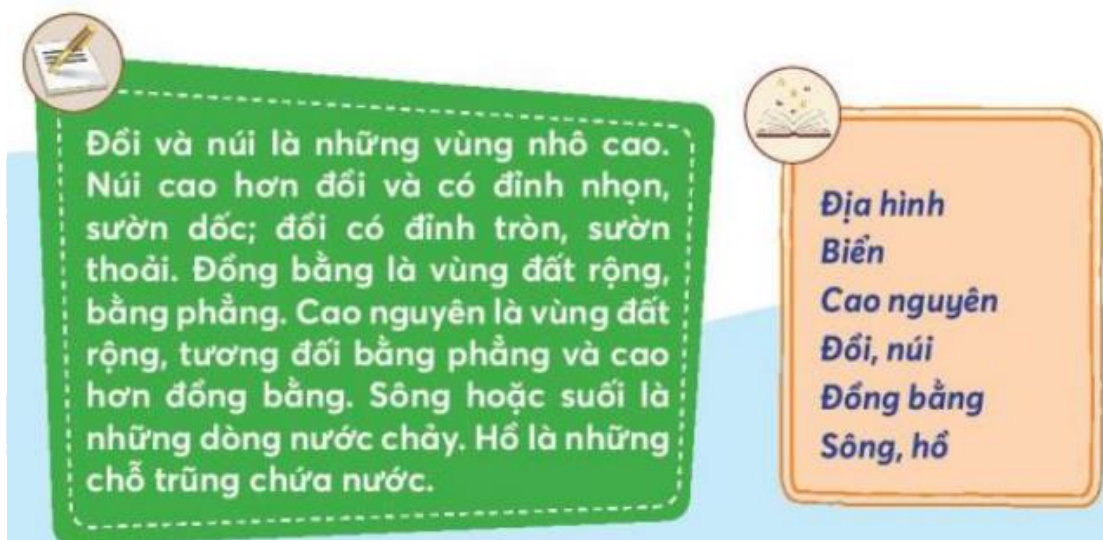
+ Sông Hồng

+ Núi Ba Vì

Giải Tự nhiên xã hội lớp 3 Bài 29 trang 125 Câu hỏi: Thực hành vẽ hoặc làm mô hình một số dạng địa hình trên Trái Đất bằng đất nặn, vật liệu tái chế.

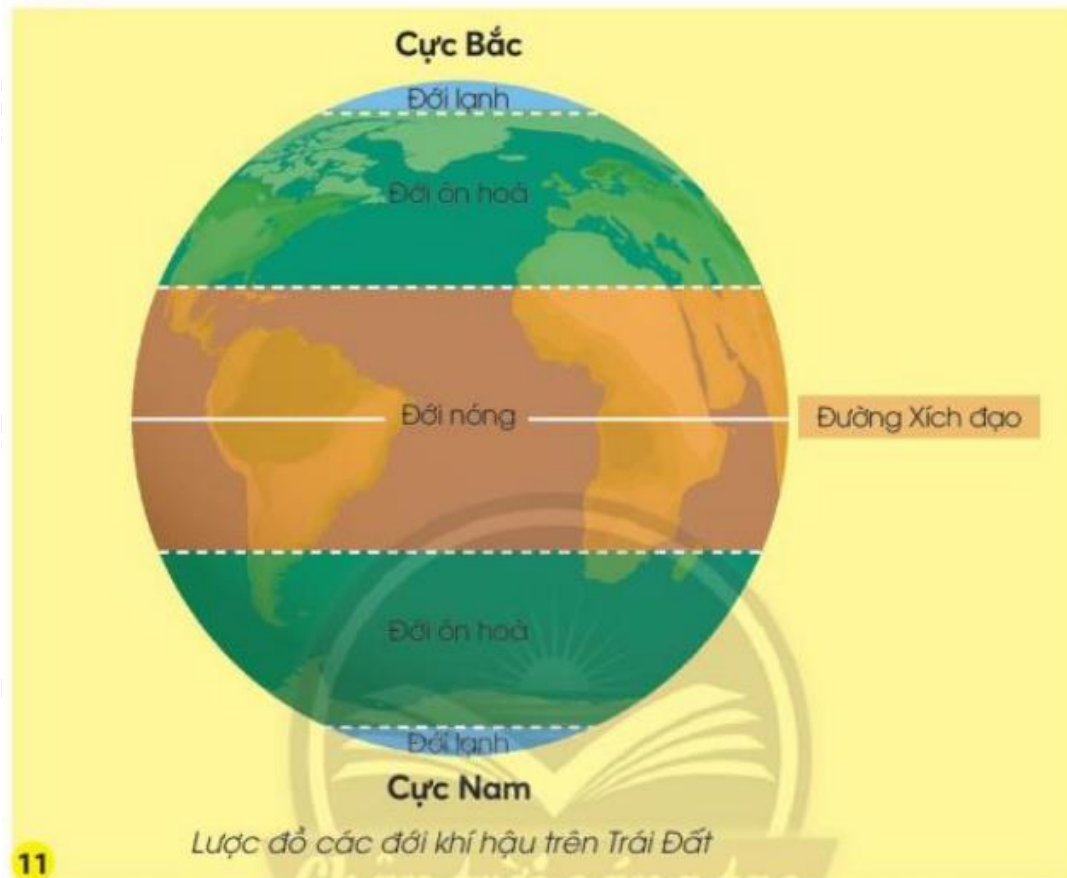
Trả lời:

Học sinh thực hành vẽ hoặc làm mô hình.



Giải Tự nhiên và xã hội lớp 3 CTST trang 126, 127 Nhận thức

Giải Tự nhiên xã hội lớp 3 Bài 29 trang 126 Câu hỏi: Chỉ trên hình và nói tên các đới khí hậu ở Bắc bán cầu và Nam bán cầu.



Trả lời:

Học sinh chỉ trên hình và nói tên các đới khí hậu ở Bắc bán cầu và Nam bán cầu:

- Bắc bán cầu: Đới nóng, đới ôn hòa, đới lạnh.

- Nam bán cầu: Đới nóng, đới ôn hòa, đới lạnh.

Giải Tự nhiên xã hội lớp 3 Bài 29 trang 126, 127 Câu hỏi: Nói về hoạt động của con người ở từng đới khí hậu trong các hình sau.



Trả lời:

- Đới lạnh:

+ Khai thác thủy sản: câu cá qua hố băng.

+ Lướt tuyết bằng xe kéo chó.

- Đới nóng:

+ Chở hàng trên sa mạc bằng lạc đà.

+ Sản xuất nông sản.

- Đới ôn hòa:

+ Du lịch.

+ Trồng nho.

Giải TNXH Chân trời sáng tạo lớp 3 trang 127 Vận dụng

Giải Tự nhiên xã hội lớp 3 Bài 29 trang 127 Câu hỏi: Việt Nam ở đới khí hậu nào? Kể tên một số hoạt động của người dân Việt Nam.

**Trả lời:**

- Việt Nam ở đới nóng.

- Một số hoạt động của người dân Việt Nam:

+ Trồng lúa

+ Sản xuất nông sản

+ Khai thác khoáng sản

+ Nuôi trồng thủy, hải sản

+ Khai thác thủy, hải sản

+ Du lịch

+

