

Nội dung bài viết

1. [Đề Toán ôn hè lớp 2 lên lớp 3 có lời giải - Số 1](#)
2. [Đề Toán ôn tập hè cho học sinh lớp 2 lên lớp 3 có lời giải - Số 2](#)
3. [Đề ôn tập hè lớp 2 lên lớp 3 môn Toán có lời giải - Số 3](#)
4. [Đề ôn tập hè Toán lớp 2 lên lớp 3 có lời giải - Số 4](#)
5. [Đề Toán ôn tập hè lớp 2 lên 3 có lời giải - Số 5](#)

Đề Toán ôn hè lớp 2 lên lớp 3 có lời giải - Số 1

Phần I: Trắc nghiệm Khoanh tròn vào chữ cái đặt trước câu trả lời đúng

Câu 1: Số có hai chữ số mà tổng hai chữ số bằng 8 và hiệu hai chữ số bằng 0 là:

A. 44 B. 26 C. 53 D. 17

Câu 2: Số thích hợp để điền vào chỗ chấm $6\text{kg} \times 2 + 4\text{kg} = \dots\text{kg}$ là:

A. 10kg B. 12kg C. 14kg D. 16kg

Câu 3: Năm nay em 7 tuổi, anh hơn em 4 tuổi. Hỏi 10 năm nữa, anh hơn em bao nhiêu tuổi?

A. 4 tuổi B. 5 tuổi C. 6 tuổi D. 7 tuổi

Câu 4: Tìm X, biết: $X : 6 = 3$

A. $X = 17$ B. $X = 18$ C. $X = 16$ D. $X = 15$

Câu 5: Một túi bóng có 10 bóng vừa vàng vừa đỏ. Số bóng vàng nhiều hơn số bóng đỏ. Hỏi số bóng vàng nhiều nhất có thể có trong túi là:

A. 8 quả B. 7 quả C. 10 quả D. 9 quả

Phần II: Tự luận

Bài 1: Đặt rồi tính:

$153 + 631$ $274 + 269$ $924 - 138$ $757 - 472$

Bài 2: Điền dấu <, >, = thích hợp vào chỗ chấm:

$$572 \dots 682 \quad 826 \dots 852 \quad 976 - 517 \dots 459$$

Bài 3: Con vịt nặng 3kg, con gà nặng hơn con vịt 2kg. Hỏi con gà nặng bao nhiêu ki-lô-gam?

Bài 4: Tìm X, biết:

a, $232 - X \times 2 = 214$

b, $X \times 3 = 5 \times 10 - 23$

Đáp án chi tiết đề số 1:

Phần I: Trắc nghiệm

Câu 1 **Câu 2** **Câu 3** **Câu 4** **Câu 5**

A D A B D

Phần II: Tự luận

Bài 1: Học sinh tự đặt phép tính rồi tính

$$153 + 631 = 784 \quad 274 + 269 = 543 \quad 924 - 138 = 786 \quad 757 - 472 = 285$$

Bài 2:

$$572 < 682 \quad 826 < 852 \quad 976 - 517 = 459$$

Bài 3:

Con gà nặng số ki-lô-gam là:

$$3 + 2 = 5 \text{ (kg)}$$

Đáp số: 5kg

Bài 4:

a, $232 - X \times 2 = 214$

$$X \times 2 = 232 - 214$$

$$X \times 2 = 18$$

$$X = 18 : 2$$

$$X = 9$$

$$b, X \times 3 = 5 \times 10 - 23$$

$$X \times 3 = 50 - 23$$

$$X \times 3 = 27$$

$$X = 27 : 3$$

$$X = 9$$

Đề Toán ôn tập hè cho học sinh lớp 2 lên lớp 3 có lời giải - Số 2

Phần I: Trắc nghiệm Khoanh tròn vào chữ cái đặt trước câu trả lời đúng

Câu 1: Số có hai chữ số mà tổng hai chữ số bằng 8 và hiệu hai chữ số bằng 0 là:

A. 44 B. 26 C. 53 D. 17

Câu 2: Kết quả của phép tính $15\text{km} : 5 + 20\text{km}$ là:

A. 28km B. 26km C. 24km D. 23km

Câu 3: Cho số 586. Cần xóa đi chữ số nào để có số hai chữ số còn lại là lớn nhất

A. 5 B. 8 C. 6

Câu 4: Trong vườn có 5 con mèo và 3 con chó thì tổng số chân mèo và chân chó có trong vườn là

A. 24 chân B. 36 chân C. 32 chân D. 28 chân

Câu 5: Độ dài của đường gấp khúc ABCD có độ dài $AB = 15\text{cm}$, $BC = 24\text{cm}$ và $CD = 19\text{cm}$ là:

A. 3dm B. 4dm C. 5dm D. 6dm

Phần II: Tự luận**Bài 1:**

a, Tìm các số có hai chữ số sao cho tích của hai chữ số đó là 5

b, Tìm các số có hai chữ số sao cho tổng của hai chữ số đó là 3

c, Tìm hiệu giữa số nhỏ nhất có 3 chữ số và số chẵn lớn nhất có 2 chữ số

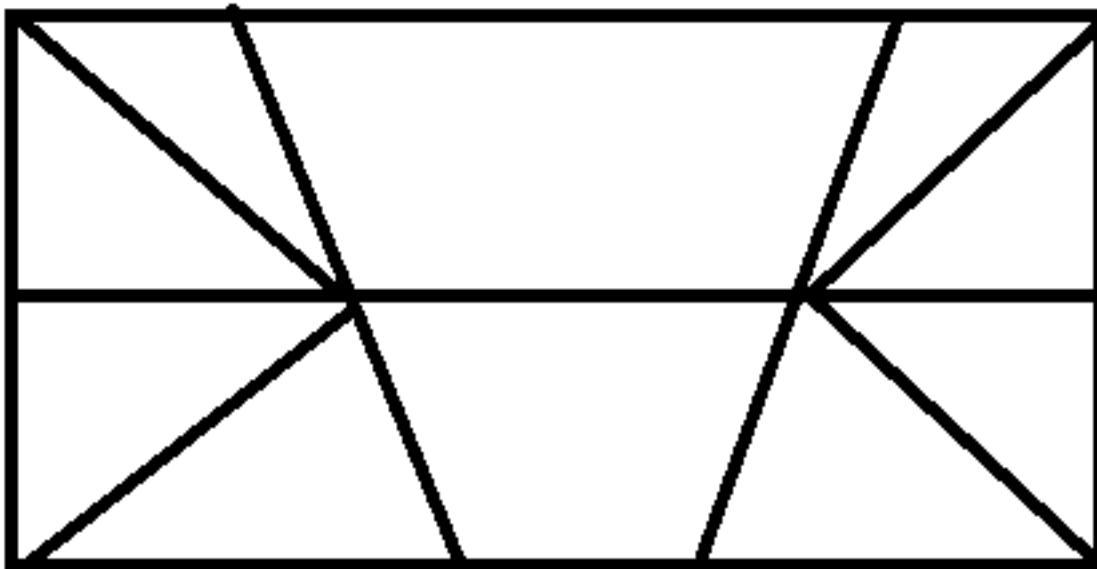
Bài 2: Viết các số thích hợp vào chỗ chấm:

1dm6cm = ... cm 5cm7mm = ...mm

3m5dm = ...dm 95dm = ...m ...dm

Bài 3: Một lớp học có 13 bạn học sinh nam. Số bạn học sinh nữ nhiều hơn số bạn học sinh nam 9 bạn. Hỏi lớp học đó có tổng cộng bao nhiêu bạn học sinh?

Bài 4: Hình vẽ dưới đây có bao nhiêu hình tứ giác, bao nhiêu hình tam giác?

**Đáp án chi tiết đề số 2:****Phần I:** Trắc nghiệm

Câu 1 Câu 2 Câu 3 Câu 4 Câu 5

A D A B D

Phần II: Tự luận

Bài 1:

a, Vì $5 = 1 \times 5 = 5 \times 1$ nên số có hai chữ số cần tìm là: 15 và 51

b, Tìm các số có hai chữ số sao cho tổng của hai chữ số đó là 10

Vì $3 = 1 + 2 = 2 + 1 = 3 + 0$ nên số có hai chữ số cần tìm là 12, 21 và 30

c, Số nhỏ nhất có 3 chữ số là: 100

Số chẵn lớn nhất có hai chữ số là: 98

Ta có: $100 - 98 = 2$

Bài 2:

1dm6cm = 16 cm 5cm7mm = 57mm

3m5dm = 35dm 9m = 9dm 5dm

Bài 3:

Số bạn học sinh nữ của lớp học đó là:

$13 + 9 = 22$ (học sinh)

Lớp học có tổng cộng số bạn học sinh là:

$13 + 22 = 35$ (học sinh)

Đáp số: 35 bạn học sinh

Bài 4: Hình vẽ có 12 hình tứ giác và 10 hình tam giác.

Đề ôn tập hè lớp 2 lên lớp 3 môn Toán có lời giải - Số 3

Câu 1.

103
721
500
575

Một trăm linh ba
Năm trăm bảy mươi lăm
Bảy trăm hai mươi một
Năm trăm

Câu 2. Viết các số sau theo thứ tự từ lớn đến bé: 578; 317; 371; 806; 878; 901; 234; 156

Câu 3. Viết các số có ba chữ số từ ba chữ số 0, 2, 4.

Câu 4. Điền số thích hợp vào chỗ chấm:

a) $200\text{cm} + 100\text{cm} = \dots\dots\dots \text{cm} = \dots\dots\dots \text{m}$

b) $\dots\dots\dots \text{dm} = 60\text{cm}$

c) $80\text{mm} - 40\text{mm} = \dots\dots\dots \text{mm} = \dots\dots\dots \text{cm}$

d) $\dots\dots\dots \text{cm} = 30\text{mm}$

Câu 5. Đặt tính rồi tính:

$432 + 367$ $958 - 452$

$632 + 144$ $676 - 153$

.....

Câu 6. Thực hiện phép tính:

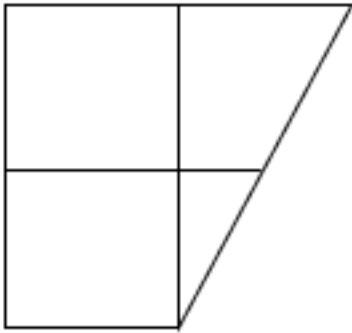
$5 \times 10 + 200 =$

$40 : 5 + 79 =$

$270 - 5 \times 5 =$

.....
.....
.....

Câu 7. Điền số thích hợp vào chỗ chấm:



Hình vẽ bên có hình tam giác

..... hình tứ giác

Câu 8. Một đội đồng diễn thể dục xếp 5 hàng, mỗi hàng 8 bạn. Hỏi đội đồng diễn thể dục có bao nhiêu bạn?

.....
.....
.....

Câu 9. Quãng đường từ Hà Nội đến Vinh dài khoảng 308km. Quãng đường từ Vinh đến Huế dài khoảng 368km. Hỏi quãng đường từ Vinh đến Huế dài hơn quãng đường từ Hà Nội đến Vinh bao nhiêu ki-lô-mét?

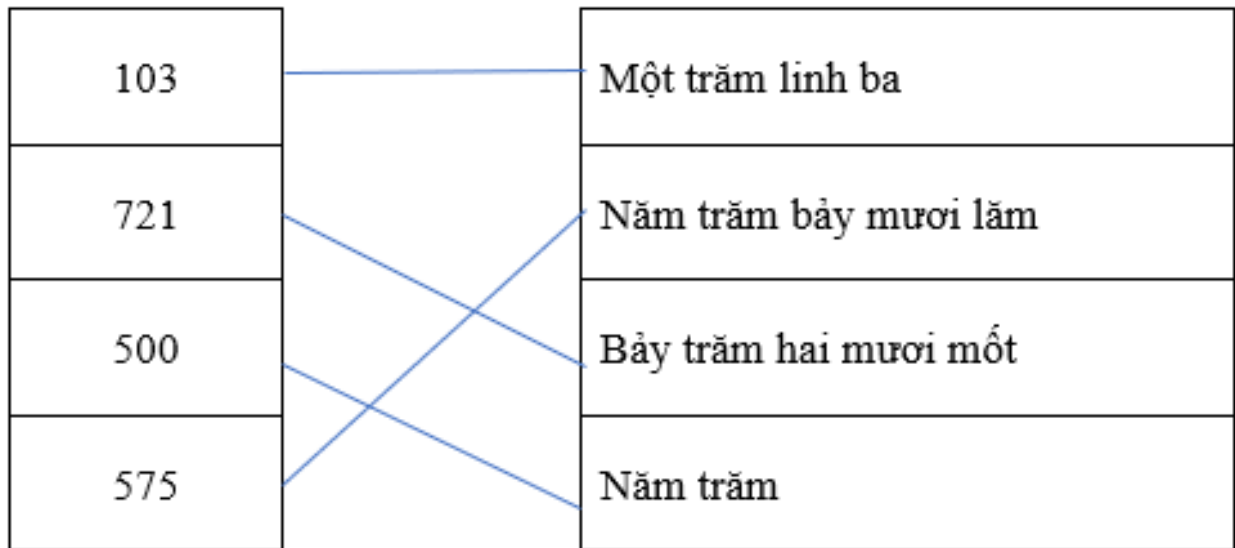
.....
.....

.....
Câu 10. Mai nghĩ một số, nếu lấy số đó trừ đi số tròn trăm nhỏ nhất thì được số nhỏ nhất có ba chữ số giống nhau. Tìm số Mai nghĩ .

.....

Đáp án chi tiết đề số 3:

Câu 1.



Câu 2.

Sắp xếp: 156; 234; 317; 371; 578; 806; 878; 901

Câu 3.

Các số có ba chữ số được lập từ chữ số 0, 2, 4 là: 204; 240; 402; 420

Câu 4.

a) $200\text{cm} + 100\text{cm} = 300\text{ cm} = 3\text{m}$

b) $6\text{ dm} = 60\text{cm}$

c) $80\text{mm} - 40\text{mm} = 40\text{mm} = 4\text{ cm}$

d) $3\text{ cm} = 30\text{mm}$

Câu 5.

HS tự tính

Câu 6.

$$5 \times 10 + 200 = 50 + 200 = 250$$

$$40 : 5 + 79 = 8 + 79 = 87$$

$$270 - 5 \times 5 = 270 - 25 = 245$$

Câu 7.

Có 2 hình tam giác; 7 hình tứ giác

Câu 8.

Đội đồng diễn thể dục có số bạn là:

$$8 \times 5 = 40 \text{ (bạn)}$$

Đáp số: 40 bạn

Câu 9.

Quãng đường từ Vinh đến Huế dài hơn quãng đường từ Hà Nội đến Vinh số ki-lô-mét là:

$$368 - 308 = 60 \text{ (km)}$$

Đáp số: 60km

Câu 10.

Số tròn trăm nhỏ nhất là: 100

Số nhỏ nhất có ba chữ số giống nhau là: 111

Số Mai nghĩ là: $111 + 100 = 211$

Đáp số: 211

Đề ôn tập hè Toán lớp 2 lên lớp 3 có lời giải - Số 4

Bài 1: Viết số gồm:

a. 4 chục 5 đơn vị:.....

b. 5 chục và 4 đơn vị:.....

c. 3 chục và 27 đơn vị:.....

Bài 2: Chỉ ra số chục và số đơn vị trong mỗi số sau: 45, 37, 20, 66

.....
.....
.....
.....

Bài 3: Em hãy viết tất cả các số có hai chữ số mà tổng hai chữ số của nó:

a. Bằng 5:.....

b. Bằng 18:.....

c. Bằng 1:.....

Bài 4: Điền số thích hợp vào chỗ trống:

$$\dots + 35 = 71$$

$$40 + \dots = 91$$

$$67 = \dots + 0$$

$$45 - \dots = 18$$

$$100 - \dots = 39$$

$$\dots - 27 = 72$$

Bài 5: Tính nhanh:

a. $11 + 28 + 24 + 16 + 12 + 9$

b. $75 - 13 - 17 + 25$

c. $5 \times 8 + 5 \times 2$

.....

.....

.....

.....

Bài 6: Một bến xe có 25 ô tô rời bến, như vậy còn lại 12 ô tô chưa rời bến. Hỏi lúc đầu có bao nhiêu ô tô trên bến xe đó

Bài giải:

.....

.....

.....

.....

Đề Toán ôn tập hè lớp 2 lên 3 có lời giải - Số 5

Bài 1: Từ 3 chữ số: 4, 6, 8 em hãy viết tất cả các số có 2 chữ số có thể được. Có bao nhiêu số như vậy?

.....

.....

.....

.....

Bài 2: Tìm số có 2 chữ số, biết rằng khi thêm 2 đơn vị vào số đó ta được số nhỏ hơn 13?

.....

.....

.....

.....

Bài 3: Tính

- a. $5 \times 8 - 11 = \dots\dots\dots$
- b. $3 \times 6 : 3 = \dots\dots\dots$
- c. $40 : 4 : 5 = \dots\dots\dots$
- d. $2 \times 2 \times 7 = \dots\dots\dots$
- e. $4 \times 6 + 16 = \dots\dots\dots$
- g. $20 : 4 \times 6 = \dots\dots\dots$

Bài 4: Tìm x:

- a. $X - 192 = 301$
- b. $700 - x = 404$
- c. $x + 215 = 315$

Bài 5: Cứ 4 cái bánh đóng được một hộp bánh. Hỏi cần có bao nhiêu cái bánh nướng để đóng được 8 hộp bánh như thế?

.....

.....

.....

.....

Bài 6: Tính chu vi hình tứ giác có độ dài các cạnh là:

- a. 105 cm; 110cm; 113cm; 160cm.

.....

.....

.....

.....

b. 65cm; 7dm; 112cm; 2m.

.....

.....

.....

.....