

Hướng dẫn trả lời các **câu hỏi trang 110, 111, 112, 113, 114, 115 sách Tự nhiên xã hội lớp 3 KNTT Bài 28: Bề mặt trái đất** đầy đủ và chính xác nhất, mời các em học sinh và phụ huynh cùng tham khảo

***Giải Tự nhiên xã hội lớp KNTT 3 trang 110 Mở đầu***

**Giải Tự nhiên xã hội lớp 3 Bài 28 trang 110 Câu hỏi:** Hãy nói về quang cảnh thiên nhiên nơi em sống.

**Trả lời:**

Nơi em sống là một vùng quê thanh bình. Nơi đây có không khí trong lành. Những cánh đồng thẳng cánh cò bay. Những ngôi làng chìm trong bình yên. Xa xa là những dãy núi san sát. Em yêu quê hương của mình rất nhiều.

***Giải TNXH lớp 3 Kết nối tri thức trang 110, 111 Khám phá***

**Giải Tự nhiên xã hội lớp 3 Bài 28 trang 110 Câu 1:** Đọc thông tin và quan sát quả địa cầu, em hãy:

- Chỉ đại dương và lục địa.
- Nhận xét diện tích của hai phần này.

Bề mặt của Trái Đất có các lục địa và đại dương.

Trên quả địa cầu tự nhiên, màu xanh nước biển thể hiện đại dương; màu nâu đỏ và vàng thể hiện núi, đồi và cao nguyên; còn màu xanh lá cây thể hiện đồng bằng.



1

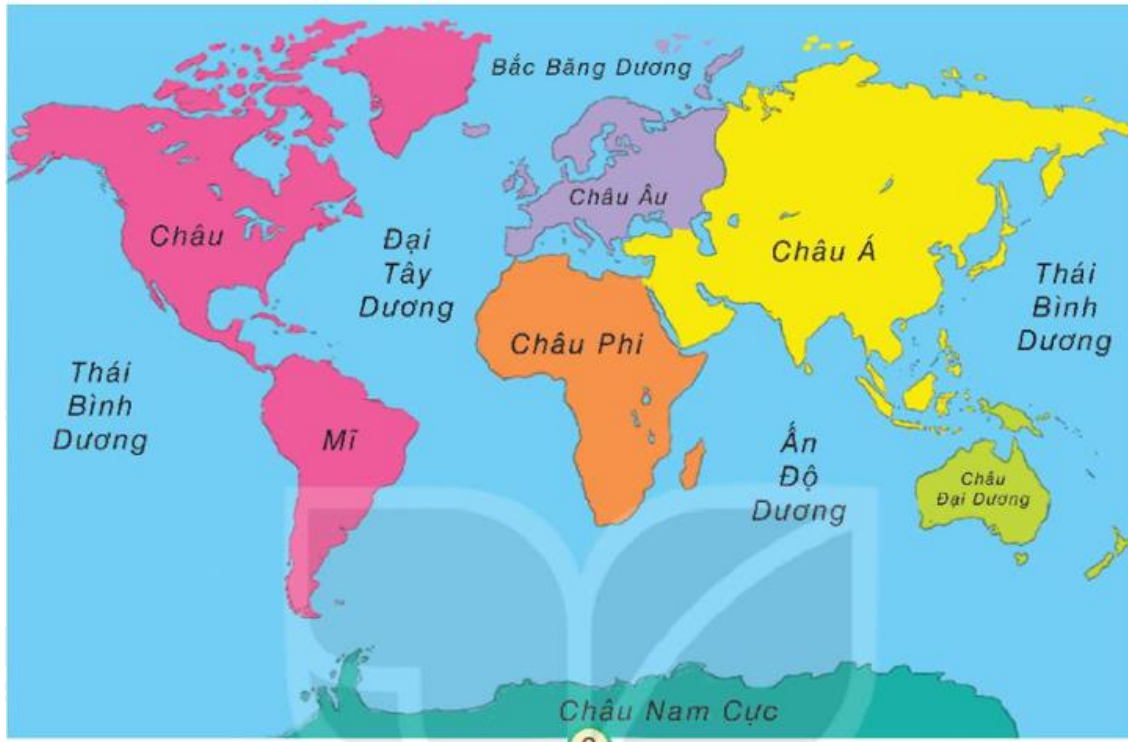
**Trả lời:**

- Học sinh chỉ đại dương và lục địa.
- Nhận xét diện tích của hai phần này: Đại dương chiếm phần lớn diện tích bề mặt của trái đất. Phần đại dương chiếm 70%, lục địa chiếm 30%



Đại dương chiếm phần lớn diện tích bề mặt Trái Đất. Lục địa là phần đất liền rộng lớn được bao bọc bởi đại dương.

**Giải Tự nhiên xã hội lớp 3 Bài 28 trang 111 Câu 2:** Quan sát lược đồ hình 2, em hãy tìm và nói tên các châu lục, đại dương.



Lược đồ các châu lục và đại dương

**Trả lời:**

- Các châu lục: Châu Mỹ, châu Âu, châu Phi, châu Á, châu Đại Dương, châu Nam Cực.
- Các đại dương: Thái Bình Dương, Đại Tây Dương, Ấn Độ Dương, Bắc Băng Dương.

**Giải Tự nhiên và xã hội 3 KNTT trang 111 Thực hành**

**Giải Tự nhiên xã hội lớp 3 Bài 28 trang 111 Câu hỏi: Chia sẻ với bạn:**

- Từng châu lục tiếp giáp với các đại dương nào?
- Nước Việt Nam nằm ở châu lục nào? Tiếp giáp với biên thuộc đại dương nào?

**Trả lời:**

- Từng châu lục tiếp giáp với đại dương:
- + Châu Mỹ tiếp giáp với Thái Bình Dương, Bắc Băng Dương và Đại Tây Dương
- + Châu Á tiếp giáp Thái Bình Dương, Bắc Băng Dương và Ấn Độ Dương
- + Châu Phi tiếp giáp với Đại Tây Dương và Ấn Độ Dương
- + Châu Âu tiếp giáp với Đại Tây Dương và Bắc Băng Dương
- + Châu Đại Dương tiếp giáp với Ấn Độ Dương và Thái Bình Dương
- Nước Việt Nam nằm ở Châu Á. Tiếp giáp với biển Đông thuộc Thái Bình Dương.

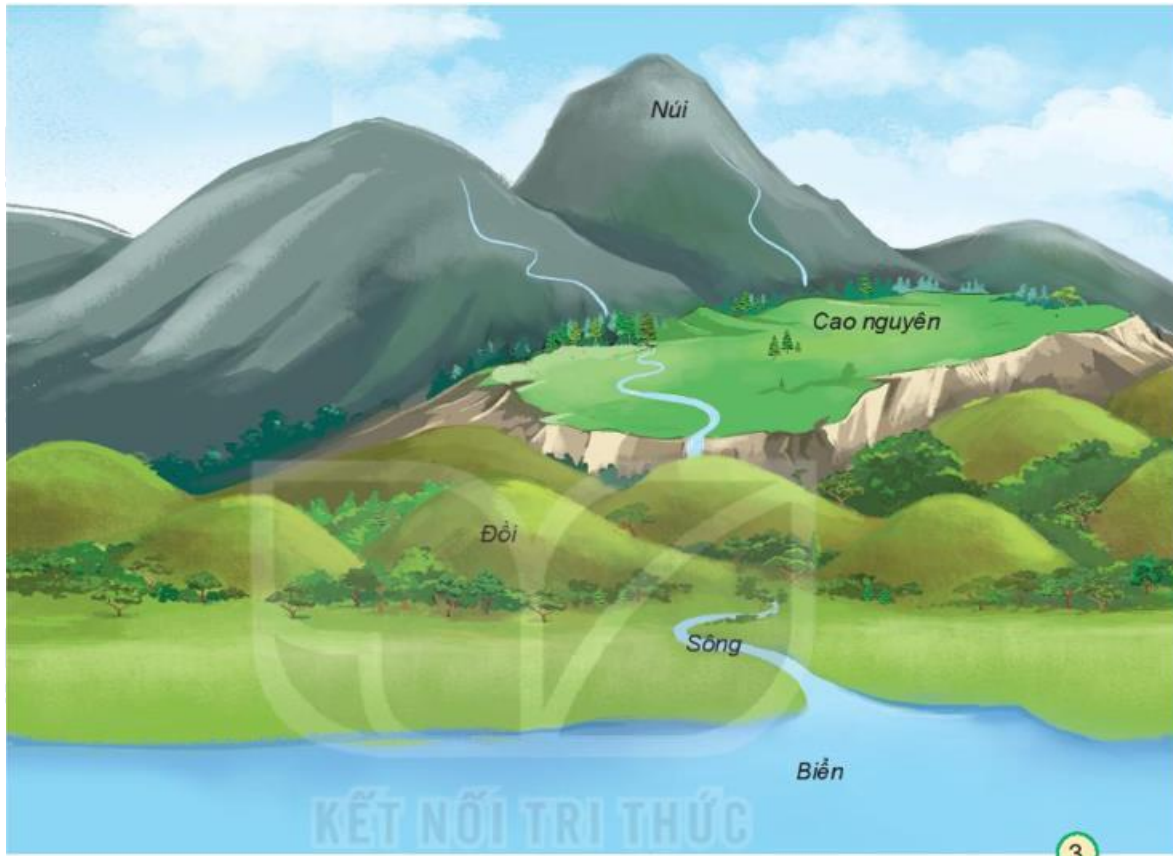


Bề mặt Trái Đất được chia làm 6 châu lục và 4 đại dương. Các châu lục là châu Á, châu Âu, châu Phi, châu Mỹ, châu Đại Dương và châu Nam Cực. Các đại dương là Thái Bình Dương, Đại Tây Dương, Ấn Độ Dương và Bắc Băng Dương.

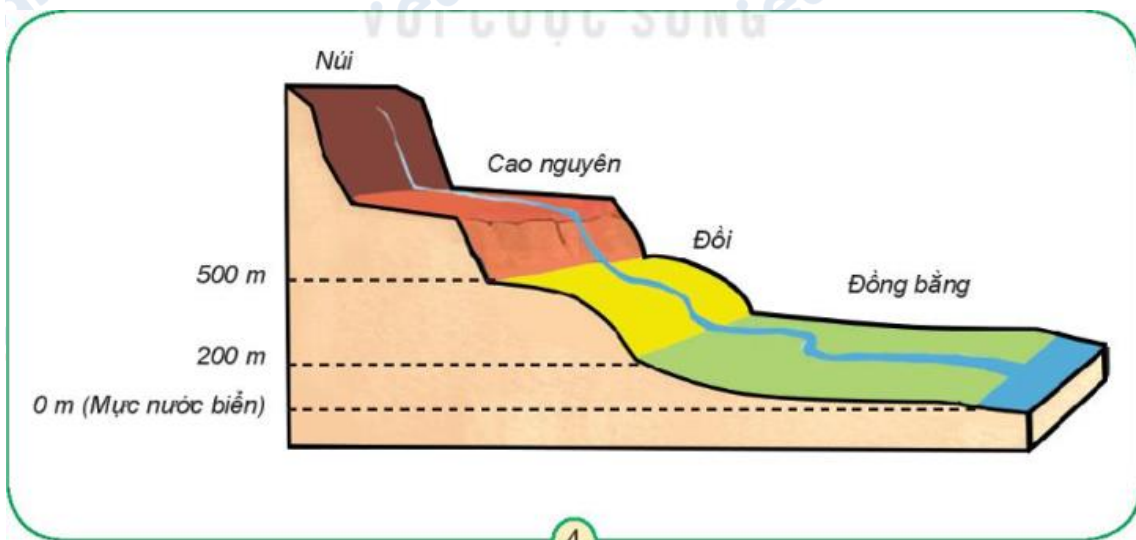
***Giải TN&XH lớp 3 KNTT trang 112, 113 Khám phá***

**Giải Tự nhiên xã hội lớp 3 Bài 28 trang 112, 113 Câu 1:** Quan sát hình 3 và chỉ núi, đồi, cao nguyên, đồng bằng, sông, hồ, biển.





3



4

Mô hình các dạng địa hình



**Trả lời:**

Học sinh chỉ núi, đồi, cao nguyên, đồng bằng, sông, hồ, biển ghi trong hình.

**Giải Tự nhiên xã hội lớp 3 Bài 28 trang 113 Câu 2:** Quan sát hình 3 và hình 4, em hãy mô tả núi, đồi, cao nguyên, đồng bằng dựa vào gợi ý: cao, dốc, tương đối tròn, thoải, thấp, thường nhọn, bằng phẳng.

**Trả lời:**

- Núi: cao, thường nhọn, dốc.
- Đồi: thấp, thoải, tương đối tròn.
- Cao nguyên: bằng phẳng, dốc.

- Đồng bằng: bằng phẳng.

**Giải Tự nhiên xã hội 3 KNTT trang 113, 114 Thực hành**

**Giải Tự nhiên xã hội lớp 3 Bài 28 trang 113 Câu 1:** Hoàn thành các bảng theo gợi ý sau:

	Núi	Đồi		Cao nguyên	Đồng bằng
Điểm giống	?		Điểm giống	?	
Điểm khác:			Điểm khác		
• Độ cao	?	?		?	?
• Đỉnh	?	?			
• Sườn	?	?			

**Trả lời:**

	Núi	Đồi
Độ cao	cao	Thấp
Đỉnh	Nhọn	Tương đối tròn
Sườn	Dốc	Thoải

	Cao nguyên	Đồng bằng
Điểm giống	Tương đối bằng phẳng	
Điểm khác	Cao hơn đồng bằng Có sườn dốc	Thấp

Giải Tự nhiên xã hội lớp 3 Bài 28 trang 114, 115 Câu 2: Quan sát từ hình 5 đến hình 11, chỉ và nói tên các dạng địa hình trên Trái Đất.







Trả lời:

Hình 5: hồ

Hình 6: sông

Hình 7: núi

Hình 8: đồi

Hình 9: cao nguyên

Hình 10: đồng bằng

Hình 11: biển

***Giải Tự nhiên xã hội KNTT lớp 3 trang 115 Vận dụng***

**Giải Tự nhiên xã hội lớp 3 Bài 28 trang 115 Câu 1:** Hãy kể tên một số núi, đồi, cao nguyên, đồng bằng, sông, hồ, biển mà em biết.

**Trả lời:**

- Biển: biển Đông, biển Cửa Lò, biển Nha Trang,...
- Hồ: hồ Gươm, hồ Tây, hồ Ba Bể,...
- Sông: Sông Hồng, sông Cửu Long, sông Lam,
- Núi: núi Phan – xi – păng, núi Yên Tử,...
- Đồi: Đồi chè Tân Cương, ...
- Cao nguyên: cao nguyên đá Đồng Văn, cao nguyên Lâm Viên,...
- Đồng bằng: Đồng bằng sông Hồng, đồng bằng sông Cửu Long.

**Giải Tự nhiên xã hội lớp 3 Bài 28 trang 115 Câu 2:** Nơi em đang sống có những dạng địa hình nào? Hãy mô tả về địa hình nơi đó.

**Trả lời:**

- Nơi em đang sống có các dạng địa hình: đồng bằng, sông, hồ, biển, núi.

- Mô tả:

+ Đồng bằng bằng phẳng

+ Sông lớn, chảy qua cánh đồng

+ Hồ lớn nằm giữa thành phố

+ Núi cao nằm xa xa cánh đồng.

