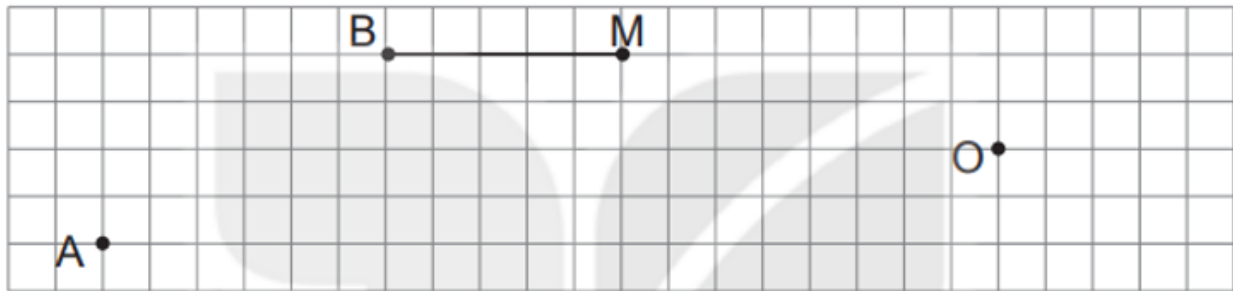


Hướng dẫn giải và trả lời câu hỏi sách bài tập toán Kết nối tri thức (KNTT) lớp 3 tập 1 Bài 20: Thực hành vẽ góc vuông, vẽ đường tròn, hình vuông, hình chữ nhật và vẽ trang trí trang 54, 55 chính xác nhất, mời các em học sinh và phụ huynh tham khảo.

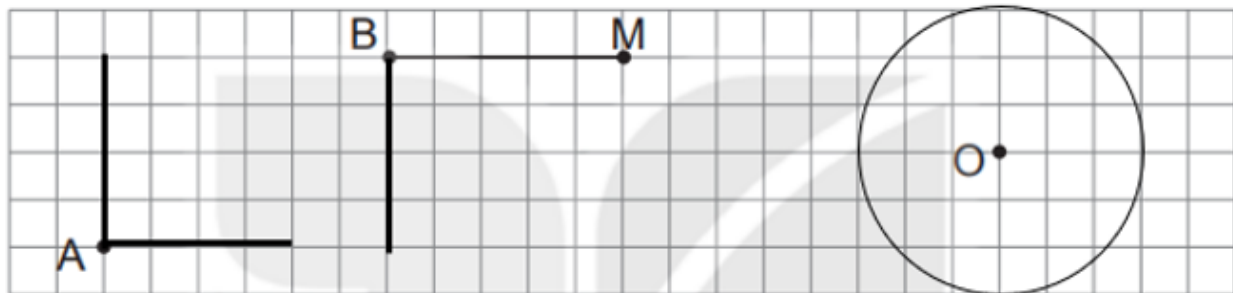
***Giải VBT Toán lớp 3 KNTT Bài 20 Tiết 1 trang 54***

**Vở bài tập Toán lớp 3 Tập 1 trang 54 Bài 1:** Vẽ một góc vuông có đỉnh A cho trước, một góc vuông có đỉnh B và cạnh BM cho trước, một đường tròn tâm O cho trước.



**Lời giải:**

Ta vẽ như sau:



**Vở bài tập Toán lớp 3 Tập 1 trang 54 Bài 2:** Viết tiếp vào chỗ chấm cho thích hợp.



- a) Dùng ê ke để kiểm tra góc vuông, em tìm được trong hình bên có .... góc vuông.
- b) Dùng ê ke để kiểm tra góc vuông, hãy tìm một số đồ vật xung quanh em có góc vuông rồi viết lại tên các đồ vật đó.

.....

.....


.....

.....

**Lời giải:**

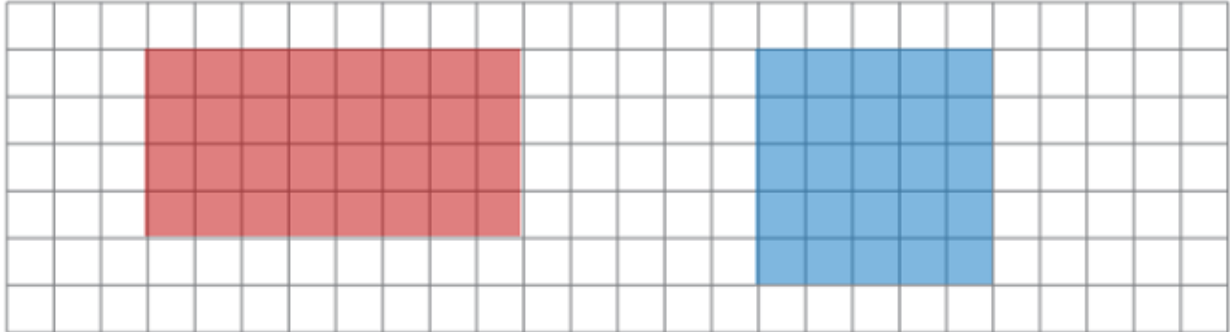
- a) Dùng ê ke để kiểm tra, ta thấy trong hình có 5 góc vuông.
- b) Một số đồ vật xung quanh em có góc vuông như: Quyển sách, bàn học, bảng viết, ti vi...

**Vở bài tập Toán lớp 3 Tập 1 trang 54 Bài 3:** Vẽ một hình chữ nhật và một hình vuông rồi tô màu.



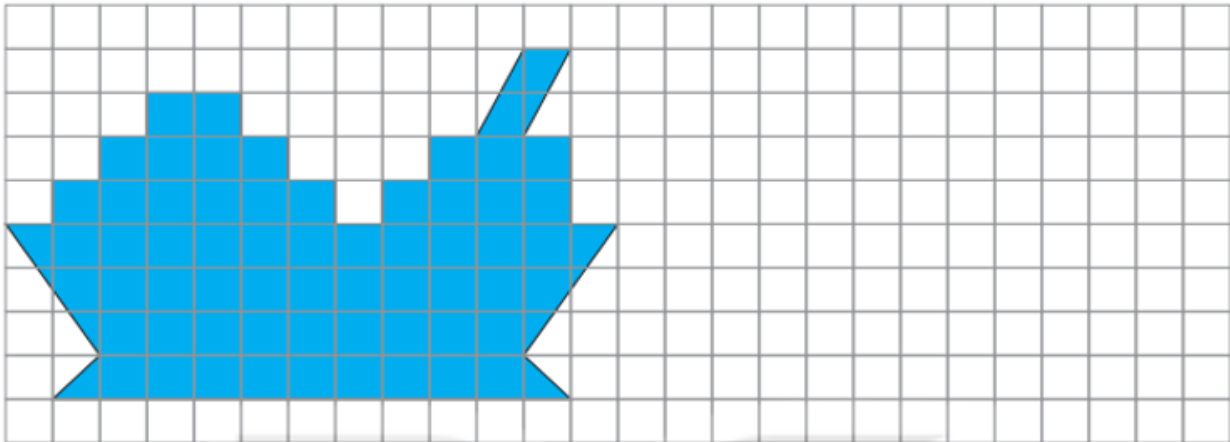
**Lời giải:**

Ta vẽ một hình chữ nhật và một hình vuông rồi tô màu như sau:



***Giải VBT Toán KNTT lớp 3 trang 55 Bài 20 Tiết 2***

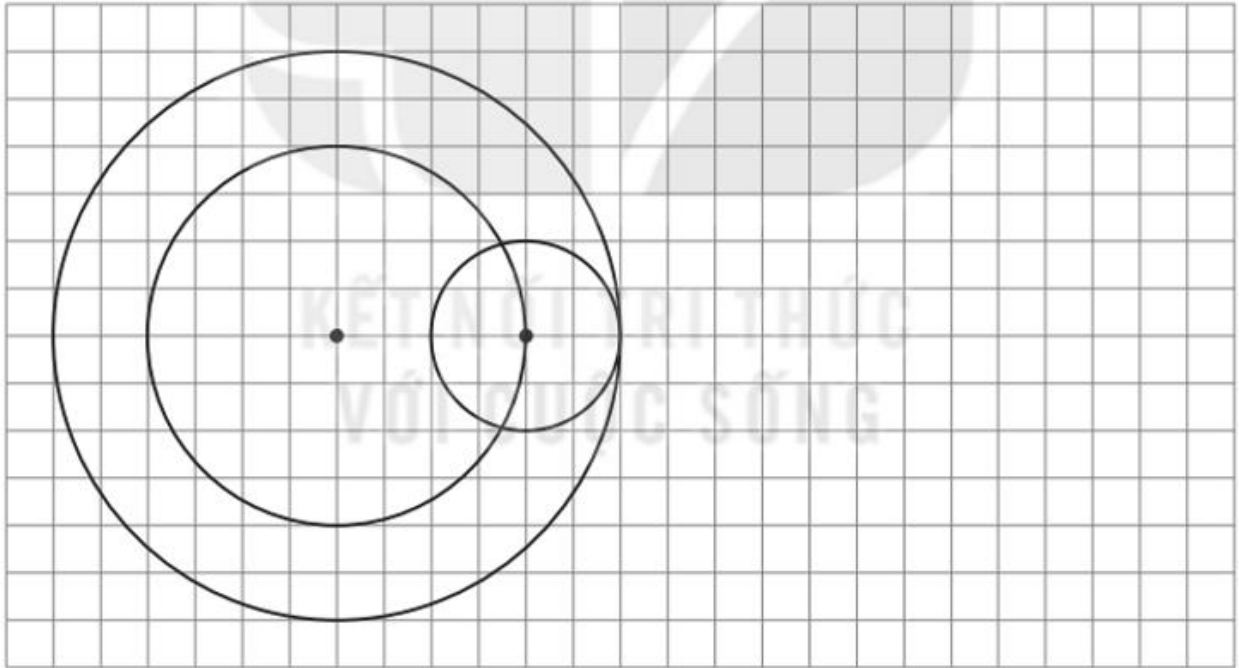
**Vở bài tập Toán lớp 3 Tập 1 trang 55 Bài 1:** Vẽ hình (theo mẫu).



**Lời giải:**

Học sinh tự thực hành.

**Vở bài tập Toán lớp 3 Tập 1 trang 55 Bài 2:** Vẽ theo mẫu rồi tô màu trang trí.

**Lời giải:**

Sử dụng compa ta thực hiện như sau:

- Vẽ hai đường tròn có bán kính lần lượt 4 ô vuông và 6 ô vuông.
- Lấy một điểm nằm trên đường tròn có bán kính bằng 4 ô vuông. Vẽ đường tròn có tâm là điểm vừa vẽ và có bán kính bằng 2 ô vuông.