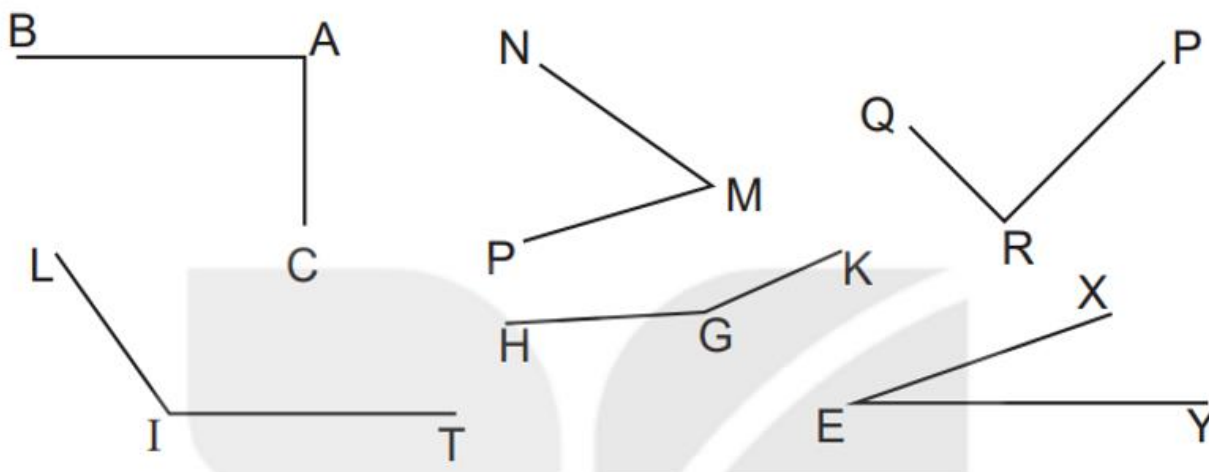


Hướng dẫn giải và trả lời câu hỏi sách bài tập toán Kết nối tri thức (KNTT) lớp 3 tập 1 Bài 18: Góc, góc vuông, góc không vuông trang 48 chính xác nhất, mời các em học sinh và phụ huynh tham khảo.

Giải VBT Toán lớp 3 KNTT Bài 18 Tiết 1 trang 48

Vở bài tập Toán lớp 3 Tập 1 trang 48 Bài 1: Dùng ê ke để kiểm tra góc vuông rồi viết tiếp vào chỗ chấm cho thích hợp.



Trong hình vẽ có:

a) Các góc vuông là: b) Các góc không vuông là:

Góc đỉnh; cạnh, Góc đỉnh; cạnh,

Góc đỉnh; cạnh, Góc đỉnh; cạnh,

Góc đỉnh; cạnh,

Góc đỉnh; cạnh,

Lời giải:

Dùng ê ke để kiểm tra ta có:

Trong hình vẽ có:

a) Các góc vuông là: b) Các góc không vuông là:

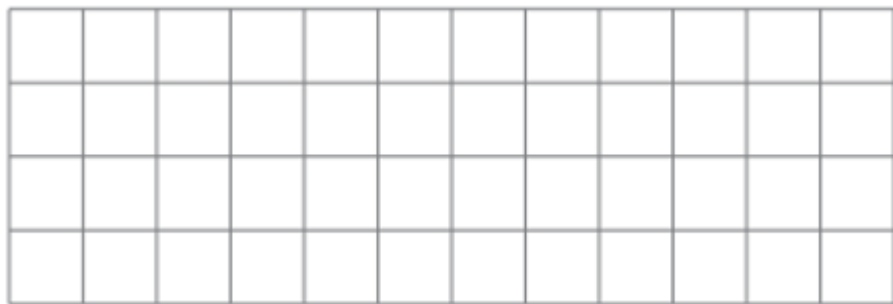
Góc đỉnh A; cạnh AB, AC Góc đỉnh M; cạnh MN, MP

Góc đỉnh R; cạnh RQ, RP Góc đỉnh I; cạnh IL, IT

Góc đỉnh G; cạnh GH, GK

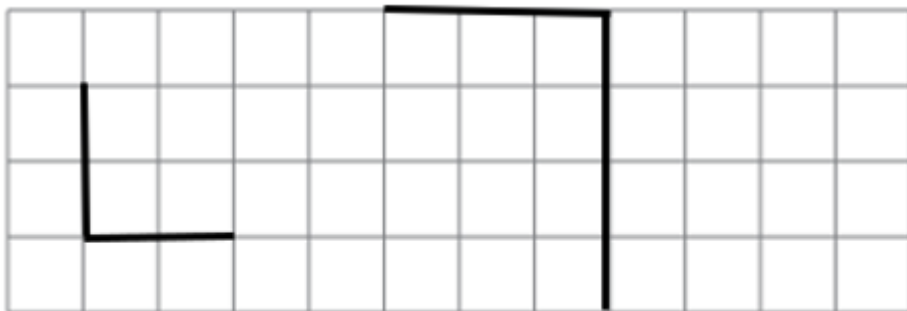
Góc đỉnh E ; cạnh EX, EY

Vở bài tập Toán lớp 3 Tập 1 trang 48 Bài 2: Em hãy vẽ hai góc vuông trên lưới ô vuông.



Lời giải:

Ta vẽ như sau:



Vở bài tập Toán lớp 3 Tập 1 trang 48 Bài 3: Tô màu vào hình có nhiều góc vuông nhất.

**Lời giải:**

Sử dụng ê ke để kiểm tra, ta thấy:

+ Hình 1 có 4 góc vuông.

+ Hình 2 có 3 góc vuông.

+ Hình 3 có 5 góc vuông.

Vậy hình 3 có nhiều góc vuông nhất.

Ta tô màu như sau:

