

Hướng dẫn giải và trả lời câu hỏi sách bài tập toán Kết nối tri thức (KNTT) lớp 3 tập 1 Bài 14: Một phần mấy trang 37 - 40 chính xác nhất, mời các em học sinh và phụ huynh tham khảo.

**Giải VBT Toán lớp 3 KNTT Bài 14 Tiết 1 trang 37, 38**

Vở bài tập Toán lớp 3 Tập 1 trang 37 Bài 1: Đ, S?

a)



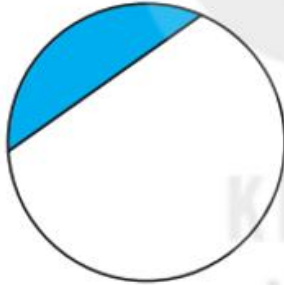
Đã tô màu  $\frac{1}{5}$  hình tròn.

b)



Đã tô màu  $\frac{1}{6}$  hình tròn.

c)



Đã tô màu  $\frac{1}{2}$  hình tròn.

d)



Đã tô màu  $\frac{1}{3}$  hình tròn.

**Lời giải:**

a) Hình a được chia thành 5 phần bằng nhau. Tô màu 1 phần.

Vậy đã tô màu vào  $\frac{1}{5}$  hình tròn.

Do đó câu a đúng.

b) Hình b được chia thành 6 phần bằng nhau. Tô màu 1 phần.

Vậy đã tô màu vào 1616 hình tròn.

Do đó câu b đúng.

c) Hình c không được được chia thành các phần bằng nhau.

Do đó câu c sai.

d) Hình d được chia thành 3 phần bằng nhau. Tô màu 1 phần.

Vậy đã tô màu vào 1313 hình tròn.

Do đó câu d đúng.

Ta điền vào ô trống như sau:

a)



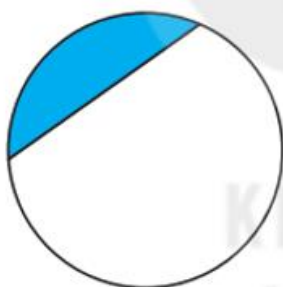
Đã tô màu  $\frac{1}{5}$  hình tròn.  Đ

b)



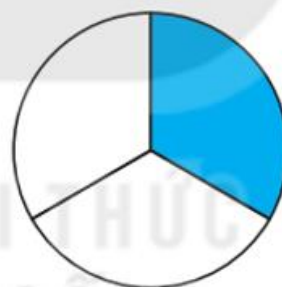
Đã tô màu  $\frac{1}{6}$  hình tròn.  Đ

c)



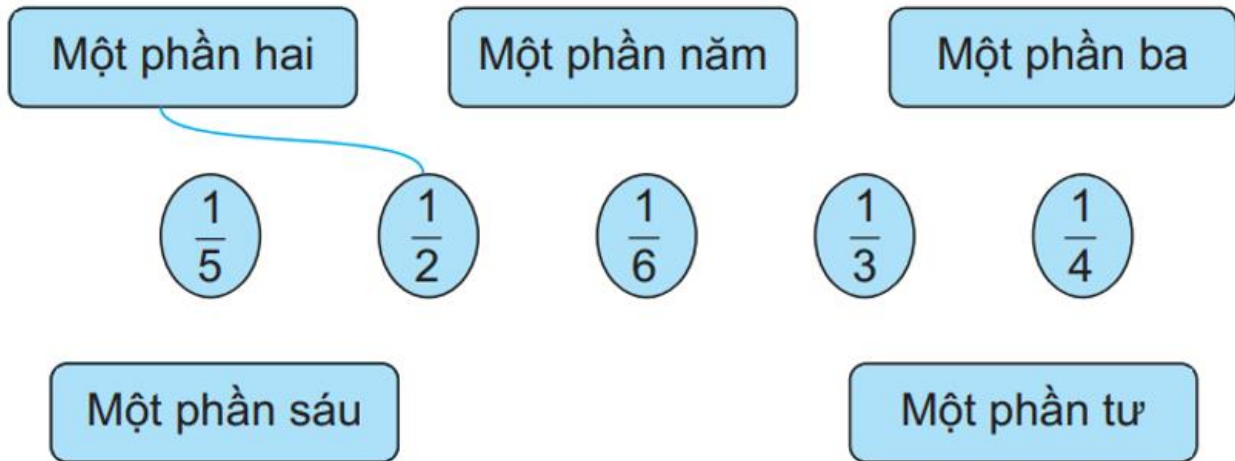
Đã tô màu  $\frac{1}{2}$  hình tròn.  S

d)

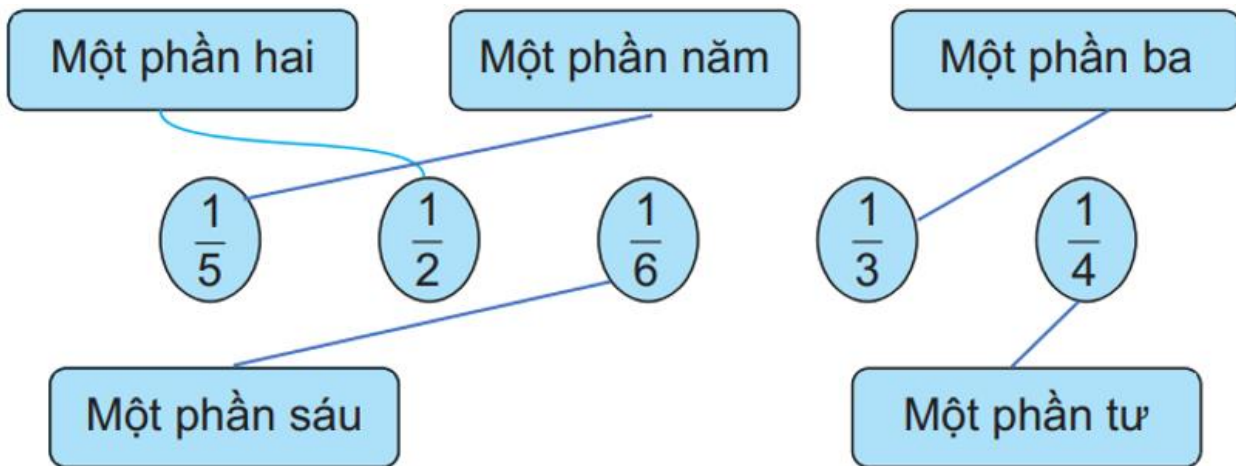


Đã tô màu  $\frac{1}{3}$  hình tròn.  Đ

Vớ bài tập Toán lớp 3 Tập 1 trang 37 Bài 2: Nói (theo mẫu).

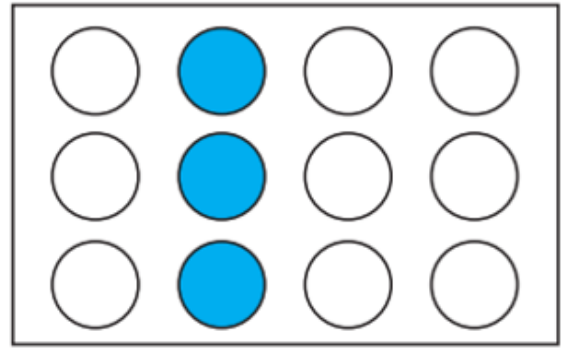
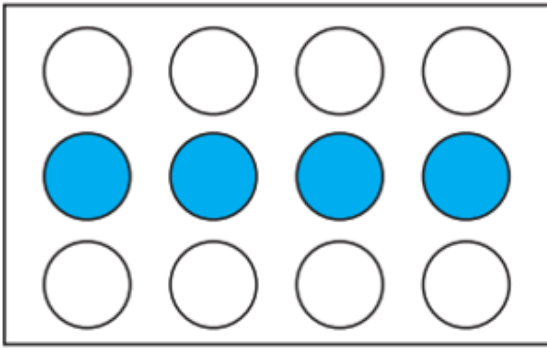


Lời giải:



Vở bài tập Toán lớp 3 Tập 1 trang 38 Bài 3:

Viết dấu “x” vào ô trống dưới hình đã tô màu 1/3 số hình tròn của hình đó



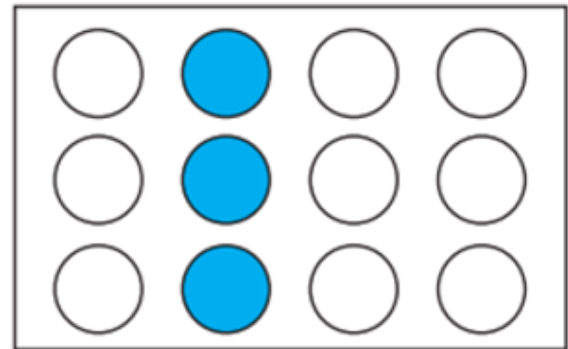
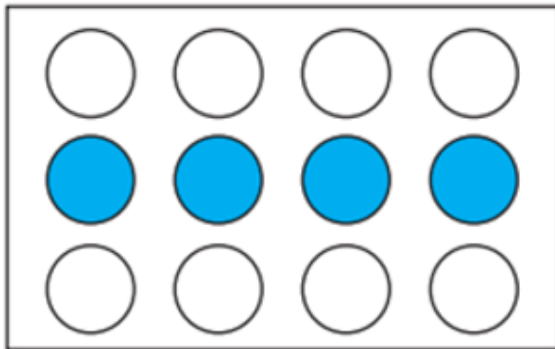
**Lời giải:**

Cả 2 hình đều có tất cả 12 hình tròn, 1313 số hình tròn là:

$$12 : 3 = 4 \text{ (hình tròn).}$$

Vậy hình 1 đã tô màu 1313 số hình tròn.

Ta điền dấu "x" vào ô trống như sau:



**Vở bài tập Toán lớp 3 Tập 1 trang 38 Bài 4:**

Tô màu 1515 mỗi hình sau:

**Lời giải:**

+ Hình 1 gồm 5 ô vuông bằng nhau.

Như vậy cần tô màu 1 ô vuông để được 1515 hình 1.

+ Hình 2 gồm 5 hình tròn bằng nhau.

Như vậy cần tô màu 1 hình tròn để được 1515 hình 2.

Ta tô màu 1515 mỗi hình như sau:

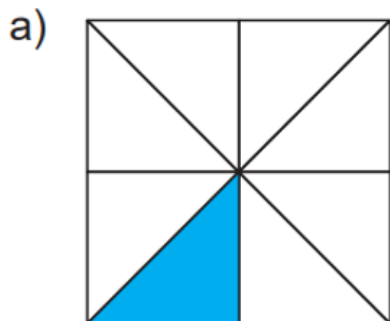


***Giải VBT Toán KNTT lớp 3 trang 38, 39, 40 Bài 14 Tiết 2***

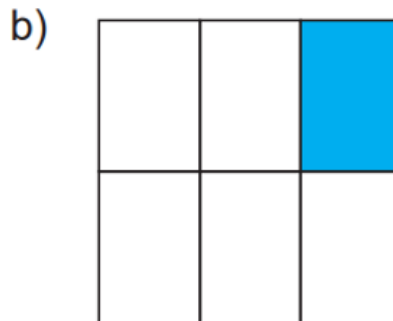
Vở bài tập Toán lớp 3 Tập 1 trang 38 Bài 1:

Đ, S
------

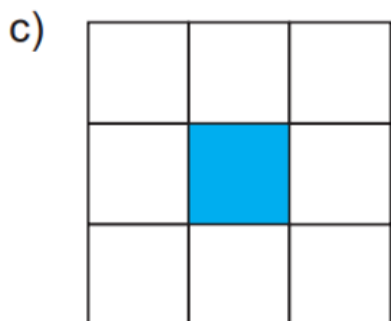
?



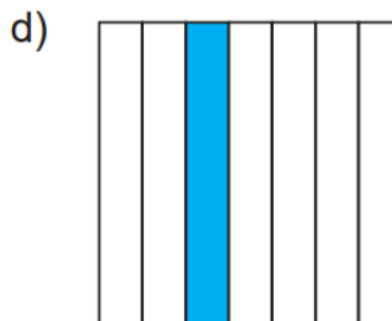
Đã tô màu  $\frac{1}{8}$  hình vuông.



Đã tô màu  $\frac{1}{5}$  hình vuông.



Đã tô màu  $\frac{1}{9}$  hình vuông.



Đã tô màu  $\frac{1}{7}$  hình vuông.

**Lời giải:**

a) Hình a được chia thành 8 phần bằng nhau. Tô màu 1 phần.

Vậy đã tô màu vào  $\frac{1}{8}$  hình vuông

Do đó câu a đúng

b) Hình b được chia thành 6 phần bằng nhau. Tô màu 1 phần.

Vậy đã tô màu vào  $\frac{1}{6}$  hình vuông.

Do đó câu b sai.

c) Hình c được chia thành 9 phần bằng nhau. Tô màu 1 phần.

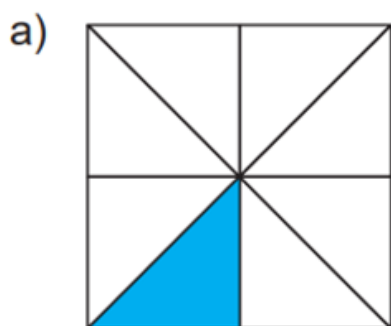
Vậy đã tô màu vào 1919 hình vuông.

Do đó câu c đúng.

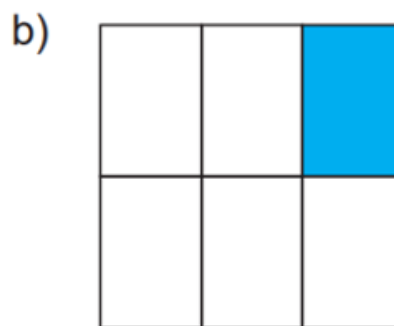
d) Hình d được chia thành 7 phần bằng nhau. Tô màu 1 phần.

Vậy đã tô màu vào 1717 hình vuông.

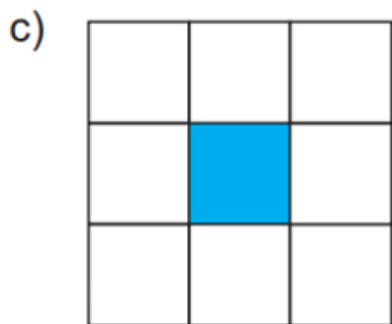
Ta điền vào ô trống như sau:



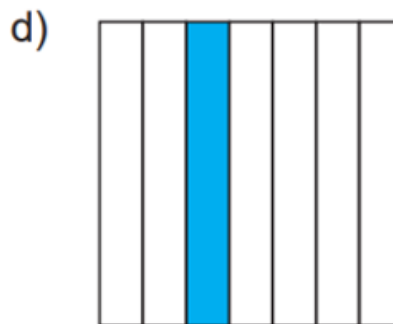
Đã tô màu  $\frac{1}{8}$  hình vuông.



Đã tô màu  $\frac{1}{5}$  hình vuông.



Đã tô màu  $\frac{1}{9}$  hình vuông.



Đã tô màu  $\frac{1}{7}$  hình vuông.

**Vở bài tập Toán lớp 3 Tập 1 trang 39 Bài 2:** Khoanh vào chữ đặt trước câu trả lời đúng.

a) Đã tô màu 1717 hình nào?



b) Đã tô màu 1919 hình nào?



**Lời giải:**

a) Đáp án đúng là: C

b) Đáp án đúng là: D

+ Hình A được chia thành 6 phần bằng nhau. Tô màu 1 phần.

Vậy đã tô màu vào  $1616$  hình tròn.

+ Hình B được chia thành 8 phần bằng nhau. Tô màu 1 phần.

Vậy đã tô màu vào  $1818$  hình tròn.

+ Hình C được chia thành 7 phần bằng nhau. Tô màu 1 phần.

Vậy đã tô màu vào  $1717$  hình tròn.

+ Hình d được chia thành 9 phần bằng nhau. Tô màu 1 phần.

Vậy đã tô màu vào  $1919$  hình tròn.

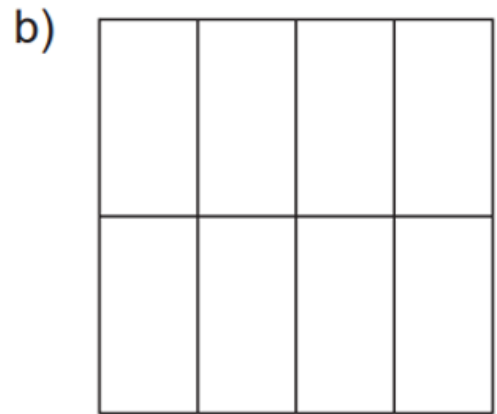
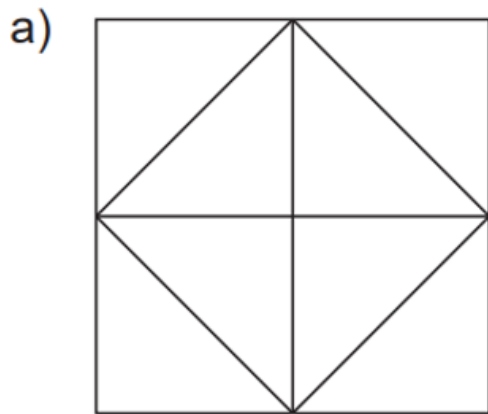


Vậy Hình C đã tô màu vào 1717 hình tròn;

Hình D đã tô màu vào 1919 hình tròn.

**Vở bài tập Toán lớp 3 Tập 1 trang 39 Bài 3:**

Tô màu 1818 mỗi hình sau.

**Lời giải:**

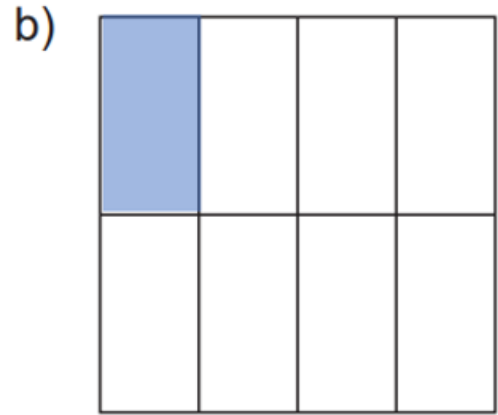
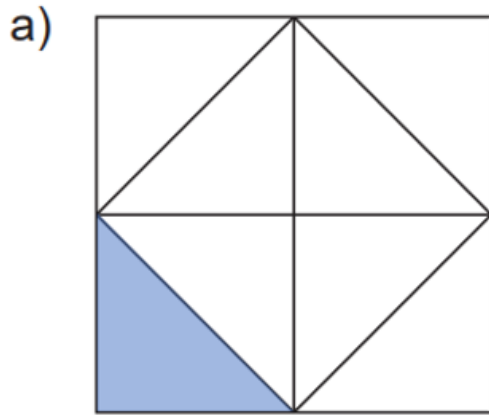
+ Hình 1 gồm 8 tam giác bằng nhau.

Như vậy cần tô màu 1 ô vuông để được 1818 hình 1.

+ Hình 2 gồm 8 hình chữ nhật bằng nhau.

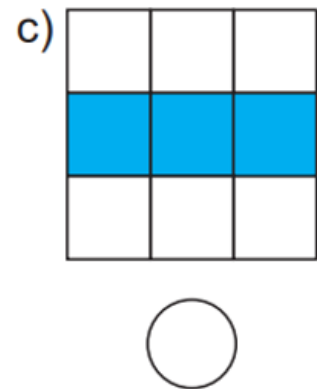
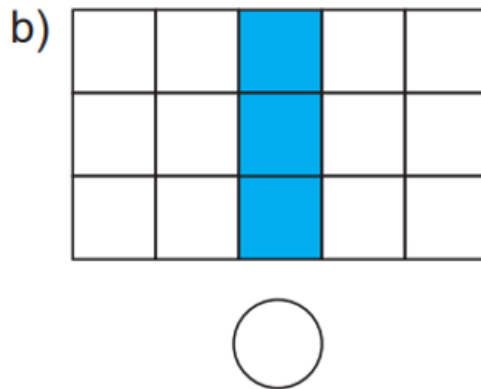
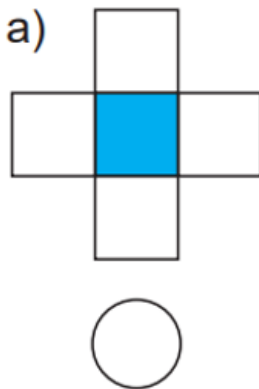
Như vậy cần tô màu 1 hình chữ nhật để được 1818 hình 2.

Ta tô màu như sau:



**Vở bài tập Toán lớp 3 Tập 1 trang 40 Bài 4:**

Viết dấu “x” vào ô trống dưới hình đã tô màu 1/5 số hình tròn của hình đó.



**Lời giải:**

a) Hình a được chia thành 5 phần bằng nhau. Tô màu 1 phần.

Vậy đã tô màu vào 1/5 hình a.

b) Hình b gồm 15 hình vuông, 1/5 số hình vuông đó là:

$$15 : 5 = 3 \text{ (hình).}$$

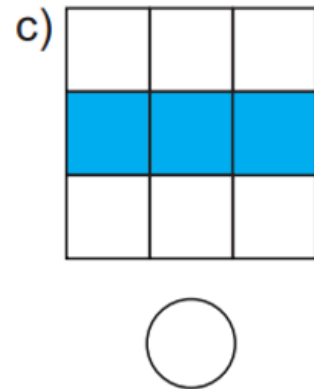
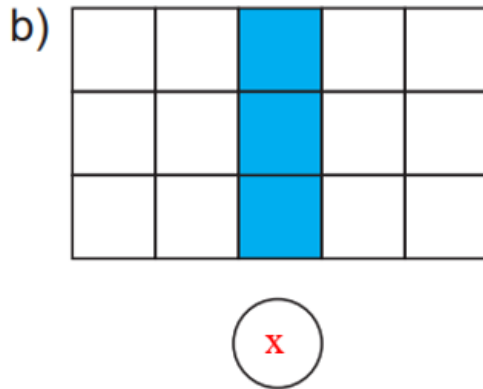
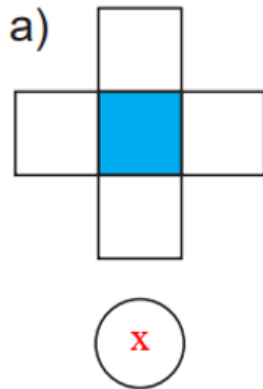
Vậy đã tô màu vào 3 hình b.

c) Hình c gồm 9 ô vuông, có 3 ô vuông được tô màu.

Vậy đã tô màu vào 1313 hình c.


Kết luận: Hình a và hình b đã tô màu 1515 số ô vuông của hình đó.

Ta viết dấu "x" vào ô trống như sau:




**Vở bài tập Toán lớp 3 Tập 1 trang 40 Bài 5:**

a) Tô màu 1212 số cá rồi viết số thích hợp vào ô trống.



1212 số cá là  con cá.

b) Tô màu 1414 số bông hoa viết số thích hợp vào ô trống.



1414 số bông hoa là  bông hoa.

**Lời giải:**

a) Có tất cả 6 con cá. 1212 số con cá là:

$$6 : 2 = 3 \text{ (con cá)}$$

b) Có tất cả 12 bông hoa, 1414 số bông hoa là

$$12 : 4 = 3 \text{ (bông hoa)}$$

Ta tô như sau:

