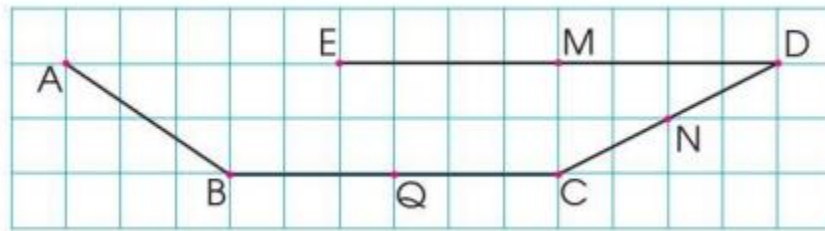


Hướng dẫn giải các bài tập trang 109, 110 Ôn tập về hình học và đo lường sách giáo khoa Toán lớp 3 bộ sách Cánh diều (CD) thuộc chương trình mới chi tiết và chính xác nhất sẽ là nguồn tài liệu tham khảo hữu ích dành cho phụ huynh và các em học sinh.

Giải Toán Cánh diều lớp 3 Ôn tập về hình học và đo lường

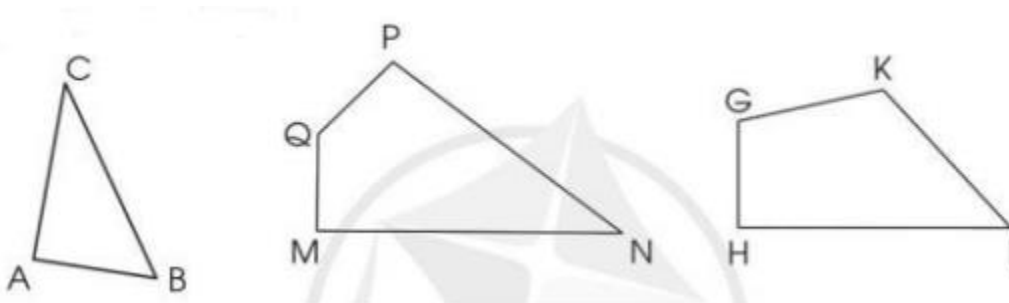
Toán lớp 3 Tập 2 trang 109 Luyện tập 1: Nêu tên trung điểm của các đoạn thẳng BC, CD và DE:



Lời giải:

- Trung điểm của đoạn thẳng BC là điểm Q.
- Trung điểm của đoạn thẳng CD là điểm N.
- Trung điểm của đoạn thẳng DE là điểm M.

Toán lớp 3 Tập 2 trang 109 Luyện tập 2: Cho các hình sau:



- a) Nêu tên hình và các đỉnh, các cạnh, các góc có trong mỗi hình trên.
- b) Dùng ê ke để kiểm tra trong mỗi hình trên có mấy góc vuông.

Lời giải:

a) Tam giác ABC có:

- Ba đỉnh: A, B, C

- Ba cạnh: AB, AC, BC

- Ba góc: A, B, C

Tứ giác MNPQ có:

- Các đỉnh: M, N, P, Q.

- Các cạnh: MN, NP, PQ, QM.

- Các góc: M, N, P, Q

Tứ giác GHIK có:

- Các đỉnh: G, H, I, K.

- Các cạnh: GH, HI, IK, KG.

- Các góc: G, H, I, K

b) Tam giác ABC có 1 góc vuông.

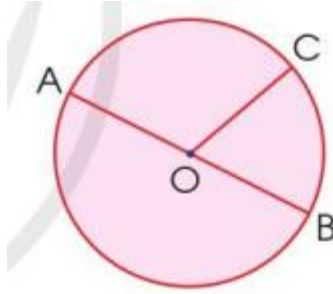
Tứ giác MNPQ có 2 góc vuông.

Tứ giác GHIK có 1 góc vuông.

Toán lớp 3 Tập 2 trang 109 Luyện tập 3: Chọn chữ đặt trước câu trả lời đúng:

Lời giải:

Các bán kính của hình tròn bên là:



- A. OC, AB.
- B. OA, OC, AB.
- C. OA, OB, OC.
- D. OA, OB, AB.

Lời giải:

Các bán kính của hình tròn bên là: OA, OB, OC

Chọn C.

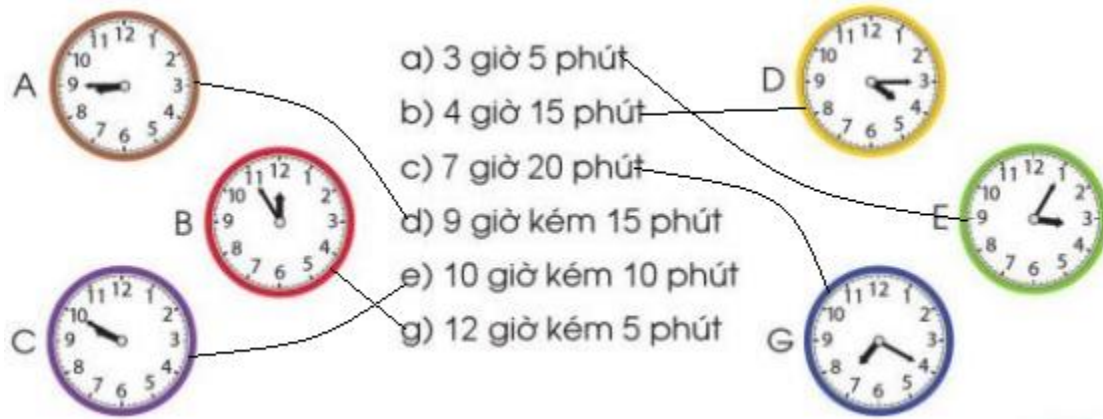
Toán lớp 3 Tập 2 trang 109 Luyện tập 4: Mỗi đồng hồ sau tương ứng với cách đọc nào?



- a) 3 giờ 5 phút
- b) 4 giờ 15 phút
- c) 7 giờ 20 phút
- d) 9 giờ kém 15 phút
- e) 10 giờ kém 10 phút
- g) 12 giờ kém 5 phút



Lời giải:



Toán lớp 3 Tập 2 trang 110 Luyện tập 5: Chọn chữ đặt trước đáp án đúng:



a) Khối hộp chữ nhật có:

- A. 16 đỉnh.
- B. 12 đỉnh
- C. 8 đỉnh.
- D. 24 đỉnh.

b) Khối lập phương có:

- A. 4 mặt.
- B. 6 mặt.
- C. 8 mặt.
- D. 12 mặt.

c) Khối hộp chữ nhật có:

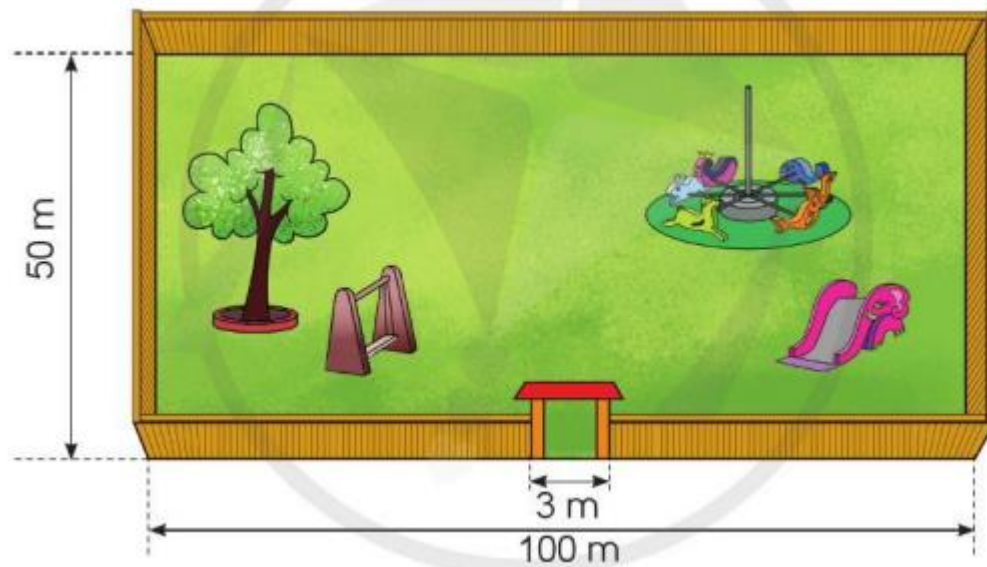
- A. 8 cạnh.
- B. 24 cạnh.
- C. 8 cạnh.
- D. 12 cạnh.

Lời giải:

Khối hộp chữ nhật và khối lập phương có 6 mặt, 8 đỉnh, 12 cạnh.

- a) Đáp án C.
- b) Đáp án B.
- c) Đáp án D.

Toán lớp 3 Tập 2 trang 110 Luyện tập 6: Người ta muốn làm hàng rào quanh một cái sân hình chữ nhật có kích thước như hình vẽ sau:



Hỏi cần mua bao nhiêu mét rào để đủ rào cái sân trên? Biết rằng phân để làm cổng rộng 3 m.

Lời giải:

Chu vi của cái sân hình chữ nhật là:

$$(50 + 100) \times 2 = 300 \text{ (m)}$$

Cần mua số mét rào là:

$$300 - 3 = 297 \text{ (m)}$$

Đáp số: 297 mét rào.

Toán lớp 3 Tập 2 trang 110 Vận dụng 7: Minh Ánh bắt đầu tập đàn lúc 9 giờ kém 10 phút và tập đàn trong 45 phút. Hỏi Minh Ánh tập đàn xong lúc mấy giờ?



Lời giải:

9 giờ kém 10 phút hay 8 giờ 50 phút

Minh Ánh tập đàn xong lúc:

$$8 \text{ giờ } 50 \text{ phút} + 45 \text{ phút} = 9 \text{ giờ } 35 \text{ phút.}$$

Đáp số: 9 giờ 35 phút.