

Hướng dẫn giải các bài tập trang 100, 101 Em ôn lại những gì đã học sách giáo khoa Toán lớp 3 bộ sách Cánh diều (CD) thuộc chương trình mới chi tiết và chính xác nhất sẽ là nguồn tài liệu tham khảo hữu ích dành cho phụ huynh và các em học sinh.

Giải Toán Cánh diều lớp 3 Em ôn lại những gì đã học

Toán lớp 3 Tập 2 trang 100 Luyện tập 1: Đặt tính rồi tính:

a)

$$40\ 279 + 1\ 620$$

$$78\ 175 - 2\ 155$$

$$18\ 043 + 42\ 645$$

$$58\ 932 - 21\ 316$$

b)

$$2\ 123 \times 4$$

$$12\ 081 \times 7$$

$$7\ 540 : 5$$

$$12\ 419 : 2$$

Lời giải:

a)

$$\begin{array}{r} 40279 \\ + 1620 \\ \hline 41899 \end{array}$$

$$\begin{array}{r} 78175 \\ - 2155 \\ \hline 76020 \end{array}$$

$$\begin{array}{r} 18043 \\ + 42645 \\ \hline 60688 \end{array}$$

$$\begin{array}{r} 58932 \\ - 21316 \\ \hline 37616 \end{array}$$

b)

$$\begin{array}{r} 2123 \\ \times 4 \\ \hline 8492 \end{array}$$

$$\begin{array}{r} 12081 \\ \times 7 \\ \hline 84567 \end{array}$$

$$\begin{array}{r} 7540 \overline{) 5} \\ 25 \overline{) 1508} \\ 04 \\ 40 \\ 0 \end{array}$$

$$\begin{array}{r} 12419 \overline{) 2} \\ 04 \overline{) 6209} \\ 01 \\ 19 \\ 1 \end{array}$$

Toán lớp 3 Tập 2 trang 100 Luyện tập 2:

Tính giá trị của các biểu thức:

$$(12726 + 10618) \times 2$$

$$54629 - 48364 : 4$$

Lời giải:

$$(12726 + 10618) \times 2 \quad 54629 - 48364 : 4$$

$$= 23344 \times 2 \quad = 54629 - 12091$$

$$= 46688 \quad = 42538$$

Toán lớp 3 Tập 2 trang 100 Luyện tập 3:

a) Khung của một bức tranh có dạng hình vuông với cạnh 75 cm. Hỏi chu vi của khung bức tranh đó bằng bao nhiêu mét?



b) Một mảnh hoa văn trang trí trên tấm vải thổ cẩm có dạng hình chữ nhật với chiều dài 21 cm, chiều rộng 9 cm. Tính diện tích mảnh hoa văn đó.



Lời giải:

a) Chu vi của khung bức tranh đó bằng:

$$75 \times 4 = 300 \text{ (cm)}$$

$$\text{Đổi } 300 \text{ cm} = 3 \text{ m}$$

Đáp số: 3 m

b) Diện tích mảnh hoa văn đó bằng:

$$21 \times 9 = 189 \text{ (cm}^2\text{)}$$

Đáp số: 189 cm²

Toán lớp 3 Tập 2 trang 101 Luyện tập 4: Bảng sau cho biết số trường tiểu học ở Việt Nam từ năm 2015 đến năm 2019:

Năm học	2015 – 2016	2016 – 2017	2017 – 2018	2018 – 2019
Số trường tiểu học ở Việt Nam	15 254	15 052	14 937	13 970

Đọc bảng trên và trả lời các câu hỏi:

- Năm học nào có số lượng trường tiểu học nhiều nhất?
- Số lượng trường tiểu học năm học 2017 – 2018 ít hơn số lượng trường tiểu học năm học 2016 – 2017 là bao nhiêu trường?
- Làm tròn số trường tiểu học ở Việt Nam trong bảng trên đến hàng nghìn và đọc các số vừa làm tròn.
- Tuấn nhận xét: “Số lượng trường tiểu học ở Việt Nam giảm dần qua các năm học”. Em có đồng ý với nhận xét của Tuấn không?

Lời giải:

Quan sát bảng thống kê, em thấy:

Năm học 2015 – 2016 có 15 254 trường tiểu học.

Năm học 2016 – 2017 có 15 052 trường tiểu học.

Năm học 2017 – 2018 có 14 937 trường tiểu học.

Năm học 2018 – 2019 có 13 970 trường tiểu học.

- Vì $13\,970 < 14\,937 < 15\,052 < 15\,254$ nên năm học 2015 – 2016 có số lượng trường tiểu học nhiều nhất.
- Số lượng trường tiểu học năm học 2017 – 2018 ít hơn số lượng trường tiểu học năm học 2016 – 2017 là:

$$15052 - 14937 = 115 \text{ (trường)}$$

c) Số trường tiểu học ở Việt Nam năm học 2015 – 2016 làm tròn đến hàng nghìn là 15 000 trường (mười lăm nghìn).

Số trường tiểu học ở Việt Nam năm học 2016 – 2017 làm tròn đến hàng nghìn là 15 000 trường (mười lăm nghìn).

Số trường tiểu học ở Việt Nam năm học 2017 – 2018 làm tròn đến hàng nghìn là 15 000 trường (mười lăm nghìn).

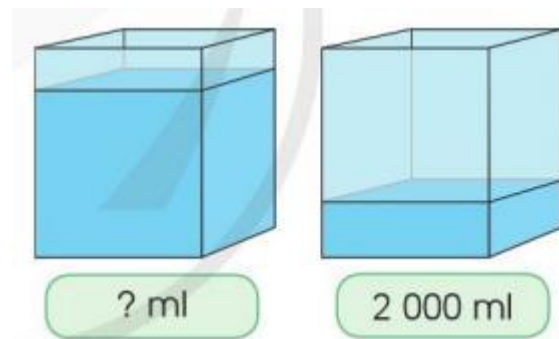
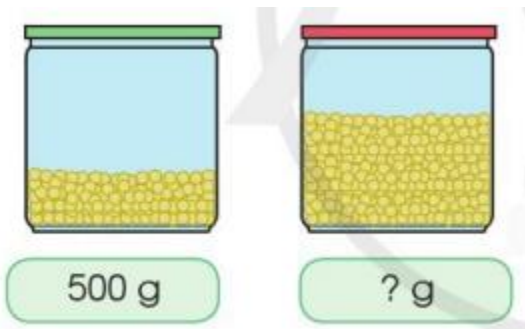
Số trường tiểu học ở Việt Nam năm học 2018 – 2019 làm tròn đến hàng nghìn là 14 000 trường (mười bốn nghìn).

d) Vì $15\ 254 > 15\ 052 > 14\ 937 > 13\ 970$ nên ta sắp xếp các năm học có số lượng trường tiểu học theo thứ từ lớn đến bé như sau: Năm học 2015 – 2016; Năm học 2016 – 2017; Năm học 2017 – 2018; Năm học 2018 – 2019

Trả lời: Em đồng ý với nhận xét của Tuấn.


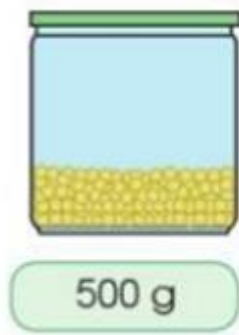
Toán lớp 3 Tập 2 trang 101 Luyện tập 5:

a) Ước lượng số gam đậu tương trong lọ đựng nhiều hơn b) Ước lượng lượng nước trong bể lớn hơn

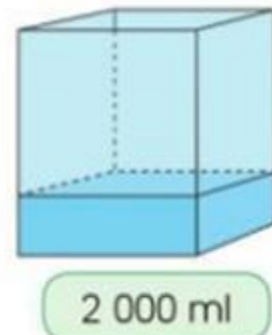
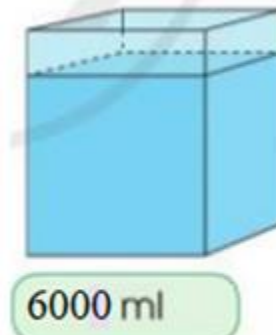


Lời giải:

a)



b)

**Toán lớp 3 Tập 2 trang 101 Vận dụng 6:**

a) Chọn hai đồ vật em muốn mua trong hình dưới đây và tính số tiền cần trả.



b) Với 100 000 đồng em hãy lựa chọn những đồ vật để mua được nhiều loại nhất.

Lời giải:

a) Học sinh tự thực hành.

b) Với 100000 đồng ta có thể mua quyển sách hoặc khối rubik thì sẽ mua được nhiều loại nhất.