

Hướng dẫn giải các bài tập trang 47, 48 Em ôn lại những gì đã học sách giáo khoa Toán lớp 3 bộ sách Cánh diều (CD) thuộc chương trình mới chi tiết và chính xác nhất sẽ là nguồn tài liệu tham khảo hữu ích dành cho phụ huynh và các em học sinh.

Giải Toán Cánh diều lớp 3 Em ôn lại những gì đã học

Toán lớp 3 Tập 2 trang 47 Luyện tập 1:

a) Đọc mỗi số sau (theo mẫu):



b) Trong các số ở câu a, số nào bé nhất? Số nào lớn nhất?

Lời giải:

a) 96821:

- Chín mươi sáu nghìn tám trăm hai mươi một.

- Số 96821 gồm 9 chục nghìn 6 nghìn 8 trăm 2 chục 1 đơn vị.

95070:

- Chín mươi lăm nghìn không trăm bảy mươi.

- Số 95070 gồm 9 chục nghìn 5 nghìn 7 chục.

95031:

- Chín mươi lăm nghìn không trăm ba mươi mốt.

- Số 95031 gồm 9 chục nghìn 5 nghìn 3 chục 1 đơn vị.

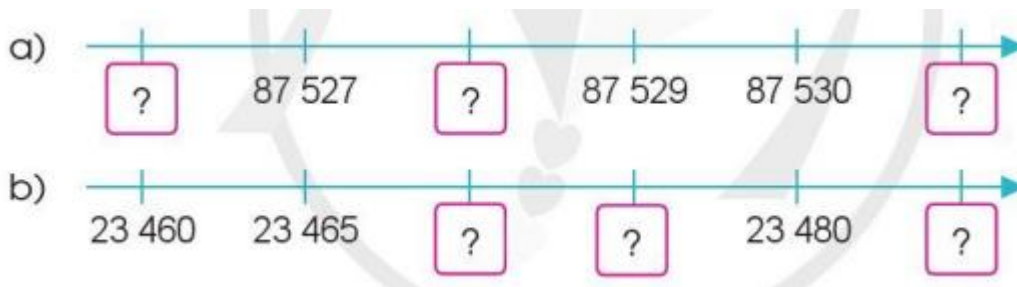
92643:

- Chín mươi hai nghìn sáu trăm bốn mươi ba.

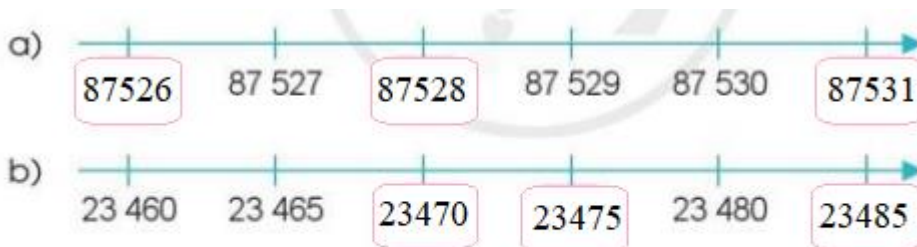
- Số 92643 gồm 9 chục nghìn 2 nghìn 6 trăm 4 chục 3 đơn vị.

b) Số bé nhất là số 92643 và số lớn nhất là 96821.

Toán lớp 3 Tập 2 trang 47 Luyện tập 2: Số?



Lời giải:



Toán lớp 3 Tập 2 trang 47 Luyện tập 3: Làm tròn giá bán mỗi quyển sách sau đến hàng nghìn đồng:



54 200 đồng



47 800 đồng



26 250 đồng

Lời giải:

- “Truyện cổ tích Việt Nam hay nhất” có giá 54 200 đồng.

Làm tròn số 54 200 đến hàng nghìn em được số 54 000.

- Truyện “Đế mèn phiêu lưu ký” có giá 47 800 đồng.

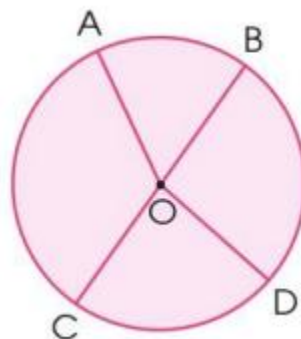
Làm tròn số 47 800 đến hàng nghìn em được số 48 000.

- Truyện “Góc sân và khoảng trời” có giá 26 250 đồng.

Làm tròn số 26 250 đến hàng nghìn em được số 26 000 đồng.

Toán lớp 3 Tập 2 trang 48 Luyện tập 4:

a) Nêu tâm, đường kính, bán kính của hình tròn sau:



b) Chọn chữ đặt trước câu đúng:

A. O là trung điểm của BC.

B. O là trung điểm của AD.

Lời giải:

a) Đường tròn tâm O:

- Bán kính OA, OB, OC, OD.


- Đường kính BC.

b) Vì điểm O nằm giữa hai điểm B và C; $OB = OC$ nên điểm O là trung điểm của BC.

Chọn A.

Toán lớp 3 Tập 2 trang 48 Luyện tập 5:

a) Mỗi đồng hồ sau chỉ mấy giờ?



b) Chọn chữ đặt trước câu trả lời đúng:

Ngày 30 tháng 8 là thứ Ba thì ngày 2 tháng 9 cùng năm đó là:

A. Thứ Tư


B. Thứ Năm

C. Thứ Sáu

D. Thứ Bảy

Lời giải:

a)



2 giờ 40 phút 11 giờ 48 phút 3 giờ 20 phút 5 giờ 30 phút.

b) Em đếm:

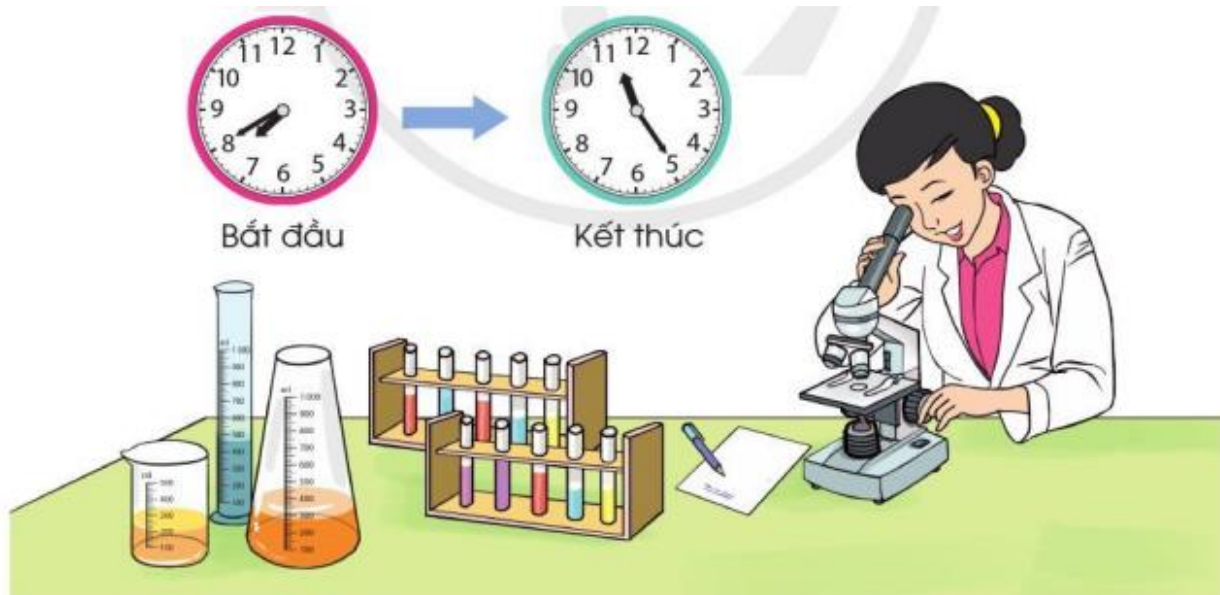
30 tháng 8 là Thứ Ba

31 tháng 8 là Thứ Tư

1 tháng 9 là Thứ Bảy

2 tháng 9 là Chủ nhật

Toán lớp 3 Tập 2 trang 48 Vận dụng 6: Quan sát tranh, trả lời câu hỏi:



Chị Huyền bắt đầu làm việc lúc mấy giờ và kết thúc lúc mấy giờ?

Lời giải:

Chị Huyền bắt đầu làm việc lúc 7 giờ 40 phút và kết thúc lúc 11 giờ 25 phút.