

Hướng dẫn giải các bài tập trang 41, 42, 43 Thực hành xem đồng hồ (Tiếp theo) sách giáo khoa Toán lớp 3 bộ sách Cánh diều (CD) thuộc chương trình mới chi tiết và chính xác nhất sẽ là nguồn tài liệu tham khảo hữu ích dành cho phụ huynh và các em học sinh.

Giải Toán Cánh diều lớp 3 Thực hành xem đồng hồ (Tiếp theo)

Toán lớp 3 Tập 2 trang 41 Luyện tập 1: Mỗi đồng hồ sau chỉ mấy giờ?



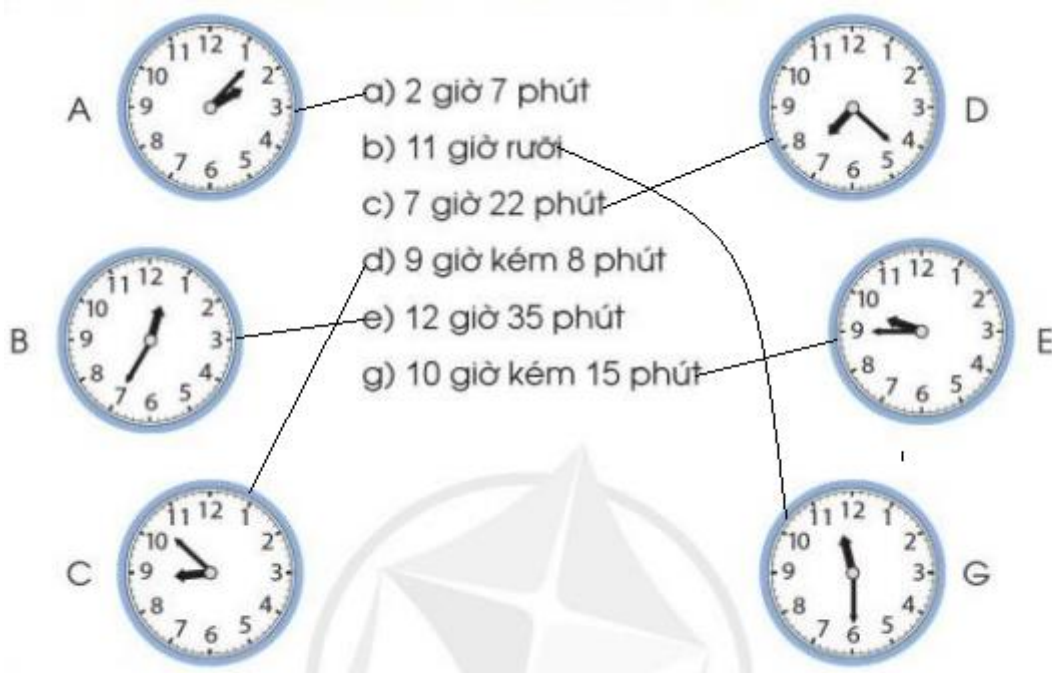
Lời giải:

- Đồng hồ xanh dương chỉ 5 giờ 8 phút.
- Đồng hồ da cam chỉ 11 giờ 21 phút.
- Đồng hồ xanh lá cây chỉ 9 giờ 4 phút.
- Đồng hồ tím chỉ 8 giờ 15 phút.
- Đồng hồ nâu chỉ 11 giờ 53 phút.
- Đồng hồ đỏ chỉ 6 giờ 40 phút.

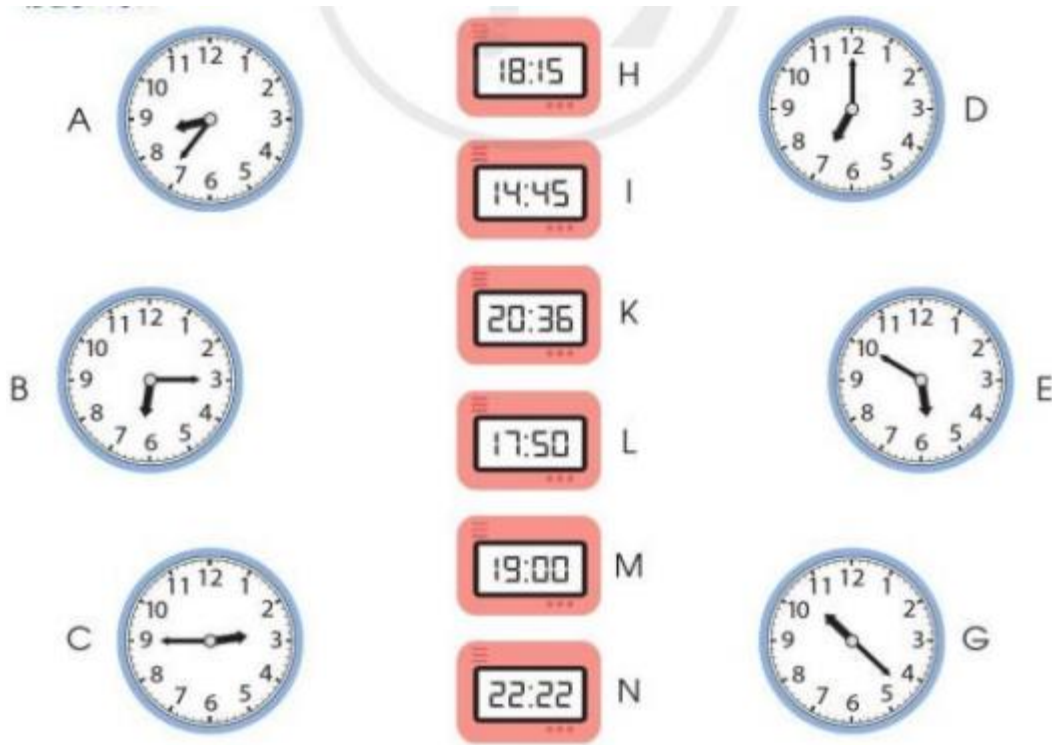
Toán lớp 3 Tập 2 trang 42 Luyện tập 2: Mỗi đồng hồ sau tương ứng với cách đọc nào?



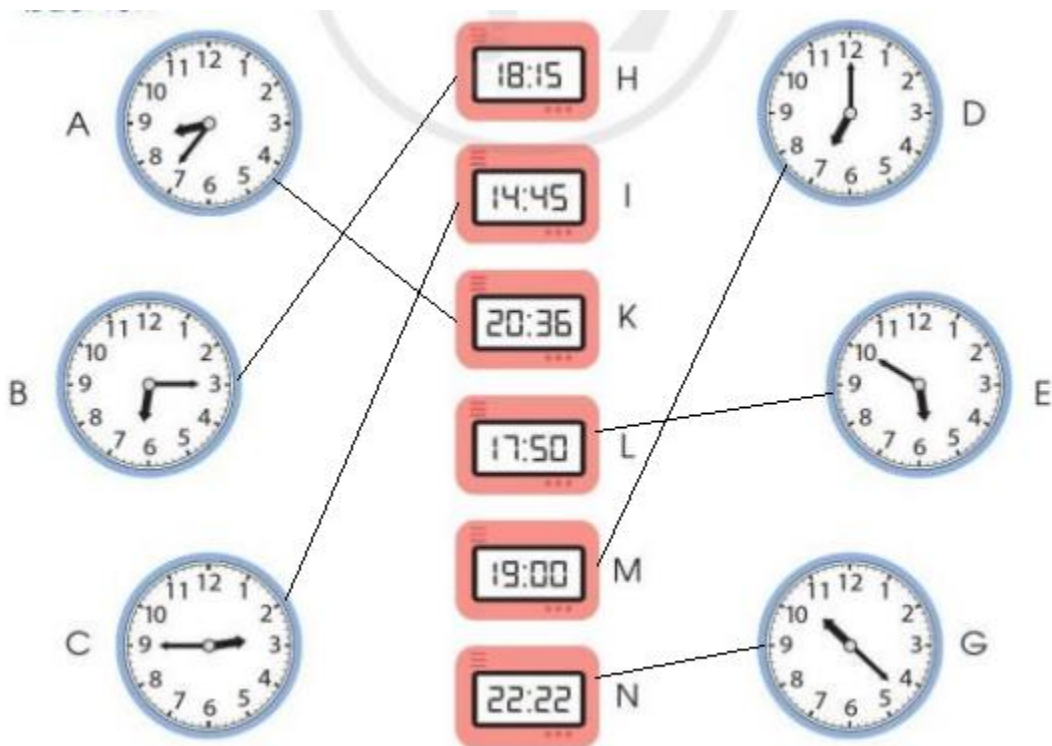
Lời giải:



Toán lớp 3 Tập 2 trang 42 Luyện tập 3: Hai đồng hồ nào dưới đây chỉ cùng thời gian vào buổi chiều hoặc buổi tối?



Lời giải:



Toán lớp 3 Tập 2 trang 43 Luyện tập 4: Quan sát tranh vẽ rồi trả lời các câu hỏi:

a) Lan vẽ tranh trong thời gian bao lâu?



b) Hai bố con đã làm bánh trong thời gian bao lâu?



Lời giải:

a) Quan sát hình vẽ, em thấy: Lan vẽ tranh từ 9 giờ 35 phút đến 10 giờ.

Trả lời: Lan vẽ tranh trong thời gian 25 phút.

b)



Từ lúc bắt đầu đến lúc luộc bánh mất 20 phút

Từ lúc luộc bánh đến khi bánh chín mất 15 phút.

Toán lớp 3 Tập 2 trang 43 Vận dụng 5: Trò chơi “Đố bạn”



Lời giải:

Học sinh tự thực hành.