


Hướng dẫn giải các bài tập trang 31, 32, 33 Làm tròn số đến hàng nghìn, hàng chục nghìn sách giáo khoa Toán lớp 3 bộ sách Cánh diều (CD) thuộc chương trình mới chi tiết và chính xác nhất sẽ là nguồn tài liệu tham khảo hữu ích dành cho phụ huynh và các em học sinh.

Giải Toán Cánh diều lớp 3 Làm tròn số đến hàng nghìn, hàng chục nghìn

Toán lớp 3 Tập 2 trang 31 Luyện tập 1: Làm tròn các số sau đến hàng nghìn:

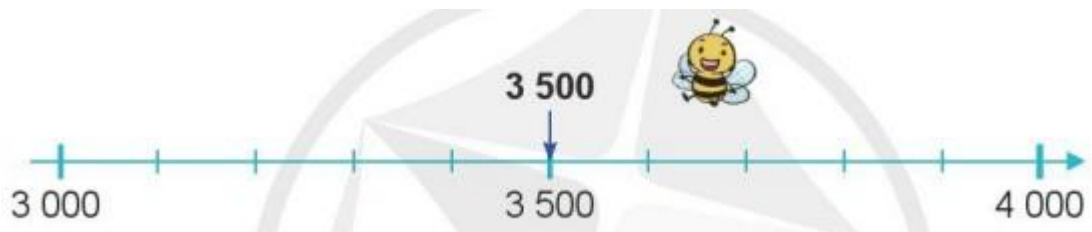
a) Số 3 400:



b) Số 8 900:



c) Số 3 500:



Lời giải:

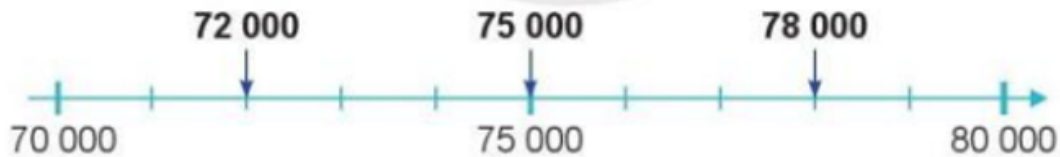
a) Số 3400 làm tròn đến hàng nghìn được số 3000.

b) Số 8900 làm tròn đến hàng nghìn được số 9000.

c) Số 3500 làm tròn đến hàng nghìn được số 4000.

Toán lớp 3 Tập 2 trang 31 Luyện tập 2: Làm tròn các số sau đến hàng chục nghìn (theo mẫu):

Mẫu: Làm tròn các số 72000, 78000, 75000 đến hàng chục nghìn



- Ta thấy: Số 72000 gần 70000 hơn số 80000.

Vậy: Khi làm tròn số 72000 đến hàng chục nghìn, ta được số 70000.


- Ta thấy: Số 78000 gần với số 80000 hơn số 70000.

Vậy: Khi làm tròn số 78000 đến hàng chục nghìn, ta được số 80000.


- Ta thấy: Số 75000 cách đều hai số 70000 và 80000.

Quy ước: Khi làm tròn số 75000 đến hàng chục nghìn, ta được số 80000.

a) Số 42 000:



b) Số 87 000:



c) Số 75 000:



Lời giải:

a) Ta thấy: Số 42 000 gần 40 000 hơn số 50 000.

Vậy: Khi làm tròn số 42 000 đến hàng chục nghìn, ta được số 40 000.

b) Ta thấy: Số 87 000 gần 90 000 hơn số 80 000.

Vậy: Khi làm tròn số 87 000 đến hàng chục nghìn, ta được số 90 000.

c) Ta thấy: Số 75 000 cách đều hai số 70 000 và 80 000.

Vậy: Khi làm tròn số 75 000 đến hàng chục nghìn, ta được số 80 000.

Toán lớp 3 Tập 2 trang 32 Luyện tập 3: Thực hiện các yêu cầu sau:



a) Làm tròn số 1234 đến hàng chục.

b) Làm tròn số 1234 đến hàng trăm.

c) Làm tròn số 1234 đến hàng nghìn.

Lời giải:

a) Làm tròn số 1234 đến hàng chục ta được số 1230.

b) Làm tròn số 1234 đến hàng trăm ta được số 1200.

c) Làm tròn số 1234 đến hàng nghìn ta được số 1000.

Toán lớp 3 Tập 2 trang 32 Luyện tập 4: Chọn chữ đặt trước câu trả lời đúng:

a) Làm tròn số 5490 đến hàng nghìn ta được:

A. 5450

B. 5500

C. 5000

D. 5400

b) Làm tròn số 9628 đến hàng trăm ta được:

A. 9630

B. 9620

C. 9700

D. 9600

Lời giải:

a) Đáp án C.

b) Đáp án D.

Toán lớp 3 Tập 2 trang 33 Luyện tập 5: Quan sát bảng sau rồi nói (theo mẫu):

Quãng đường	Chiều dài
-------------	-----------

Hà Nội – Lào Cai	286 km
Hà Nội – Lạng Sơn	154 km
Hà Nội – Hà Nam	63 km
Thành phố Hồ Chí Minh – Long An	47 km
Thành phố Hồ Chí Minh – An Giang	244 km
Thành phố Hồ Chí Minh – Kiên Giang	248 km

Mẫu: Quãng đường từ Hà Nội đến Lào Cai dài khoảng 290 km.

- a) Quãng đường từ Hà Nội đến Lạng Sơn dài khoảng ? km.
- b) Quãng đường từ Hà Nội đến Hà Nam dài khoảng ? km.
- c) Quãng đường từ Thành phố Hồ Chí Minh đến Long An dài khoảng ? km.
- d) Quãng đường từ Thành phố Hồ Chí Minh đến An Giang dài khoảng ? km.
- e) Quãng đường từ Thành phố Hồ Chí Minh đến Kiên Giang dài khoảng ? km.

Lời giải:

- a) Quãng đường từ Hà Nội đến Lạng Sơn dài khoảng 150 km.
- b) Quãng đường từ Hà Nội đến Hà Nam dài khoảng 60 km.
- c) Quãng đường từ Thành phố Hồ Chí Minh đến Long An dài khoảng 50 km.
- d) Quãng đường từ Thành phố Hồ Chí Minh đến An Giang dài khoảng 240 km.
- e) Quãng đường từ Thành phố Hồ Chí Minh đến Kiên Giang dài khoảng 250 km.

Toán lớp 3 Tập 2 trang 33 Vận dụng 6: Hiện nay, Việt Nam đã có những chuyến bay thẳng từ Thủ đô Hà Nội đến nhiều thủ đô của các quốc gia khác.

Để bay thẳng từ Thủ đô Hà Nội đến Thủ đô Pa-ri của nước Pháp, máy bay phải vượt qua quãng đường dài khoảng 9 190 km. Em hãy làm tròn độ dài quãng đường này đến hàng nghìn.

Lời giải:

Ta thấy: Số 9 190 gần 9 000 hơn số 10 000.

Làm tròn độ dài quãng đường bay từ Thủ đô Hà Nội đến Thủ đô Pa-ri của nước Pháp ta được 9000 km.