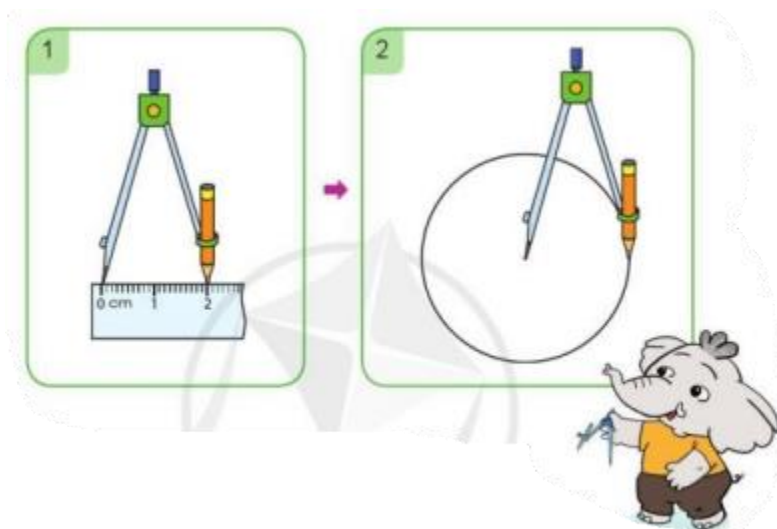


Hướng dẫn giải các bài tập trang 26, 27 Vẽ trang trí hình tròn sách giáo khoa Toán lớp 3 bộ sách Cánh diều (CD) thuộc chương trình mới chi tiết và chính xác nhất sẽ là nguồn tài liệu tham khảo hữu ích dành cho phụ huynh và các em học sinh.

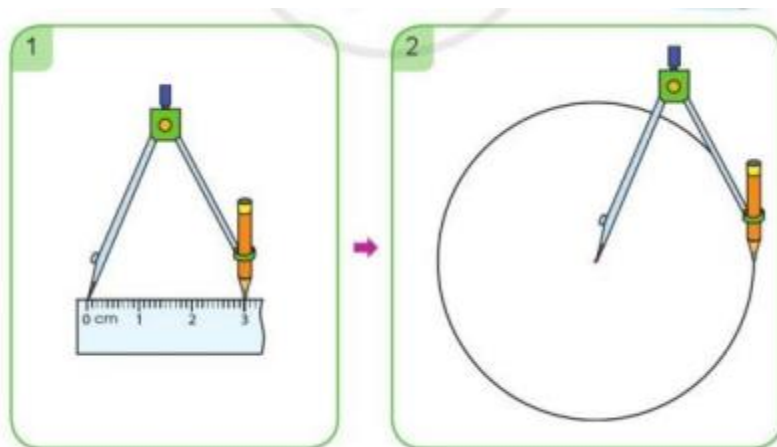
Giải Toán Cánh diều lớp 3 Vẽ trang trí hình tròn

Toán lớp 3 Tập 2 trang 26 Luyện tập 1: Sử dụng compa để vẽ hình tròn:

a) Vẽ hình tròn bán kính 2 cm:



b) Vẽ hình tròn bán kính 3 cm:



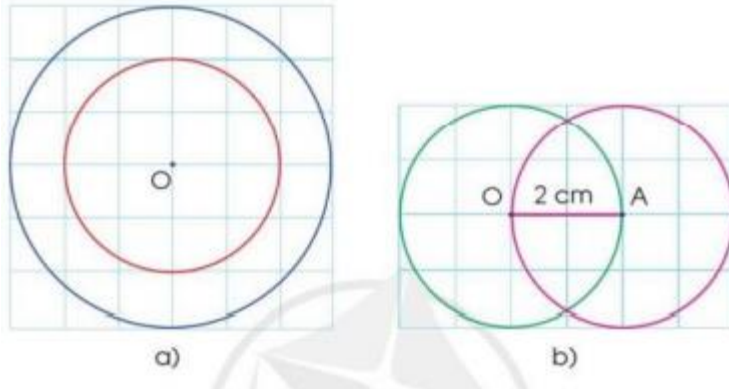
c) Vẽ hình tròn bán kính 4 cm.

Lời giải:

Học sinh tự thực hành.

Toán lớp 3 Tập 2 trang 27 Luyện tập 2: Quan sát mỗi hình mẫu dưới đây và thực hiện các yêu cầu:

- Nêu cách vẽ hình.
- Thực hành vẽ hình vào vở.



Lời giải:

- Nêu cách vẽ:

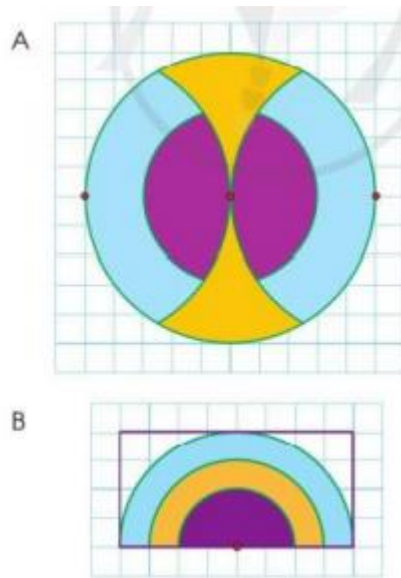
a) Vẽ đường tròn tâm O bán kính 2 ô ly. Sau đó mở rộng compa vẽ đường tròn tâm O bán kính 3 ô ly.

b) Vẽ đường tròn tâm O bán kính OA dài 2 cm. Sau đó giữ nguyên compa vẽ tiếp đường tròn tâm A bán kính AO.

- Học sinh tự thực hành.

Toán lớp 3 Tập 2 trang 27 Vận dụng 3:

a) Tìm cách vẽ trang trí như các hình dưới đây và tô màu theo ý thích của em:



b) Vẽ các hình tròn và trang trí theo ý thích của em.

Lời giải:

Học sinh tự thực hành.