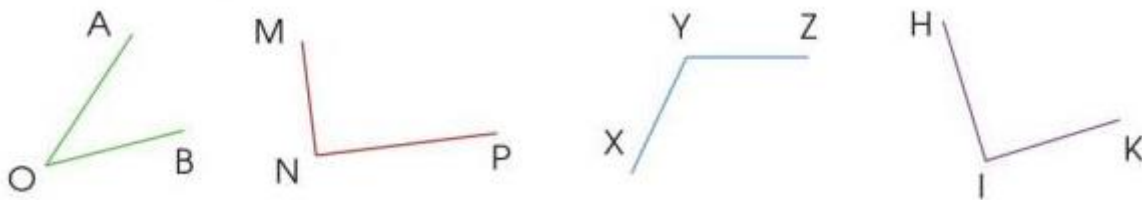


Hướng dẫn giải các bài tập trang 119, 120 Ôn tập về hình học và đo lường sách giáo khoa Toán lớp 3 bộ sách Cánh diều (CD) thuộc chương trình mới chi tiết và chính xác nhất sẽ là nguồn tài liệu tham khảo hữu ích dành cho phụ huynh và các em học sinh.

### ***Giải Toán Cánh diều lớp 3 Ôn tập về hình học và đo lường***

**Toán lớp 3 Tập 1 trang 119 Luyện tập 1:** Dùng ê ke kiểm tra rồi nêu tên góc vuông, góc không vuông trong các hình sau:



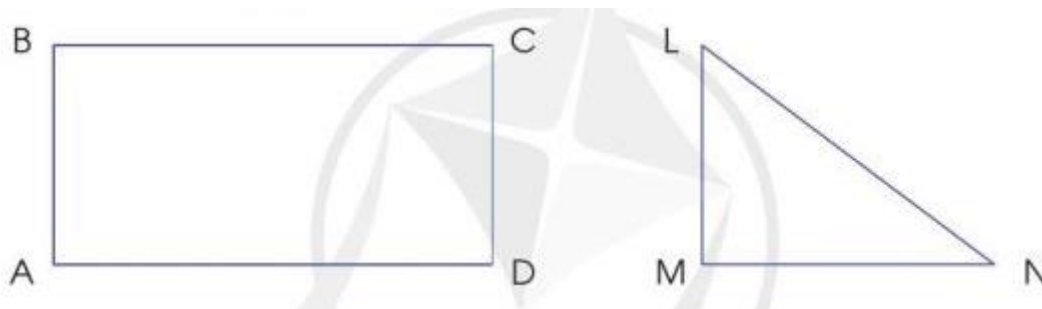
#### **Lời giải:**

Các góc vuông là: Góc vuông đỉnh N, cạnh NM và NP; Góc vuông đỉnh I, cạnh IH và IK.

Các góc không vuông là: Góc đỉnh O, cạnh OA và OB; Góc đỉnh Y, cạnh YZ và YX

Các góc không vuông là: AOB, XYZ.

**Toán lớp 3 Tập 1 trang 119 Luyện tập 2:** Đo độ dài các cạnh rồi tính chu vi mỗi hình sau:



#### **Lời giải:**

\*) Hình chữ nhật ABCD có  $AB = 3 \text{ cm}$ ;  $BC = 6 \text{ cm}$

Chu vi hình chữ nhật ABCD là:

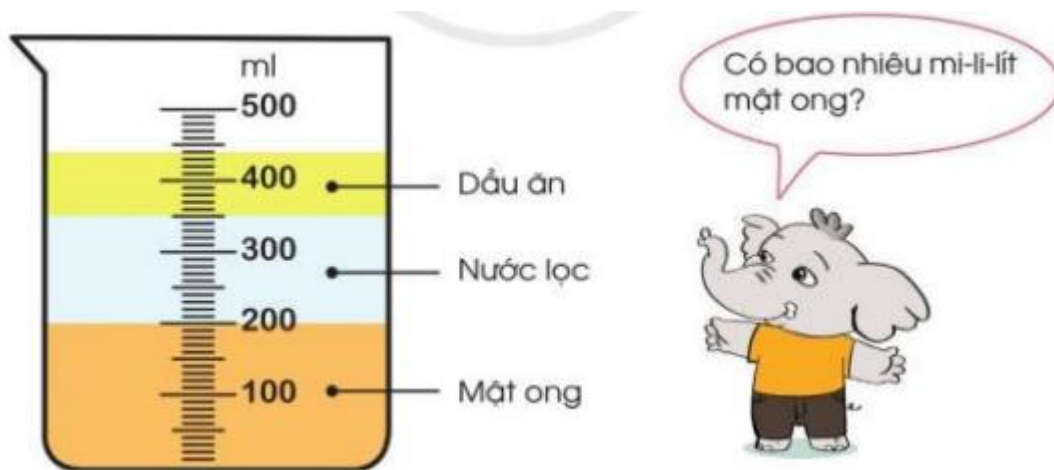
$$(3 + 6) \times 2 = 18 \text{ (cm)}$$

\*) Hình tam giác LMN có LM = 3 cm; MN = 4 cm; LN = 5 cm

Chu vi hình tam giác LMN là:

$$3 + 4 + 5 = 12 \text{ (cm)}$$

**Toán lớp 3 Tập 1 trang 119 Luyện tập 3:** Bạn Voi làm thí nghiệm rót lần lượt mật ong, nước lọc và dầu ăn vào bình đo như hình sau:



- Có bao nhiêu mi-li-lít mật ong?
- Có bao nhiêu mi-li-lít dầu ăn?
- Bình đo đang đựng tất cả bao nhiêu mi-li-lít?

**Lời giải:**

Quan sát hình vẽ, em thấy: Bình đo đang đựng 200 ml mật ong, 150 ml nước, 90 ml dầu ăn

- Có 200 mi-li-lít mật ong
- Có 90 mi-li-lít dầu ăn

c) Bình đo đang đựng tất cả 440 mi-li-lít (em có thể quan sát bình hoặc thực hiện phép tính cộng  $200 \text{ ml} + 150 \text{ ml} + 90 \text{ ml} = 440 \text{ ml}$ )

**Toán lớp 3 Tập 1 trang 120 Luyện tập 4:**

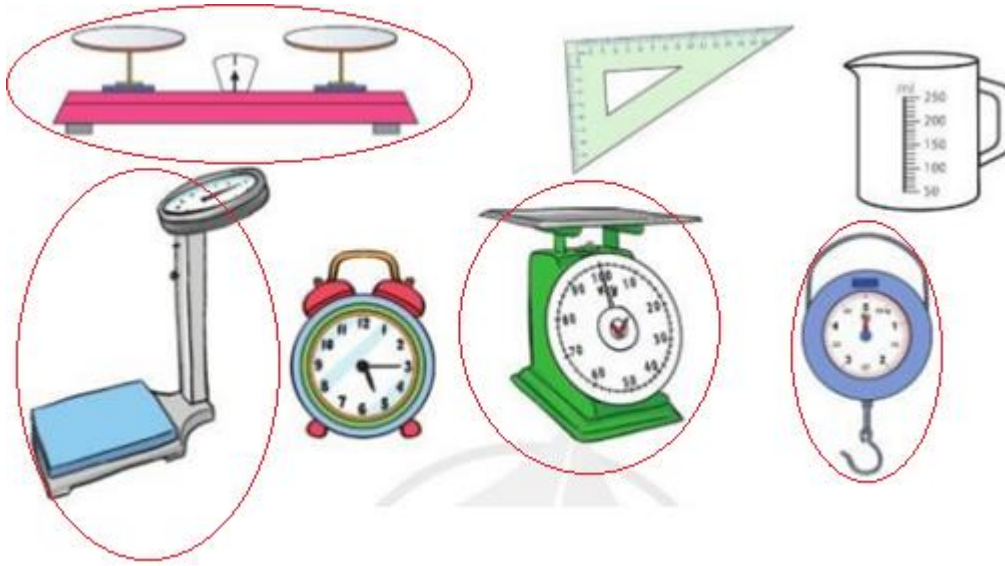
a) Dụng cụ nào dưới đây dùng để xác định khối lượng?



b) Mỗi dụng cụ còn lại dùng để đo đại lượng nào?

**Lời giải:**

a)



b) Chiếc ê-ke dùng để đo độ dài, góc vuông.

Chiếc đồng hồ dùng để đo giờ.

Chiếc cốc dùng để đo dung tích.

**Toán lớp 3 Tập 1 trang 120 Luyện tập 5:** Vẽ đoạn thẳng AB dài 4 cm. Vẽ đoạn thẳng CD dài gấp 2 lần đoạn thẳng AB. Vẽ đoạn thẳng MN bằng độ dài đoạn thẳng AB giảm đi 2 lần.

**Lời giải:**

Độ dài đoạn thẳng CD là:

$$4 \times 2 = 8 \text{ (cm)}$$

Độ dài đoạn thẳng MN là:

$$4 : 2 = 2 \text{ (cm)}$$

**Toán lớp 3 Tập 1 trang 120 Vận dụng 6:** Có 120 g nấm hương khô, sau khi ngâm nước số nấm hương đó cân nặng 407 g. Hỏi sau khi ngâm nước lượng nấm hương đó nặng thêm bao nhiêu gam?



Nấm hương khô



Nấm hương sau khi ngâm nước

**Lời giải:**

Sau khi ngâm nước lượng nấm hương đó nặng thêm:

$$407 - 120 = 287 \text{ (g)}$$

Đáp số: 287 gam.