

Hướng dẫn giải các bài tập trang 113, 114 Em ôn lại những gì đã học sách giáo khoa Toán lớp 3 bộ sách Cánh diều (CD) thuộc chương trình mới chi tiết và chính xác nhất sẽ là nguồn tài liệu tham khảo hữu ích dành cho phụ huynh và các em học sinh.

Giải Toán Cánh diều lớp 3 Em ôn lại những gì đã học**Toán lớp 3 Tập 1 trang 113 Luyện tập 1: Đặt tính rồi tính:**

a) 14×2 213×3 101×8

b) $46 : 2$ $393 : 3$ $845 : 4$

Lời giải:

a)

$$\begin{array}{r} 14 \\ \times 2 \\ \hline 28 \end{array}$$

$$\begin{array}{r} 213 \\ \times 3 \\ \hline 639 \end{array}$$

$$\begin{array}{r} 101 \\ \times 8 \\ \hline 808 \end{array}$$

b)

$$\begin{array}{r} 46 \overline{) 2} \\ \underline{4} \\ 06 \\ \underline{6} \\ 0 \end{array}$$

$$\begin{array}{r} 393 \overline{) 3} \\ \underline{3} \\ 09 \\ \underline{9} \\ 03 \\ \underline{3} \\ 0 \end{array}$$

$$\begin{array}{r} 845 \overline{) 4} \\ \underline{8} \\ 04 \\ \underline{4} \\ 05 \\ \underline{4} \\ 1 \end{array}$$

Toán lớp 3 Tập 1 trang 113 Luyện tập 2: Tính giá trị của mỗi biểu thức sau:

$25 - 15 : 5$

$$101 \times (16 - 7)$$

$$40 + 8 : 2$$

$$48 : (8 : 2)$$

Lời giải:

$$25 - 15 : 5 = 25 - 3 = 22$$

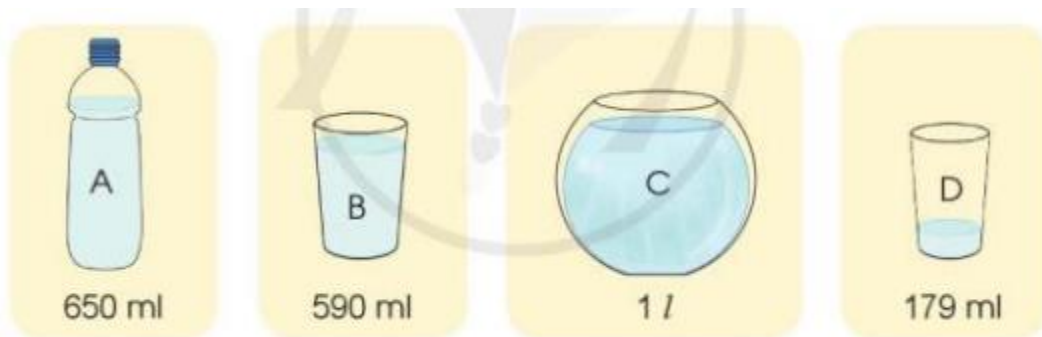
$$101 \times (16 - 7) = 101 \times 9 = 909$$

$$40 + 8 : 2 = 40 + 4 = 44$$

$$48 : (8 : 2) = 48 : 4 = 12$$

Toán lớp 3 Tập 1 trang 113 Luyện tập 3:

a) Đọc tên các đồ vật sau theo thứ tự từ có ít nước nhất đến có nhiều nước nhất.



b) Tổng lượng nước trong hai cốc B và D là bao nhiêu mi-li-lít?

Lời giải:

a) Đổi 1 lít = 1000 ml

Quan sát hình vẽ, em thấy:

Đồ vật A đựng 650 ml nước.

Đồ vật B đựng 590 ml nước.

Đồ vật C đựng 1000 ml nước.

Đồ vật D đựng 179 ml nước.

So sánh: $179 \text{ ml} < 590 \text{ ml} < 650 \text{ ml} < 1000 \text{ ml}$

Sắp xếp: Đồ vật D, đồ vật B, đồ vật A, đồ vật C.

b) Tổng lượng nước trong hai cốc B và D là:

$$590 + 179 = 769 \text{ (ml)}$$

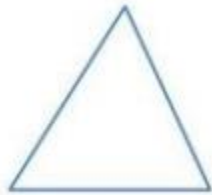
Đáp số: 769 mi-li-lít nước

Toán lớp 3 Tập 1 trang 113 Luyện tập 4:

a) Mỗi hình sau có mấy góc?



A



B



C



D

b) Dùng ê ke để kiểm tra xem hình nào ở câu a có bốn góc vuông.

Lời giải:

a)

- Hình A có 4 góc.

- Hình B có 3 góc.

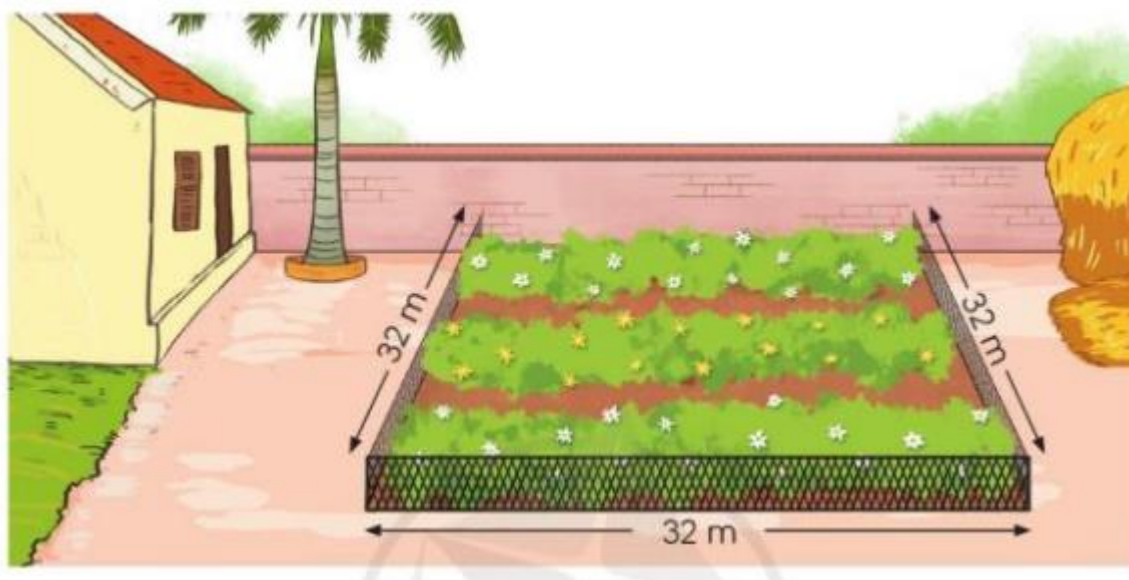
- Hình C có 4 góc.

- Hình D có 4 góc.

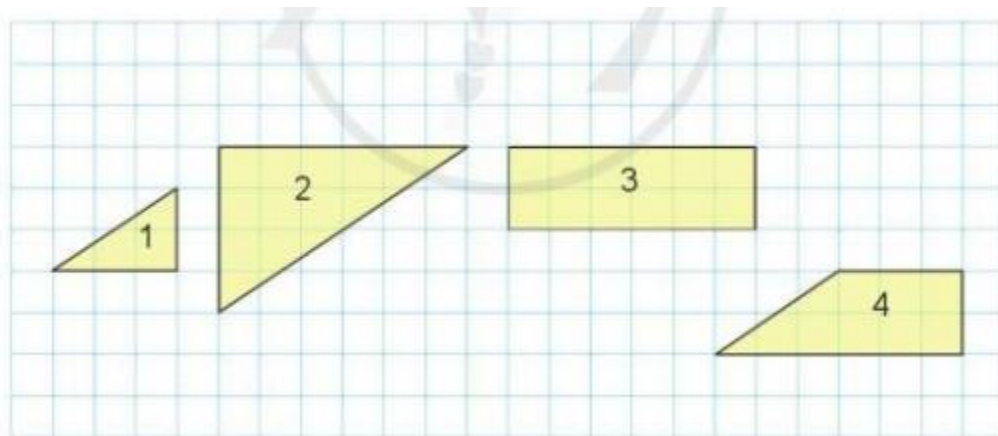
b) Hình A và D có 4 góc vuông.

Toán lớp 3 Tập 1 trang 114 Luyện tập 5:

a) Một khu đất trồng hoa có dạng hình vuông cạnh 32 m như hình dưới đây. Để đủ rào khu đất này cần bao nhiêu mét rào?



b) Trong các hình dưới đây, chọn ba hình để có thể ghép được thành hình chữ nhật.



Lời giải:

a) Để đủ rào khu đất cần số mét rào là:

$$32 \times 3 = 96 \text{ (m)}$$

Đáp số: 96 mét

b) Em có thể ghép các hình:

Hình 1, hình 2 và hình 4

Hình 1, hình 3 và hình 4

Toán lớp 3 Tập 1 trang 114 Vận dụng 6: Một tấm gỗ hình vuông có cạnh dài 2 dm. Tại mỗi đỉnh của hình vuông, anh Phương đóng một cái đinh và dùng một sợi dây dài 4 m quấn vòng quanh tấm gỗ theo bốn đỉnh (xem hình vẽ). Hỏi anh Phương quấn được bao nhiêu vòng?

**Lời giải:**

Chu vi tấm gỗ là:

$$2 \times 4 = 8 \text{ (dm)}$$

Đổi 4 m = 40 dm.

Anh Phương quấn được số vòng là:

$$40 : 8 = 5 \text{ (vòng)}$$

Đáp số: 5 vòng