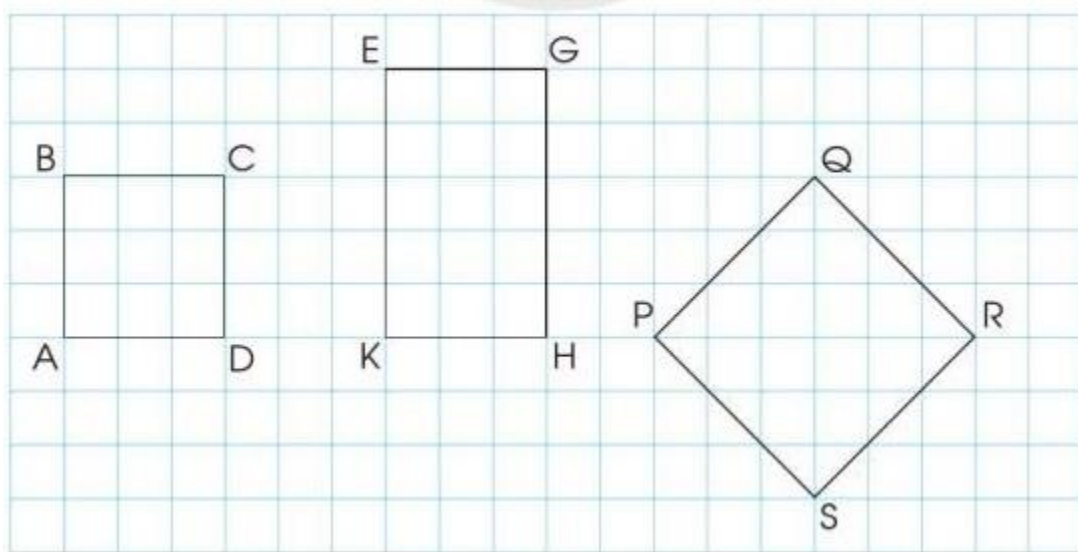


Hướng dẫn giải các bài tập trang 109, 110 Hình vuông sách giáo khoa Toán lớp 3 bộ sách Cánh diều (CD) thuộc chương trình mới chi tiết và chính xác nhất sẽ là nguồn tài liệu tham khảo hữu ích dành cho phụ huynh và các em học sinh.

***Giải Toán Cánh diều lớp 3 Hình vuông***

**Toán lớp 3 Tập 1 trang 109 Luyện tập 1:**

a) Đọc tên các hình vuông có trong hình dưới đây:



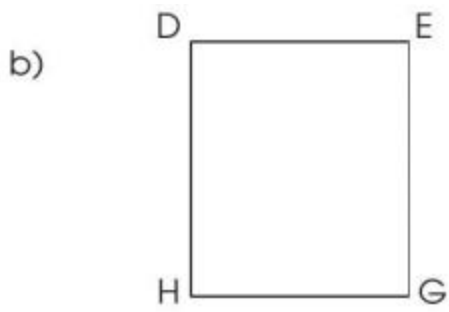
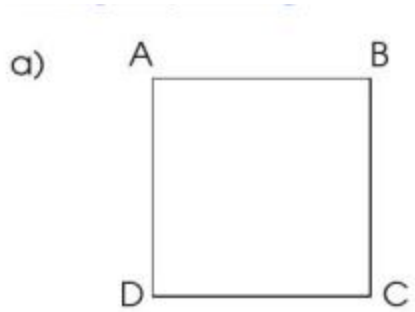
b) Đo rồi cho biết độ dài các cạnh của mỗi hình vuông ở hình trên.

**Lời giải:**

a) Hình vuông ABCD, hình vuông PQRS.

b) Học sinh tự thực hành.

**Toán lớp 3 Tập 1 trang 110 Luyện tập 2:** Dùng ê ke và thước thẳng kiểm tra xem mỗi hình sau có phải hình vuông hay không?



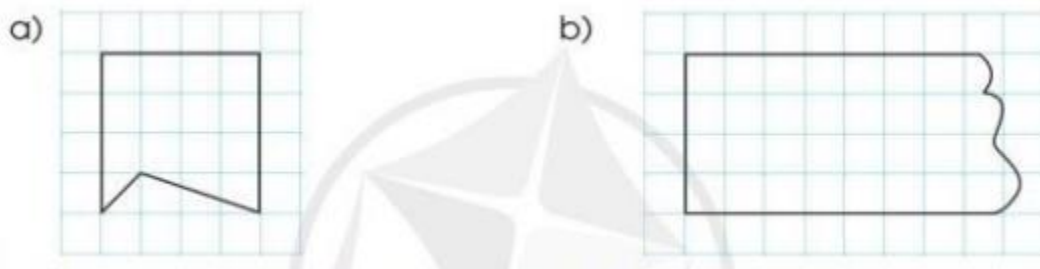
**Lời giải:**

Em đo độ dài các cạnh của hình a và hình b.

a) ABCD là hình vuông.

b) DEGH là hình chữ nhật.

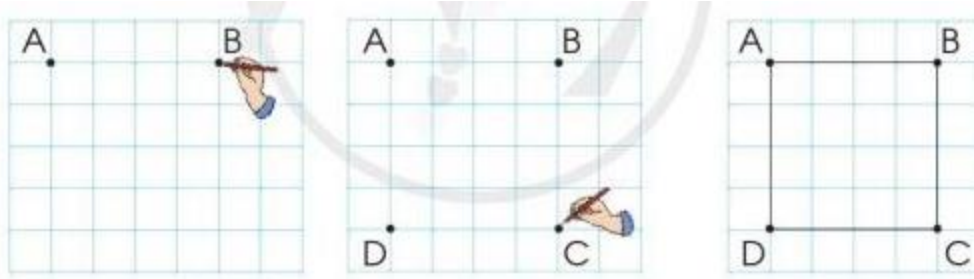
**Toán lớp 3 Tập 1 trang 110 Luyện tập 3:** Nêu cách kẻ thêm một đoạn thẳng để được hình vuông:



**Lời giải:**

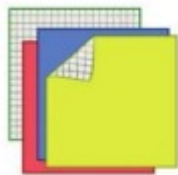


**Toán lớp 3 Tập 1 trang 110 Luyện tập 4:** Vẽ hình vuông trên lưới ô vuông theo hướng dẫn sau:

**Lời giải:**

Học sinh tự thực hành.

**Toán lớp 3 Tập 1 trang 110 Vận dụng 5:** Thực hành: Vẽ một hình vuông trên giấy thủ công có lưới ô vuông rồi cắt ra hình vuông đó.

**Lời giải:**

Học sinh tự thực hành.