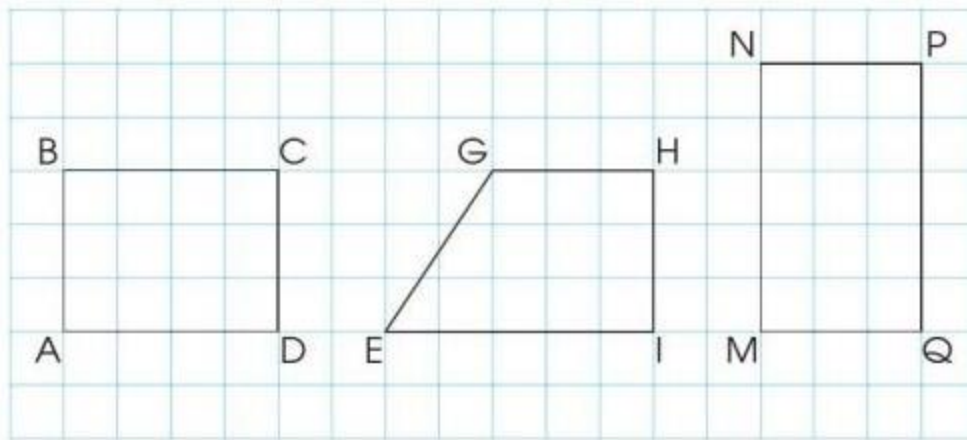


Hướng dẫn giải các bài tập trang 107, 108 Hình chữ nhật sách giáo khoa Toán lớp 3 bộ sách Cánh diều (CD) thuộc chương trình mới chi tiết và chính xác nhất sẽ là nguồn tài liệu tham khảo hữu ích dành cho phụ huynh và các em học sinh.

Giải Toán Cánh diều lớp 3 Hình chữ nhật

Toán lớp 3 Tập 1 trang 107 Luyện tập 1: Đọc tên các hình chữ nhật có trong hình dưới đây:

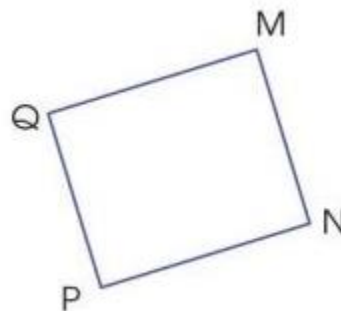



Lời giải:

Hình chữ nhật ABCD, hình chữ nhật MNPQ.

Toán lớp 3 Tập 1 trang 108 Luyện tập 2:

a) Dùng ê ke và thước thẳng để kiểm tra mỗi hình dưới đây có phải là hình chữ nhật hay không.



b) Đo rồi cho biết độ dài các cạnh của mỗi hình chữ nhật trên.

Lời giải:

a) Em đo độ dài các cạnh ở hai hình.

Đo các của Các hình trên đều là hình chữ nhật.

b) Học sinh thực hành.

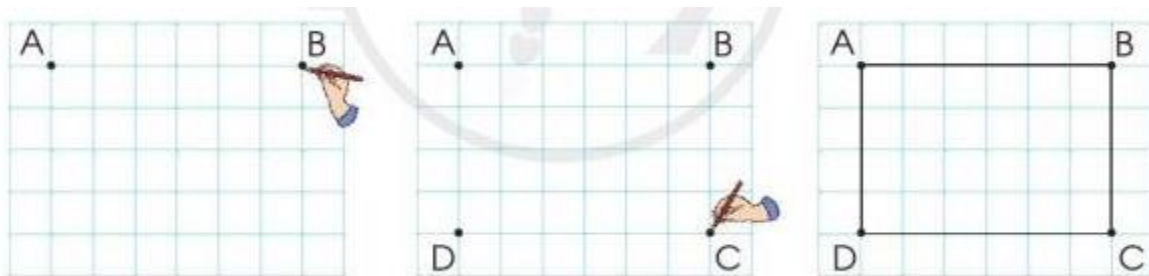
Toán lớp 3 Tập 1 trang 108 Luyện tập 3: Nêu cách kẻ thêm một đoạn thẳng để được hình chữ nhật:



Lời giải:




Toán lớp 3 Tập 1 trang 108 Luyện tập 4: Vẽ hình chữ nhật trên lưới ô vuông theo hướng dẫn sau:



Lời giải:

Học sinh tự thực hành.

Toán lớp 3 Tập 1 trang 108 Vận dụng 5: Thực hành: Vẽ một hình chữ nhật trên giấy thủ công có lưới ô vuông rồi cắt ra hình chữ nhật đó.



Lời giải:

Học sinh tự thực hành.