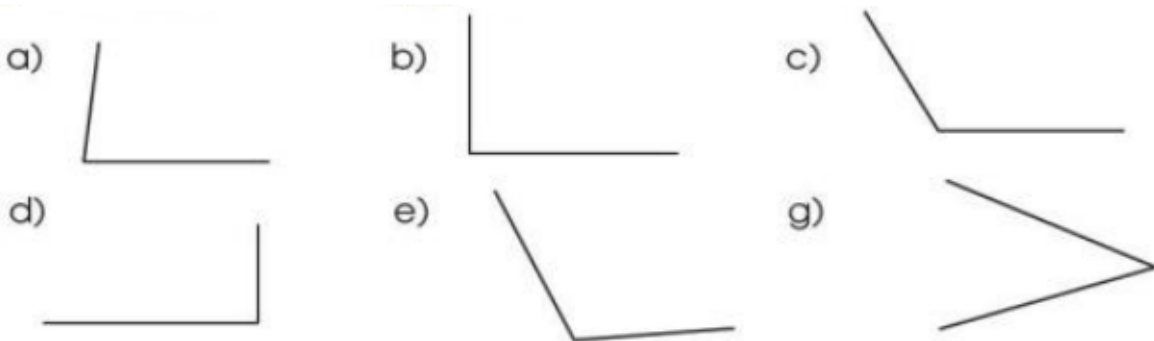


Hướng dẫn giải các bài tập trang 101, 102 Góc vuông, góc không vuông sách giáo khoa Toán lớp 3 bộ sách Cánh diều (CD) thuộc chương trình mới chi tiết và chính xác nhất sẽ là nguồn tài liệu tham khảo hữu ích dành cho phụ huynh và các em học sinh.

**Giải Toán Cánh diều lớp 3 Góc vuông, góc không vuông**

**Toán lớp 3 Tập 1 trang 102 Luyện tập 1:** Dùng ê ke để nhận biết góc nào là góc vuông, góc nào là góc không vuông trong mỗi hình dưới đây:

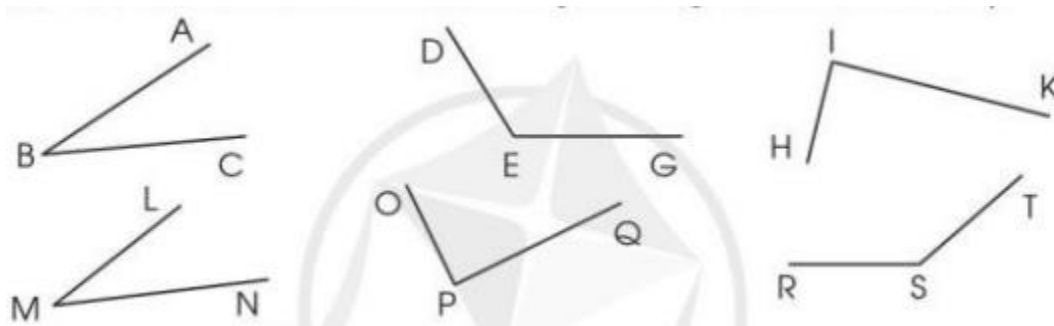


**Lời giải:**

- Các góc vuông là các hình: b, d.
- Các góc không vuông là các hình: a, c, e, g.

**Toán lớp 3 Tập 1 trang 102 Luyện tập 2:**

a) Nêu tên đỉnh và cạnh của mỗi góc trong các hình dưới đây:



b) Dùng ê ke để nhận biết góc nào là góc vuông, góc nào là góc không vuông trong các hình trên.

**Lời giải:**

a) Góc đỉnh B, cạnh BA và BC.

Góc đỉnh E, cạnh ED và EG.

Góc đỉnh I, cạnh IH và IK.

Góc đỉnh M, cạnh ML và MN.

Góc đỉnh P, cạnh PO và PQ.

Góc đỉnh S, cạnh ST và SR.

b) Các góc vuông là: Góc đỉnh I, cạnh IH và IK.

Các góc không vuông là:

+ Góc đỉnh B, cạnh BA và BC.

+ Góc đỉnh E, cạnh ED và EG.

+ Góc đỉnh M, cạnh ML và MN.

+ Góc đỉnh P, cạnh PO và PQ.

+ Góc đỉnh S, cạnh ST và SR.

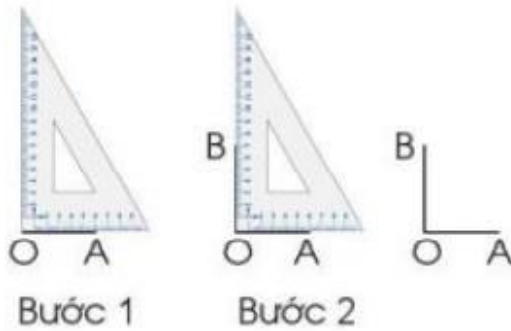
**Toán lớp 3 Tập 1 trang 102 Luyện tập 3:** Hãy chỉ ra hai hình ảnh của góc trong mỗi hình vẽ dưới đây:



**Lời giải:**

Học sinh tự thực hành.

**Toán lớp 3 Tập 1 trang 102 Vận dụng 4:** Dùng ê ke để vẽ góc vuông (theo mẫu):



**Lời giải:**

Học sinh tự thực hành.