

Hướng dẫn giải các bài tập trang 89, 90 Tính giá trị biểu thức số sách giáo khoa Toán lớp 3 bộ sách Cánh diều (CD) thuộc chương trình mới chi tiết và chính xác nhất sẽ là nguồn tài liệu tham khảo hữu ích dành cho phụ huynh và các em học sinh.

***Giải Toán Cánh diều lớp 3 Tính giá trị biểu thức số***

**Toán lớp 3 Tập 1 trang 90 Luyện tập 1:** Tính giá trị của mỗi biểu thức sau:

a)  $261 + 414$

b)  $595 - 17$

c)  $286 : 2$

d)  $310 \times 3$

e)  $265 - 82 + 10$

g)  $21 \times 4 : 2$

**Lời giải:**

a)  $261 + 414 = 675$

b)  $595 - 17 = 578$





c)  $286 : 2 = 143$

d)  $310 \times 3 = 930$

e)  $265 - 82 + 10 = 183 + 10 = 193$

g)  $21 \times 4 : 2 = 84 : 2 = 42$

**Toán lớp 3 Tập 1 trang 90 Luyện tập 2:** Chọn giá trị đúng với mỗi biểu thức sau:

$125 - 82 + 7$	$40 : 5 \times 8$	$20 + 70 - 30$	$72 : 9 \times 10$
			

**Lời giải:**

Em tính giá trị các biểu thức:





$$125 - 82 + 7 = 43 + 7 = 50$$

$$40 : 5 \times 8 = 8 \times 8 = 64$$

$$20 + 70 - 30 = 90 - 30 = 60$$

$$72 : 9 \times 10 = 8 \times 10 = 80$$

Em nối như hình vẽ:

$125 - 82 + 7$	$40 : 5 \times 8$	$20 + 70 - 30$	$72 : 9 \times 10$
			

*(Note: Red lines connect the boxes to the flowers: 125-82+7 to 50, 40:5x8 to 64, 20+70-30 to 60, 72:9x10 to 80.)*

**Toán lớp 3 Tập 1 trang 90 Vận dụng 3:** Chọn dấu (+,-) thích hợp:

- a)  $3 \text{ ( ? ) } 1 = 4$       b)  $6 \text{ ( ? ) } 4 \text{ ( ? ) } 5 = 5$       c)  $12 \text{ ( ? ) } 2 \text{ ( ? ) } 1 = 9$

**Lời giải:**

- a)  $3 \text{ ( + ) } 1 = 4$       b)  $6 \text{ ( + ) } 4 \text{ ( - ) } 5 = 5$       c)  $12 \text{ ( - ) } 2 \text{ ( - ) } 1 = 9$