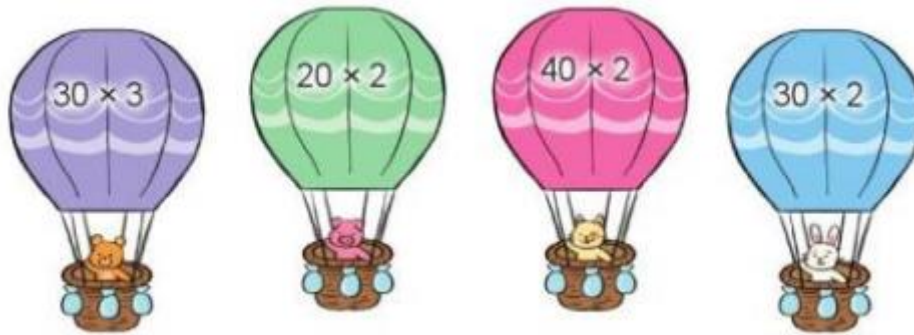


Hướng dẫn giải các bài tập trang 68, 69 Nhân số tròn chục với một chữ số sách giáo khoa Toán lớp 3 bộ sách Cánh diều (CD) thuộc chương trình mới chi tiết và chính xác nhất sẽ là nguồn tài liệu tham khảo hữu ích dành cho phụ huynh và các em học sinh.

Giải Toán Cánh diều lớp 3 Nhân số tròn chục với một chữ số

Toán lớp 3 Tập 1 trang 68 Luyện tập 1: Tính nhẩm:



Lời giải:

$$30 \times 3 = 90$$

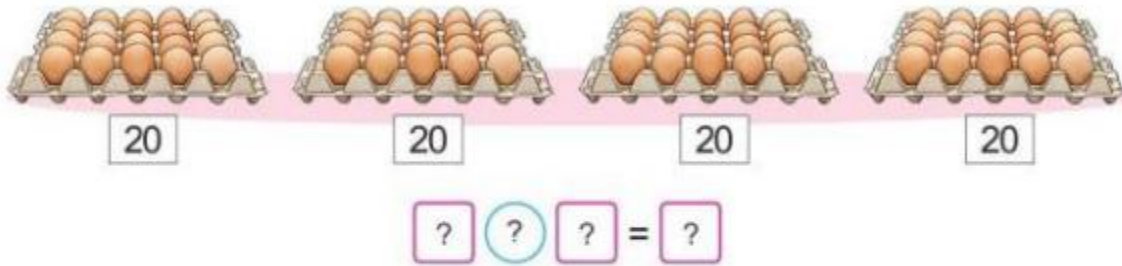
$$20 \times 2 = 40$$

$$40 \times 2 = 80$$

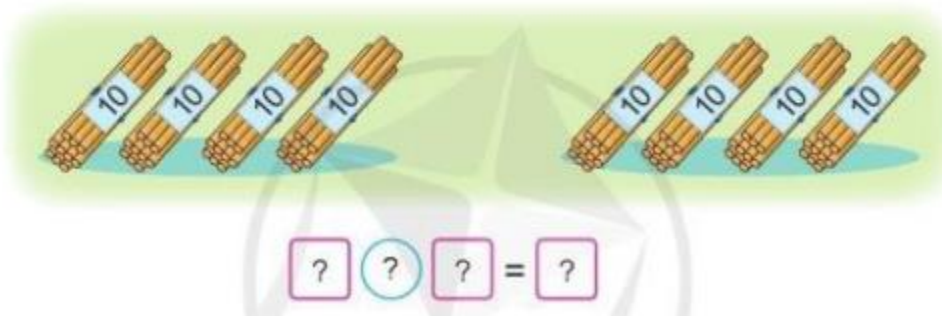
$$30 \times 2 = 60$$

Toán lớp 3 Tập 1 trang 69 Luyện tập 2: Quan sát tranh, nêu phép nhân thích hợp:

a)

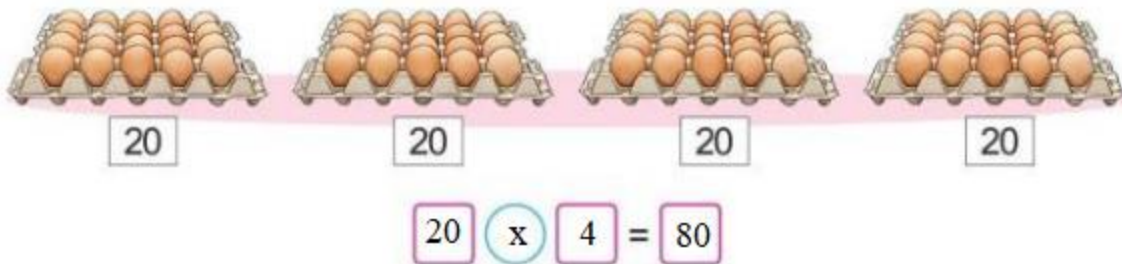


b)

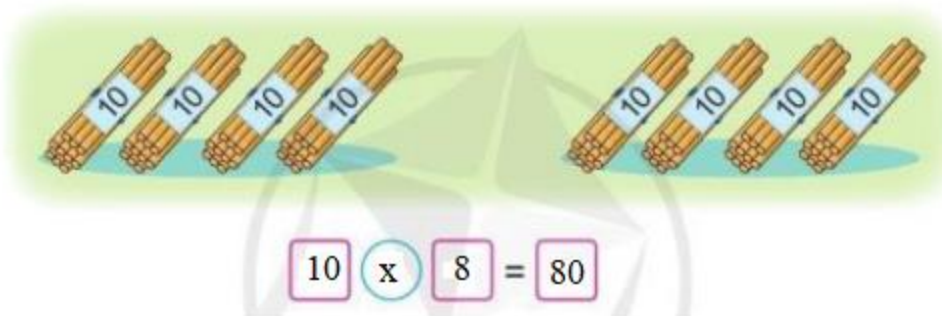


Lời giải:

a)



b)



Toán lớp 3 Tập 1 trang 69 Vận dụng 3: Mỗi sọt có 20 kg khoai lang. Hỏi 5 sọt có tất cả bao nhiêu ki-lô-gam khoai lang?

**Lời giải:**

5 sọt có tất cả số ki-lô-gam khoai lang là:

$$20 \times 5 = 100 \text{ (kg)}$$

Đáp số: 100 ki-lô-gam khoai lang