

Hướng dẫn giải các bài tập trang 63, 64 Em ôn lại những gì đã học sách giáo khoa Toán lớp 3 bộ sách Cánh diều (CD) thuộc chương trình mới chi tiết và chính xác nhất sẽ là nguồn tài liệu tham khảo hữu ích dành cho phụ huynh và các em học sinh.

Giải Toán Cánh diều lớp 3 Em ôn lại những gì đã học

Toán lớp 3 Tập 1 trang 63 Luyện tập 1: Tính nhẩm:

2×6

7×4

9×3

8×5

6×2

4×7

3×9

5×8

$12 : 1$

$28 : 7$

$27 : 9$

$40 : 8$

$12 : 6$

$28 : 4$

$27 : 3$

$40 : 5$

Lời giải:

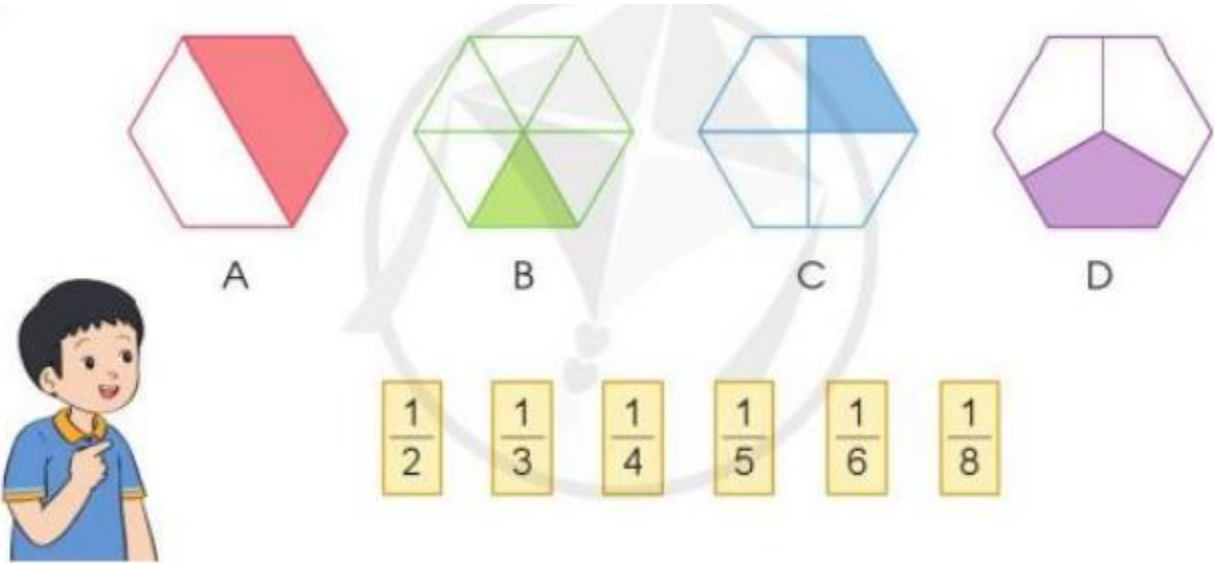
$2 \times 6 = 12 \quad 7 \times 4 = 28 \quad 9 \times 3 = 27 \quad 8 \times 5 = 40$

$6 \times 2 = 12 \quad 4 \times 7 = 28 \quad 3 \times 9 = 27 \quad 5 \times 8 = 40$

$12 : 2 = 6 \quad 28 : 7 = 4 \quad 27 : 9 = 3 \quad 40 : 8 = 5$

$12 : 6 = 2 \quad 28 : 4 = 7 \quad 27 : 3 = 9 \quad 40 : 5 = 8$

Toán lớp 3 Tập 1 trang 63 Luyện tập 2: Chọn thẻ tương ứng với phần đã tô màu trong mỗi hình sau:



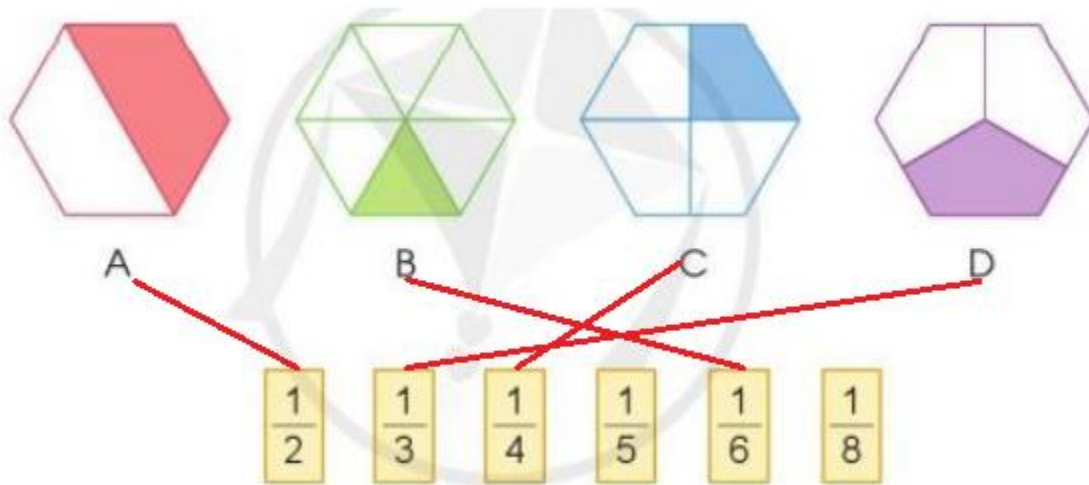
Lời giải:

Hình A được chia làm 2 phần bằng nhau, tô màu 1 phần. Tô màu $\frac{1}{2}$ hình A.





Hình B được chia làm 6 phần bằng nhau, tô màu 1 phần. Tô màu $\frac{1}{6}$ hình B.

Hình C được chia làm 4 phần bằng nhau, tô màu 1 phần. Tô màu $\frac{1}{4}$ hình C.





Hình D được chia làm 3 phần bằng nhau, tô màu 1 phần. Tô màu $\frac{1}{3}$ hình D.



Toán lớp 3 Tập 1 trang 63 Luyện tập 3: Chọn dấu (+, -, x, :) thích hợp:

			
8 ? 1 = 9	7 ? 7 = 1	1 ? 4 = 4	6 ? 0 = 0
6 ? 3 = 2	0 ? 3 = 3	1 ? 1 = 0	0 ? 6 = 6
1 ? 9 = 9	5 ? 0 = 0	1 ? 0 = 1	8 ? 8 = 1

Lời giải:

			
8 + 1 = 9	7 : 7 = 1	1 X 4 = 4	6 X 0 = 0
6 : 3 = 2	0 + 3 = 3	1 - 1 = 0	0 + 6 = 6
1 X 9 = 9	5 X 0 = 0	1 - 0 = 1	8 : 8 = 1

Toán lớp 3 Tập 1 trang 64 Luyện tập 4: Số?

Số đã cho	6	3	9
Thêm 3 đơn vị	9	?	?
Gấp 3 lần	18	?	?
Bớt 3 đơn vị	3	?	?
Giảm 3 lần	2	?	?

Lời giải:

Số đã cho	6	3	9
Thêm 3 đơn vị	9	6	12
Gấp 3 lần	18	9	27
Bớt 3 đơn vị	3	0	6
Giảm 3 lần	2	1	3

Luyện tập 5: Bác Nam vắt được 5 xô sữa bò, mỗi xô có 8 l sữa. Hỏi bác Nam vắt được tất cả bao nhiêu lít sữa?



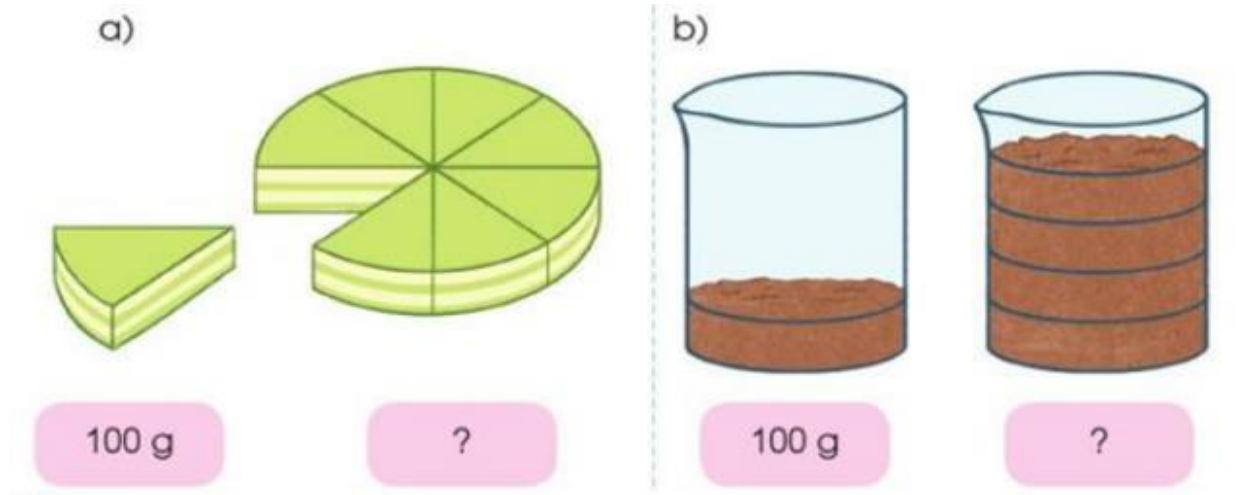
Lời giải:

Bác Nam vắt được tất cả số lít sữa là:

$$8 \times 5 = 40 \text{ (l)}$$

Đáp số: 40 lít sữa bò

Toán lớp 3 Tập 1 trang 64 Vận dụng 6: Ước lượng rồi nêu cân nặng phù hợp với mỗi trường hợp sau:



Lời giải:

