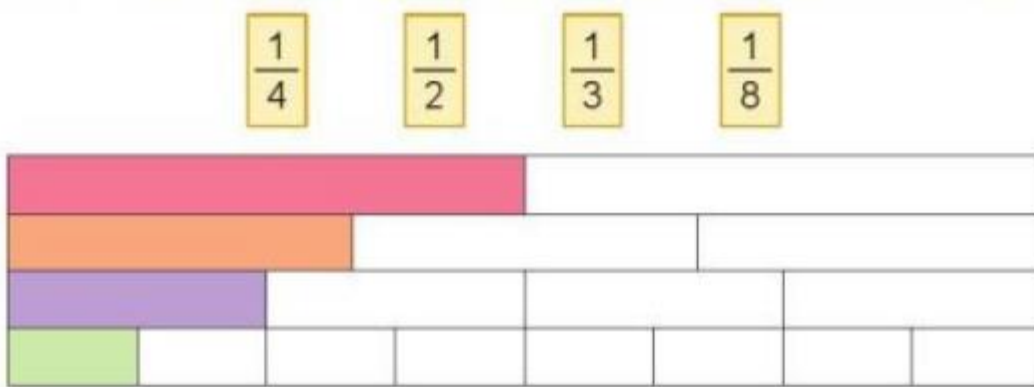


Hướng dẫn giải các bài tập trang 61, 62 Một phần bảy. Một phần tám. Một phần chín sách giáo khoa Toán lớp 3 bộ sách Cánh diều (CD) thuộc chương trình mới chi tiết và chính xác nhất sẽ là nguồn tài liệu tham khảo hữu ích dành cho phụ huynh và các em học sinh.

Giải Toán Cánh diều lớp 3 Một phần bảy. Một phần tám. Một phần chín

Toán lớp 3 Tập 1 trang 61 Luyện tập 1: Chọn thẻ tương ứng với phần đã tô màu trong mỗi băng giấy sau:



Lời giải:

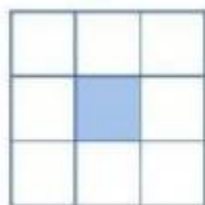
Thẻ 1212 tương ứng với phần băng giấy đã tô màu hồng.

Thẻ 1313 tương ứng với phần băng giấy đã tô màu cam.

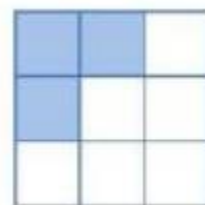
Thẻ 1414 tương ứng với phần băng giấy đã tô màu tím.

Thẻ 1818 tương ứng với phần băng giấy đã tô màu xanh lá.

Toán lớp 3 Tập 1 trang 62 Luyện tập 2: Đã tô màu 1919 hình nào?



Hình A



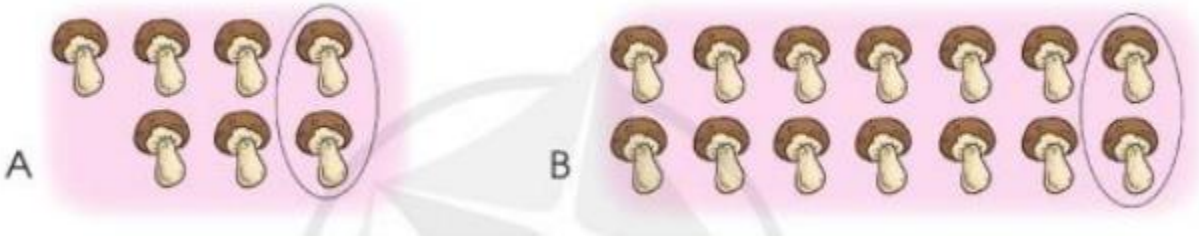
Hình B

Lời giải:

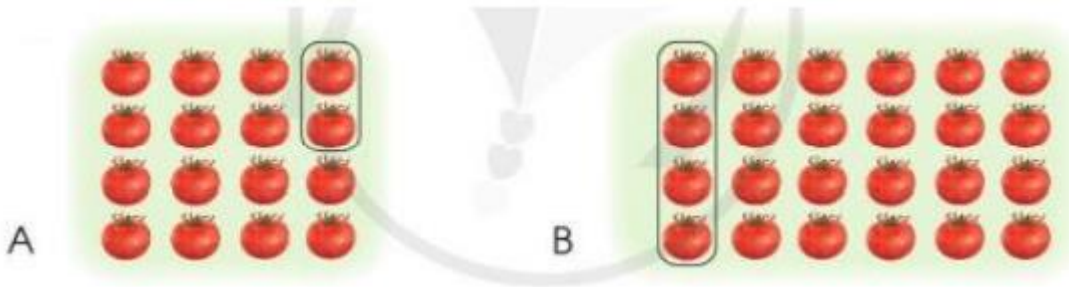
Đã tô màu 1919 hình A.

Toán lớp 3 Tập 1 trang 62 Luyện tập 3: Hình nào đã khoanh:

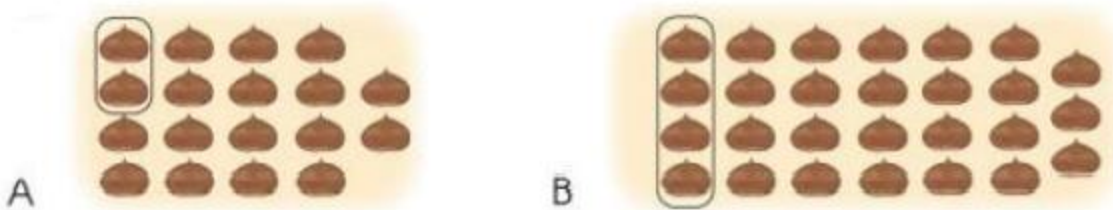
a) 1717 số cây nấm?



b) 1818 số quả cà chua?



c) 1919 số hạt dẻ?




Lời giải:

a) Chọn B.

b) Chọn A.

c) Chọn A.

Toán lớp 3 Tập 1 trang 62 Vận dụng 4: Thực hiện các hoạt động sau:



a) Lấy ra 14 hình tròn, chia thành 7 phần bằng nhau.

b) Chỉ ra 1/7 số hình tròn ở câu a.

Lời giải:

a) Chia 14 hình tròn thành 7 phần, mỗi phần 2 hình tròn.

b) Khoanh vùng 1 phần bất kì trong 7 phần vừa chia được, ta sẽ được 1/7 số hình tròn ở câu a.