


Hướng dẫn giải các bài tập trang 56, 57, 58 Một phần hai, một phần tư sách giáo khoa Toán lớp 3 bộ sách Cánh diều (CD) thuộc chương trình mới chi tiết và chính xác nhất sẽ là nguồn tài liệu tham khảo hữu ích dành cho phụ huynh và các em học sinh.

Giải Toán Cánh diều lớp 3 Một phần hai, một phần tư




Toán lớp 3 Tập 1 trang 57 Luyện tập 1: Nói (theo mẫu):

a)

Mẫu:




Đã tô màu vào một phần hai hình tam giác.


b)

Mẫu:




Hình A


Đã tô màu vào một phần tư hình A.



Hình B



Hình C



Hình D

Lời giải:

a) Đã tô màu vào một phần hai hình tròn.

Đã tô màu vào một phần hai hình chữ nhật.

Đã tô màu vào một phần hai hình vuông.


b) Đã tô màu vào một phần tư hình B.

Đã tô màu vào một phần tư hình C.

Đã tô màu vào một phần tư hình D.

Toán lớp 3 Tập 1 trang 57 Luyện tập 2:

a) Đã tô màu 1/2 hình nào?



Hình 1



Hình 2

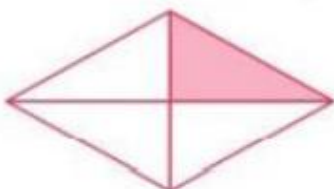


Hình 3



Hình 4

b) Đã tô màu 1/4 hình nào?



Hình 1



Hình 2



Hình 3

Lời giải:

a) Đã tô màu 1/2 hình 1 và hình 4.

b) Đã tô màu 1/4 hình 1.

Toán lớp 3 Tập 1 trang 58 Luyện tập 3:

a) Thực hành: Gấp hình để tạo thành 1/2.

- Gấp đôi một tờ giấy rồi trải tờ giấy ra.

- Tô màu vào 1212 tờ giấy.
- b) Thực hành: Gấp hình để tạo thành 1414.
- Gấp đôi một tờ giấy, rồi lại gấp đôi tiếp.
- Vuốt thẳng góc rồi trải tờ giấy ra.
- Tô màu vào 1414 tờ giấy.

**Lời giải:**

Học sinh tự thực hành.

Toán lớp 3 Tập 1 trang 58 Vận dụng 4: Trang muốn ăn 1212 chiếc bánh, Nguyên muốn ăn 1414 chiếc bánh. Em hãy chỉ giúp hai bạn phần bánh thích hợp ở hình bên.

**Lời giải:**

