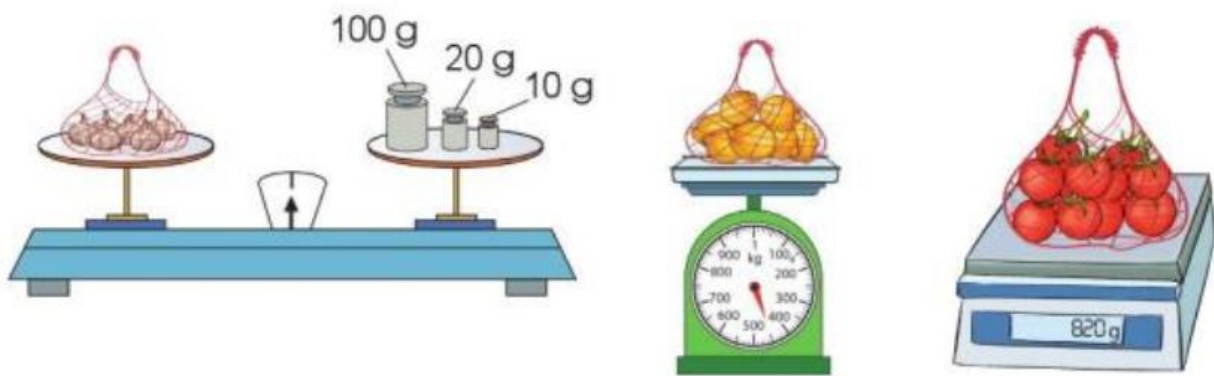


Hướng dẫn giải các bài tập trang 34, 35 Gam sách giáo khoa Toán lớp 3 bộ sách Cánh diều (CD) thuộc chương trình mới chi tiết và chính xác nhất sẽ là nguồn tài liệu tham khảo hữu ích dành cho phụ huynh và các em học sinh.

Giải Toán Cánh diều lớp 3 Gam

Toán lớp 3 Tập 1 trang 34 Luyện tập 1:

a) Mỗi túi sau cân nặng bao nhiêu gam?



b) Hãy cho biết túi nào ở câu a cân nặng nhất.

Lời giải:

a) Túi tỏi cân nặng 130 g.

Túi cam cân nặng 450g

Túi cà chua cân nặng 820g

b) Túi cà chua cân nặng nhất

Toán lớp 3 Tập 1 trang 35 Luyện tập 2:

a) Số?

1 kg = ... g 1 000 g = ... kg

b) Tính:

$$356 \text{ g} + 400 \text{ g} \quad 8 \text{ g} \times 6$$

$$1\,000 \text{ g} - 500 \text{ g} \quad 30 \text{ g} : 5$$

Lời giải:

a)

$$1 \text{ kg} = 1\,000 \text{ g} \quad 1\,000 \text{ g} = 1 \text{ kg}$$

b)

$$356 \text{ g} + 400 \text{ g}$$

$$8 \text{ g} \times 6$$

$$1\,000 \text{ g} - 500 \text{ g}$$

$$30 \text{ g} : 5$$

Toán lớp 3 Tập 1 trang 35 Luyện tập 3:

Quả đu đủ thứ nhất cân nặng 1 kg, quả đu đủ thứ hai nhẹ hơn quả đu đủ thứ nhất 100 g. Hỏi quả đu đủ thứ hai cân nặng bao nhiêu gam?

Lời giải:

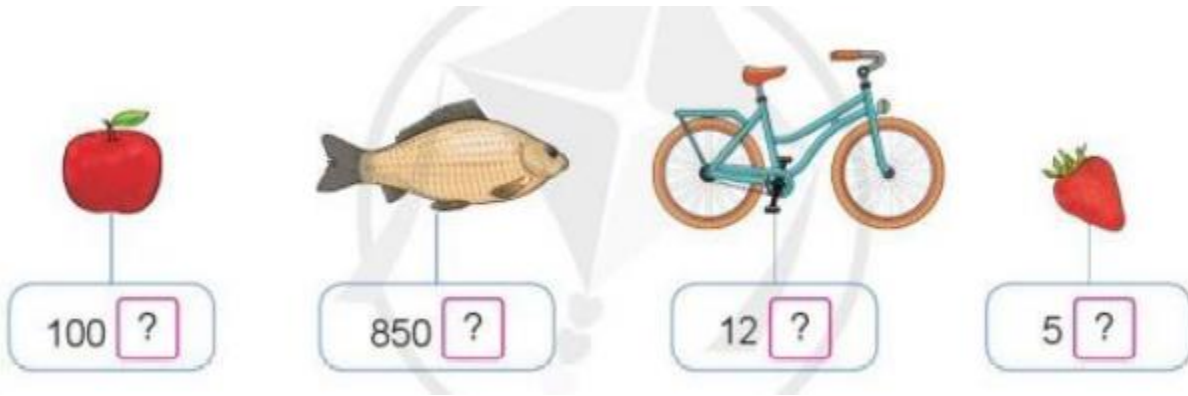
$$\text{Đổi } 1 \text{ kg} = 1\,000 \text{ g}$$

Quả đu đủ thứ hai cân nặng:

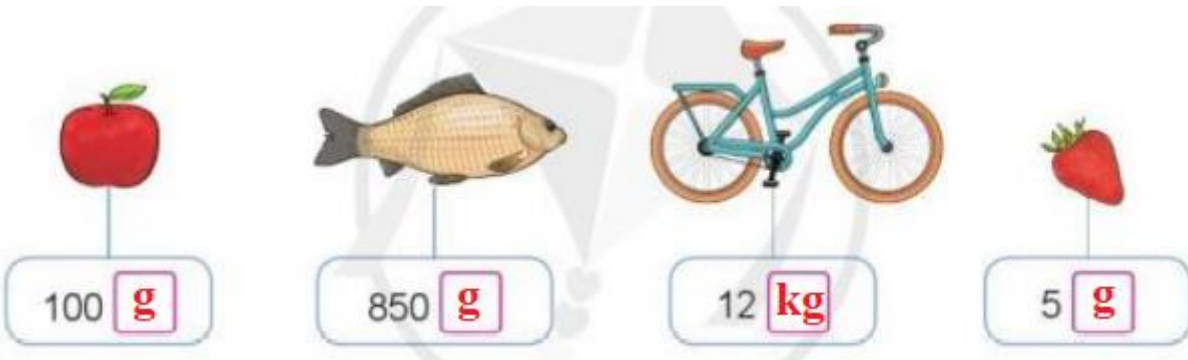
$$1\,000 - 100 = 900 \text{ (g)}$$

Đáp số: 900 gam

Toán lớp 3 Tập 1 trang 35 Luyện tập 4: Chọn đơn vị đo khối lượng (g, kg) để đặt vào ô trống cho thích hợp:



Lời giải:



Toán lớp 3 Tập 1 trang 35 Vận dụng 5: Thực hành: Ước lượng cân nặng của một số đồ vật rồi cân để kiểm tra lại.



Lời giải:

Học sinh tự thực hành.