

Hướng dẫn giải các bài tập trang 30, 31 Luyện tập sách giáo khoa Toán lớp 3 bộ sách Cánh diều (CD) thuộc chương trình mới chi tiết và chính xác nhất sẽ là nguồn tài liệu tham khảo hữu ích dành cho phụ huynh và các em học sinh.

Giải Toán Cánh diều lớp 3 Luyện tập

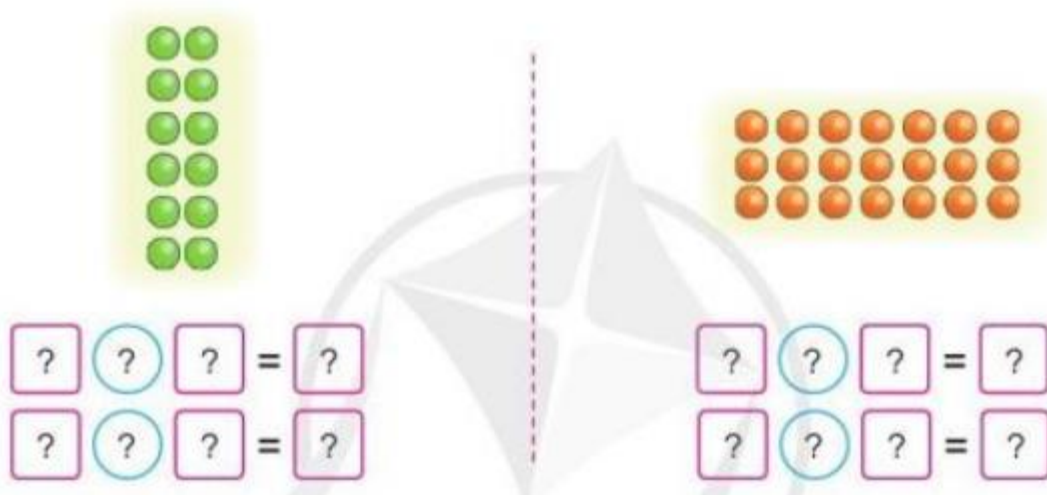
Toán lớp 3 Tập 1 trang 30 Luyện tập 1:

a) Tính nhẩm:

4×4 5×2 2×8 6×6

8×10 3×9 7×3 9×5

b) Nêu các phép nhân thích hợp với mỗi hình vẽ sau:



Lời giải:

a)

$4 \times 4 = 16$

$5 \times 2 = 10$

$2 \times 8 = 16$

$6 \times 6 = 36$

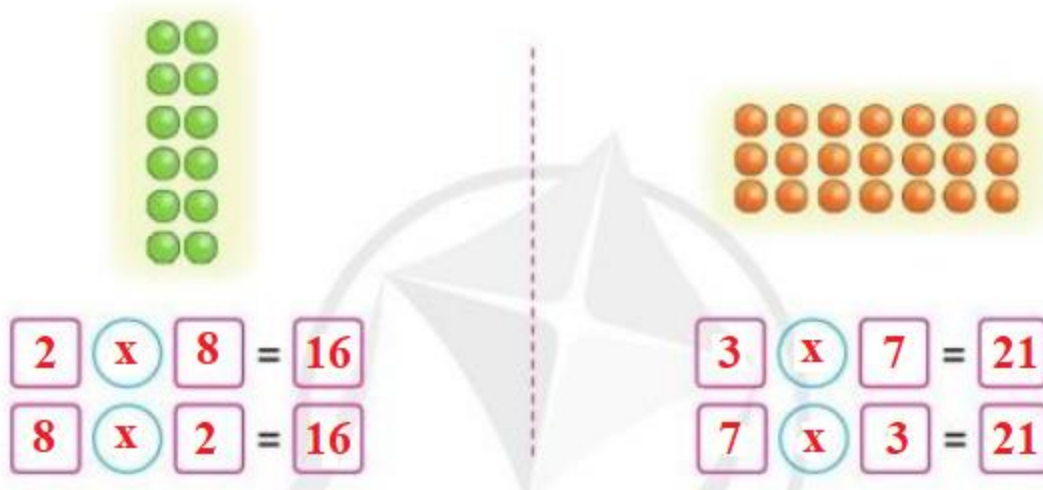
$8 \times 10 = 80$

$3 \times 9 = 27$

$7 \times 3 = 21$

$9 \times 5 = 45$

b)



Toán lớp 3 Tập 1 trang 30 Luyện tập 2:

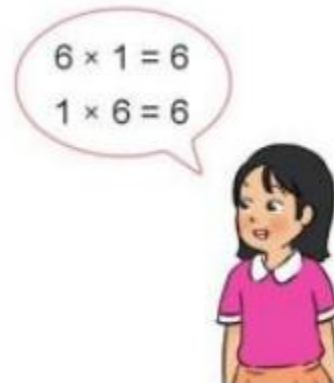

a) Tính nhẩm:

$$4 \times 1 \quad 9 \times 1 \quad 1 \times 7 \quad 5 \times 1$$

$$1 \times 4 \quad 1 \times 9 \quad 7 \times 1 \quad 1 \times 5$$

Nhận xét: số nào nhân với 1 cũng có kết quả bằng chính số đó.

b) Lấy ví dụ tương tự câu a rồi chia sẻ với bạn:



Lời giải:

a)

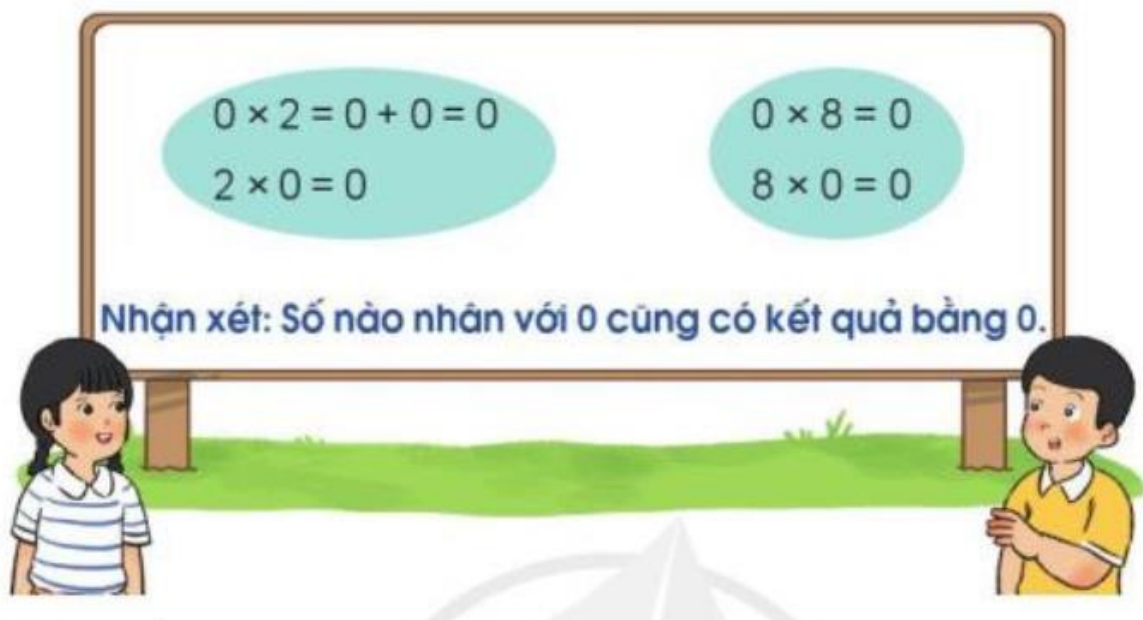
$$4 \times 1 = 4 \quad 9 \times 1 = 9 \quad 1 \times 7 = 7 \quad 5 \times 1 = 5$$

$$1 \times 4 = 4 \quad 1 \times 9 = 9 \quad 7 \times 1 = 7 \quad 1 \times 5 = 5$$

b) $3 \times 1 = 3$; $6 \times 1 = 6$; $2 \times 1 = 2$; ...

Toán lớp 3 Tập 1 trang 31 Luyện tập 3:

a) Đọc nội dung sau và thảo luận với bạn:



b) Tính nhẩm:

$$0 \times 7 \quad 0 \times 9 \quad 0 \times 5 \quad 0 \times 1$$

$$7 \times 0 \quad 9 \times 0 \quad 5 \times 0 \quad 1 \times 0$$

c) Lấy ví dụ tương tự câu a rồi chia sẻ với bạn.

Lời giải:

a) Học sinh tự thực hành.

b)

$$0 \times 7 = 0 \quad 0 \times 9 = 0 \quad 0 \times 5 = 0 \quad 0 \times 1 = 0$$

$$7 \times 0 = 0 \quad 9 \times 0 = 0 \quad 5 \times 0 = 0 \quad 1 \times 0 = 0$$

c) $2 \times 0 = 0$; $3 \times 0 = 0$; $4 \times 0 = 0$; ...**Toán lớp 3 Tập 1 trang 31 Vận dụng 4:** Xem tranh rồi nêu một tình huống có phép nhân:**Lời giải:**

Có 6 nhóm khi, mỗi nhóm có 2 con khi. Có tất cả 12 con khi.

Em có phép tính: $2 \times 6 = 12$