

Hướng dẫn giải các bài tập trang 18, 19 Bảng nhân 4 sách giáo khoa Toán lớp 3 bộ sách Cánh diều (CD) thuộc chương trình mới chi tiết và chính xác nhất sẽ là nguồn tài liệu tham khảo hữu ích dành cho phụ huynh và các em học sinh.

Giải Toán Cánh diều lớp 3 Bảng nhân 4

Toán lớp 3 Tập 1 trang 19 Luyện tập 1: Tính nhẩm:

4×3 4×1 4×8

4×6 4×7 4×4

4×9 4×2 4×5

4×10 2×4 5×4

Lời giải:

$4 \times 3 = 12$ $4 \times 1 = 4$ $4 \times 8 = 32$

$4 \times 6 = 24$ $4 \times 7 = 28$ $4 \times 4 = 16$

$4 \times 9 = 36$ $4 \times 2 = 8$ $4 \times 5 = 20$

$4 \times 10 = 40$ $2 \times 4 = 8$ $5 \times 4 = 20$

Toán lớp 3 Tập 1 trang 19 Luyện tập 2: Chọn kết quả đúng với mỗi phép tính:



4×3

4×6

4×5

4×9

4×2

4×8

Lời giải:

Em thực hiện các phép tính:

$$4 \times 3 = 12$$

$$4 \times 6 = 24$$

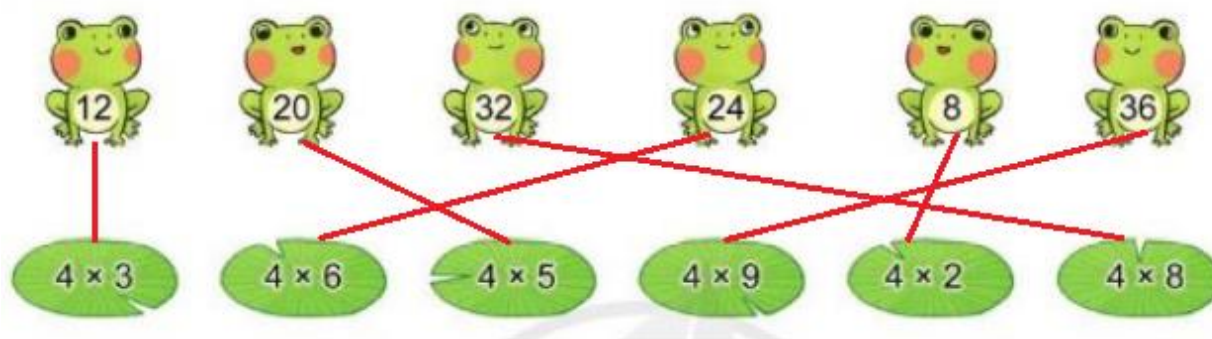
$$4 \times 5 = 20$$

$$4 \times 9 = 36$$

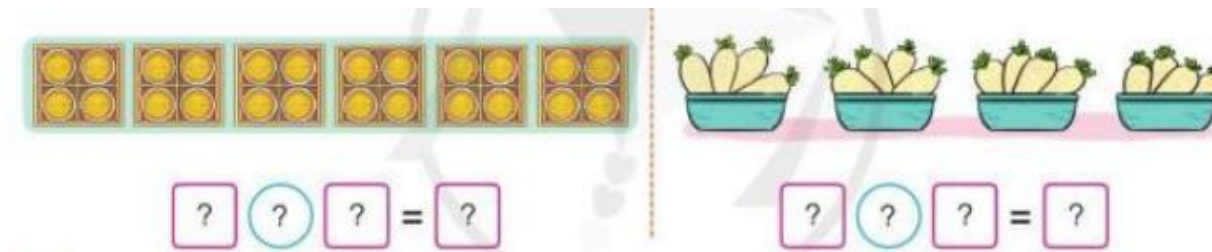
$$4 \times 2 = 8$$

$$4 \times 8 = 32$$

Em nối như hình vẽ:



Toán lớp 3 Tập 1 trang 19 Luyện tập 3: >Nêu phép nhân thích hợp với mỗi tranh vẽ:



Lời giải:

*) Quan sát hình vẽ:



Có 6 đĩa, mỗi đĩa có 4 chiếc bánh. Có tất cả 24 chiếc bánh.

Em có phép tính $4 \times 6 = 24$.

*) Quan sát hình vẽ:



Có 4 rổ, mỗi rổ có 4 củ cải. Có tất cả 16 củ cải.

Em có phép tính $4 \times 4 = 16$.

Toán lớp 3 Tập 1 trang 19 Luyện tập 4:

a) Hãy đếm thêm 4:

4	8	?	?	?	?	?	?	?	?
---	---	---	---	---	---	---	---	---	---

b) Xếp các chấm tròn thích hợp với mỗi phép nhân 4×3 ; 4×7 .


Lời giải:

a)

4	8	12	16	20	24	28	32	36	40
---	---	----	----	----	----	----	----	----	----

b) Học sinh tự làm học HS tự làm

Toán lớp 3 Tập 1 trang 19 Vận dụng 5:



- a) Mỗi bàn có 4 chỗ ngồi. Hỏi 9 bàn như thế có tất cả bao nhiêu chỗ ngồi?
- b) Kể một tình huống sử dụng phép nhân 4×5 trong thực tế.

Lời giải:

- a) 9 bàn như thế có tất cả số chỗ ngồi là:

$$4 \times 9 = 36 \text{ (chỗ)}$$

Đáp số: 36 chỗ ngồi

- b) Một hộp có 4 cái kẹo. Vậy 5 cái hộp như thế có tất cả:

$$4 \times 5 = 20 \text{ (cái kẹo)}$$