

Hướng dẫn giải các bài tập trang 16, 17 Bảng nhân 3 sách giáo khoa Toán lớp 3 bộ sách Cánh diều (CD) thuộc chương trình mới chi tiết và chính xác nhất sẽ là nguồn tài liệu tham khảo hữu ích dành cho phụ huynh và các em học sinh.

Giải Toán Cánh diều lớp 3 Bảng nhân 3**Toán lớp 3 Tập 1 trang 17 Luyện tập 1: Tính nhẩm:**

3×3 3×6 3×1

3×7 3×4 3×9

3×10 3×2 3×5

3×8 2×3 5×3

Lời giải:

$3 \times 3 = 9$ $3 \times 6 = 18$ $3 \times 1 = 3$

$3 \times 7 = 21$ $3 \times 4 = 12$ $3 \times 9 = 27$

$3 \times 10 = 30$ $3 \times 2 = 6$ $3 \times 5 = 15$

$3 \times 8 = 24$ $2 \times 3 = 6$ $5 \times 3 = 15$

Toán lớp 3 Tập 1 trang 17 Luyện tập 2: Tính:

$3 \text{ kg} \times 2$

$3 \text{ m} \times 8$

$3 \text{ l} \times 7$

$3 \text{ dm} \times 4$

$3 \text{ km} \times 9$

$3 \text{ mm} \times 10$

Lời giải:

$3 \text{ kg} \times 2 = 6 \text{ kg}$

$3 \text{ m} \times 8 = 24 \text{ m}$

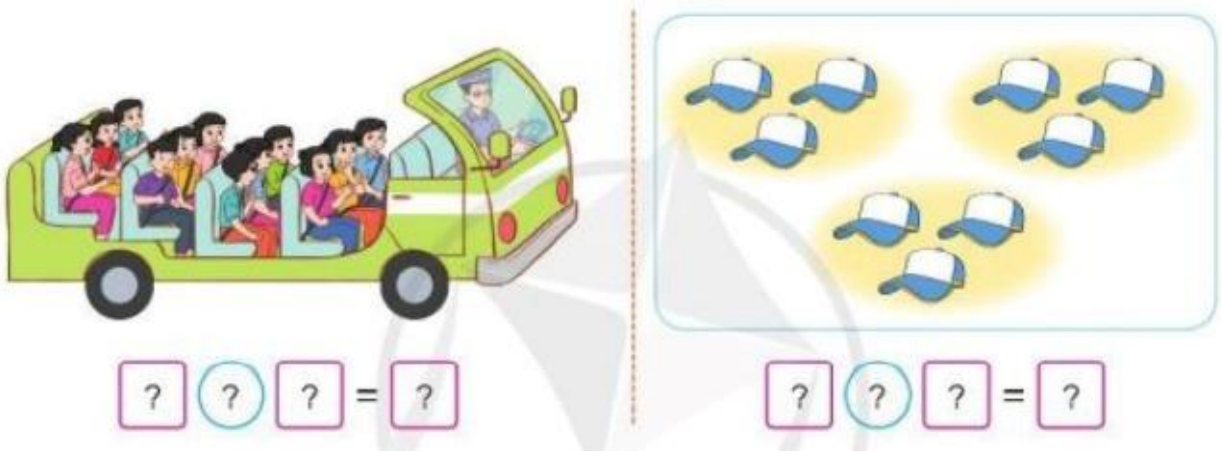
$3 \text{ l} \times 7 = 21 \text{ l}$

$3 \text{ dm} \times 4 = 12 \text{ dm}$

$3 \text{ km} \times 9 = 27 \text{ km}$

$3 \text{ mm} \times 10 = 30 \text{ mm}$

Toán lớp 3 Tập 1 trang 17 Luyện tập 3: Nêu phép nhân thích hợp với mỗi tranh vẽ:



Lời giải:

*) Quan sát hình vẽ:

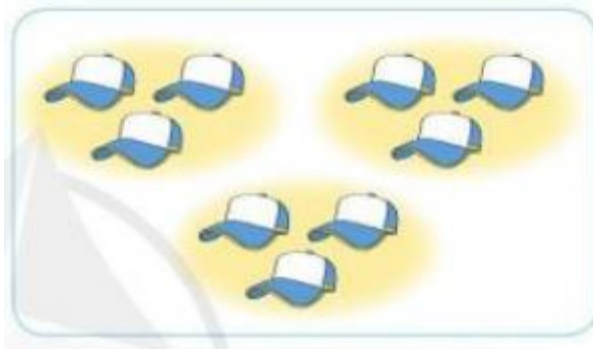


Có 4 hàng, mỗi hàng có 3 người. Có tất cả 12 người.

Em có phép tính:

$$3 \times 4 = 12$$

*) Quan sát hình vẽ:



Có 3 nhóm, mỗi nhóm có 3 mũ. Có tất cả 9 người.

Em có phép tính:

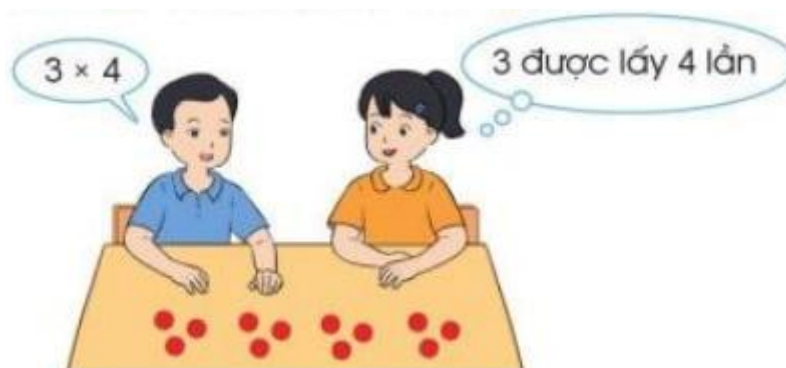
$$3 \times 3 = 9$$

Toán lớp 3 Tập 1 trang 17 Luyện tập 4:

a) Hãy đếm thêm 3:



b) Xếp các chấm tròn thích hợp vào mỗi phép nhân sau:



$$3 \times 5$$

$$3 \times 6$$

3×7

Lời giải:

a)



b) $3 \times 5 = 15$ (3 được lấy 5 lần)

$3 \times 6 = 18$ (3 được lấy 6 lần)

$3 \times 7 = 21$ (3 được lấy 7 lần)

Toán lớp 3 Tập 1 trang 17 Vận dụng 5:

a) Mỗi khay có 3 chiếc bánh bao. Hỏi 6 khay như thế có tất cả bao nhiêu chiếc bánh bao?

b) Kể một tình huống sử dụng phép nhân 3×7 trong thực tế.

Lời giải:

a) 6 khay như thế có số chiếc bánh bao là:

$3 \times 6 = 18$ (chiếc)

Đáp số: 18 chiếc bánh bao.

b) Có 7 đĩa đựng táo, mỗi đĩa có 3 quả táo.

Có tất cả số quả táo là:

$3 \times 7 = 21$ (quả)

Đáp số: 21 quả táo

