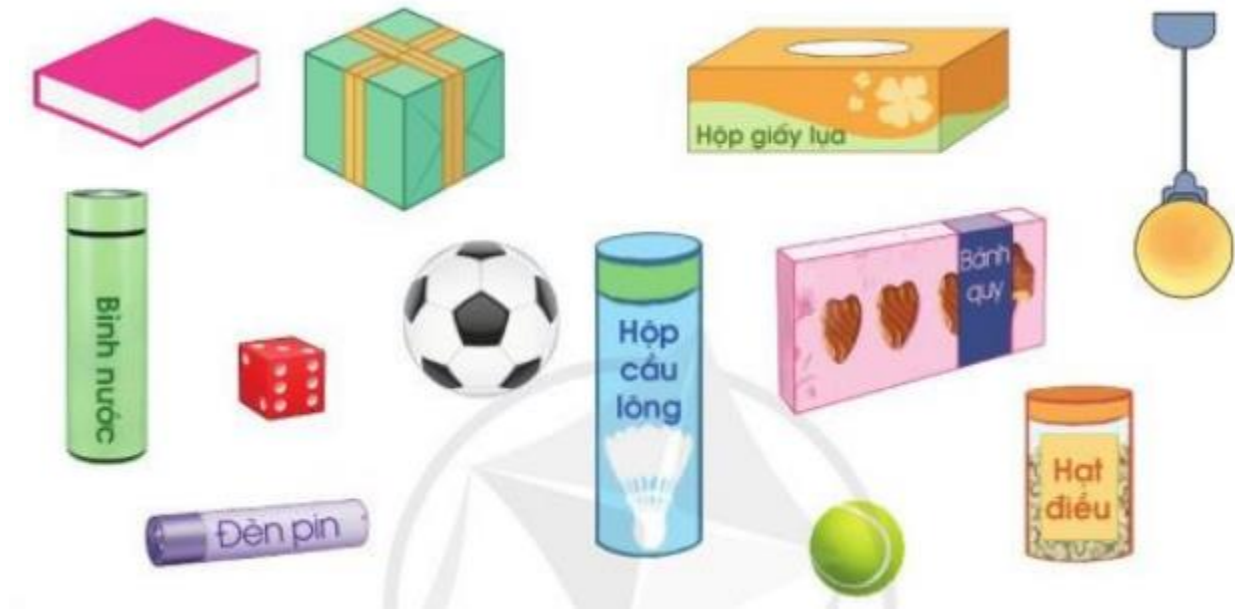


Hướng dẫn giải các bài tập trang 10, 11 Ôn tập về hình học và đo lường sách giáo khoa Toán lớp 3 bộ sách Cánh diều (CD) thuộc chương trình mới chi tiết và chính xác nhất sẽ là nguồn tài liệu tham khảo hữu ích dành cho phụ huynh và các em học sinh.

### ***Giải Toán Cánh diều lớp 3 Ôn tập về hình học và đo lường***

**Toán lớp 3 Tập 1 trang 10 Luyện tập 1:** Xem các hình sau rồi chỉ ra những đồ vật có dạng khối lập phương, khối hộp chữ nhật, khối trụ, khối cầu:



#### **Lời giải:**

- Những đồ vật có dạng khối lập phương là: Hộp quà, xúc xắc.
- Những đồ vật có dạng khối hộp chữ nhật là: Quyển sách, hộp giấy lụa, hộp bánh quy.
- Những đồ vật có dạng khối trụ là: Bình nước, đèn pin, hộp cầu lông, hộp hạt điều.
- Những đồ vật có dạng khối cầu là: Quả banh, quả bóng tennis, bóng đèn.

#### **Toán lớp 3 Tập 1 trang 10 Luyện tập 2:**

a) Đo rồi đọc tên đoạn thẳng dài nhất trong các đoạn thẳng sau:



b) Vẽ đoạn thẳng MN có độ dài 1 dm.

**Lời giải:**

Học sinh tự thực hành.

**Toán lớp 3 Tập 1 trang 10 Luyện tập 3:** Quay kim trên mặt đồng hồ để đồng hồ chỉ:



a) 7 giờ, 1 giờ rưỡi, 12 giờ 15 phút

b) 14 giờ 30 phút, 22 giờ, 16 giờ 15 phút.

**Lời giải:**

Học sinh tự thực hành.

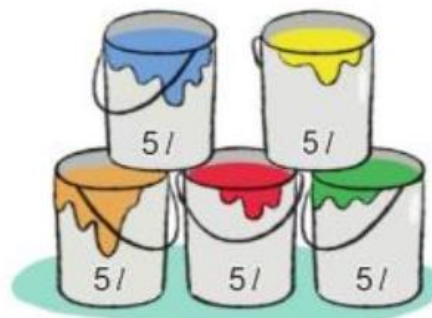
**Toán lớp 3 Tập 1 trang 11 Luyện tập 4:**Số?



$?$  l



$?$  l



$?$  l


**Lời giải:**



$6$  l



$16$  l



$25$  l

**Toán lớp 3 Tập 1 trang 11 Vận dụng 5:** Quan sát sơ đồ sau, trả lời các câu hỏi:



a) Quãng đường từ nhà Nguyên đến nhà Khuê dài hơn quãng đường từ nhà Nguyên đến thư viện bao nhiêu mét?

b) Quãng đường ngắn nhất từ nhà Ngân đến khu vui chơi giải trí dài bao nhiêu mét?

**Lời giải:**

a) Quãng đường từ nhà Nguyên đến nhà Khuê dài 968 m.

Quãng đường từ nhà Nguyên đến thư viện dài 697 m.

Quãng đường từ nhà Nguyên đến nhà Khuê dài hơn quãng đường từ nhà Nguyên đến thư viện số mét là:

$$968 - 697 = 271 \text{ (m)}$$

Đáp số: 271 mét

b)



Quãng đường từ nhà Ngân đến khu vui chơi giải trí mà đi qua trường học dài là:

$$396 + 283 = 679 \text{ (m)}$$

Quãng đường từ nhà Ngân đến khu vui chơi giải trí mà đi qua rạp chiếu phim dài là:

$$396 + 386 = 782 \text{ (m)}$$

Vì  $679 \text{ m} < 782 \text{ m}$  nên quãng đường ngắn nhất từ nhà Ngân đến khu vui chơi giải trí dài 679 m.