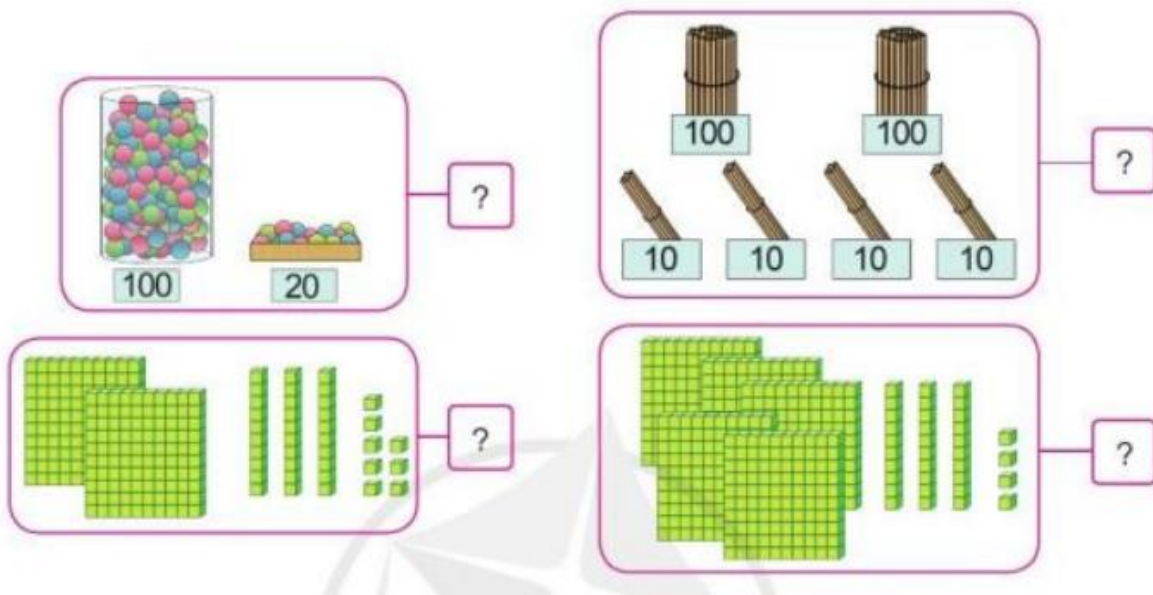


Hướng dẫn giải các bài tập trang 6, 7 Ôn tập về các số trong phạm vi 1000 sách giáo khoa Toán lớp 3 bộ sách Cánh diều (CD) thuộc chương trình mới chi tiết và chính xác nhất sẽ là nguồn tài liệu tham khảo hữu ích dành cho phụ huynh và các em học sinh.

Giải Toán Cánh diều lớp 3 Ôn tập về các số trong phạm vi 1000

Toán lớp 3 Tập 1 trang 6 Luyện tập 1: Số?

a)



b)

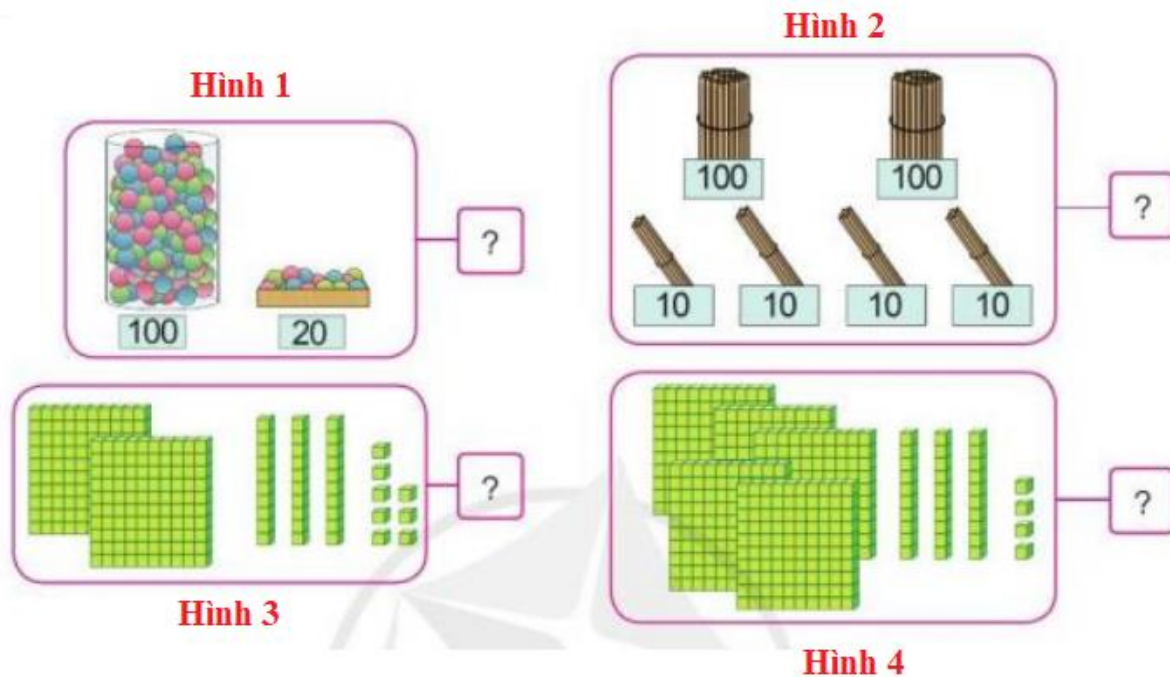


c) Số liền trước của 470 là ? . Số liền sau của 489 là ? .

d) 715 gồm ? trăm ? chục ? đơn vị, ta viết $715 = ? + ? + ?$

Lời giải:

a)



*) Hình 1 ta có hộp số 1 đựng 100 quả bóng; hộp số 2 đựng 20 quả bóng.

Em có phép tính $100 + 20 = 120$.

Vậy ta điền 120.

*) Hình 2 ta có 2 bó 100 que và 4 bó 10 que.

Em có phép tính $100 + 100 + 10 + 10 + 10 + 10 = 200 + 40 = 240$.

Vậy ta điền 240.

*) Hình 3 ta có một hàng dọc có 10 hình lập phương.

Một hình to được kết hợp bởi 10 hàng dọc, như vậy cả một hình to có 1000 hình lập phương nhỏ.

Em có phép tính $1000 + 1000 + 10 + 10 + 10 + 8 = 2000 + 30 + 8 = 2038$

Vậy ta điền 2038.

*) Hình 4 ta có một hàng dọc có 10 hình lập phương.

Một hình to được kết hợp bởi 10 hàng dọc, như vậy cả hình to có 1000 hình lập phương.

Em có phép tính:

$$1000 + 1000 + 1000 + 1000 + 1000 + 10 + 10 + 10 + 4 = 5000 + 30 + 4 = 5034$$

Vậy ta điền 5034

b)



c) Số liền trước của số 470 là 468. Số liền sau của số 489 là 490.

d) 715 gồm 7 trăm 1 chục 5 đơn vị, ta viết $715 = 700 + 10 + 5$.

Toán lớp 3 Tập 1 trang 6 Luyện tập 2: Quan sát tranh, thực hiện các yêu cầu sau:



a) Nêu tên bạn thu gom được nhiều vỏ chai nhựa nhất.

b) Nêu tên các bạn theo thứ tự số lượng vỏ chai nhựa thu gom được từ nhiều đến ít.

Lời giải:

Ta có Hải thu gom được 148 chai ; Xuân thu gom được 112 chai; Mạnh thu được 95 chai và Hương thu được 165 chai.

Sắp xếp theo thứ tự từ bé đến lớn số chai thu gom được ta có: $95 < 112 < 148 < 165$

a) Vậy Hương thu gom được số chai lớn nhất.

b) Tên các bạn thu được số chai từ nhiều đến ít là : Hương, Hải, Xuân , Mạnh.

Toán lớp 3 Tập 1 trang 7 Luyện tập 3:

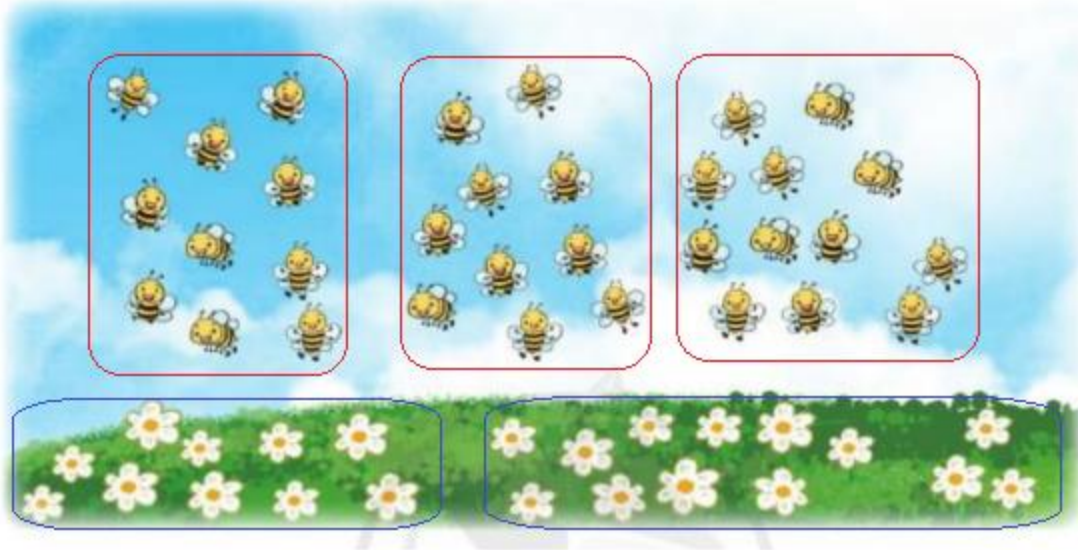


a) Em hãy ước lượng trong hình sau có bao nhiêu con ong, có khoảng bao nhiêu bông hoa

b) Em hãy đếm số con ong, số bông hoa để kiểm tra lại

Lời giải:

a)




Quan sát hình vẽ em thấy:

Có 3 nhóm ong, mỗi nhóm có khoảng 10 con ong. Ước lượng có khoảng 30 con ong.

Có 2 nhóm hoa, mỗi nhóm có khoảng 10 bông hoa. Ước lượng có khoảng 20 bông hoa.

b) Sau khi đếm, em có: 32 con ong; 23 bông hoa

Toán lớp 3 Tập 1 trang 7 Vận dụng 4: Số ghế của bố và Ngọc là 231 và 232. Em hãy chỉ dẫn giúp hai bố con Ngọc tìm được ghế của mình.

**Lời giải:**

Trước hết ta tìm hàng có số ghế bắt đầu từ số 2. Ta thấy trong một hàng, số ghế tăng dần từ trái qua phải. Số ghế 231 và 232 là hai số cạnh nhau, từ đó ta sẽ tìm được vị trí ghế của hai bố con Ngọc.