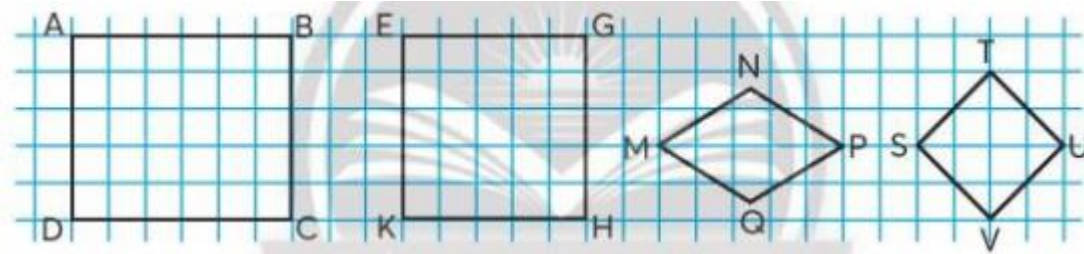


Hướng dẫn giải các bài tập trang 36 Hình vuông sách giáo khoa Toán lớp 3 bộ sách Chân trời sáng tạo (CTST) thuộc chương trình mới chi tiết và chính xác nhất sẽ là nguồn tài liệu tham khảo hữu ích dành cho phụ huynh và các em học sinh.

Giải Toán lớp 3 CTST trang 36 Thực hành

Giải Toán lớp 3 Tập 2 trang 36 Bài 1: Trong các hình dưới đây, hình nào là hình vuông?

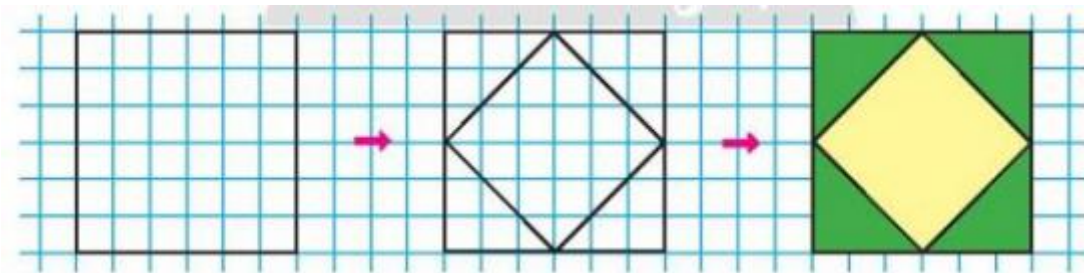


Lời giải:

Quan sát hình vẽ và sử dụng đặc điểm của hình vuông.

Hình EGHK và hình TUVS là hình vuông.

Giải Toán lớp 3 Tập 2 trang 36 Bài 2: Vẽ và trang trí hình vuông trên giấy kẻ ô vuông.

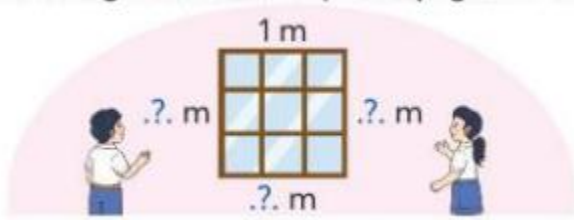


Lời giải:

Học sinh tự thực hành.

Giải Toán CTST lớp 3 trang 36 Luyện tập

Giải Toán lớp 3 Tập 2 trang 36 Bài 1: Số?

**Lời giải:**

Hình vuông có 4 cạnh có độ dài bằng nhau.

Vì khung cửa sổ có độ dài 1 cạnh là 1 m nên độ dài các cạnh còn lại của khung cửa sổ là 1 m.

