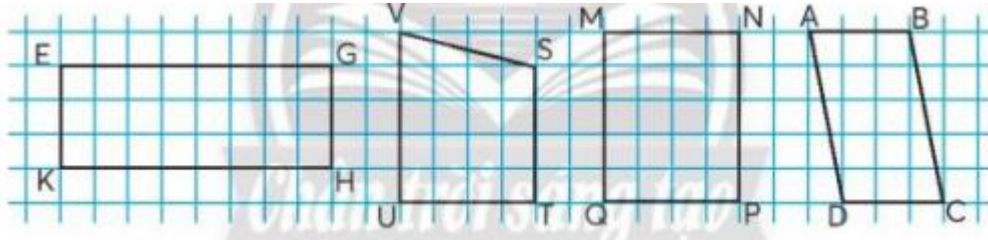


Hướng dẫn giải các bài tập trang 35 Hình chữ nhật sách giáo khoa Toán lớp 3 bộ sách Chân trời sáng tạo (CTST) thuộc chương trình mới chi tiết và chính xác nhất sẽ là nguồn tài liệu tham khảo hữu ích dành cho phụ huynh và các em học sinh.

Giải Toán lớp 3 CTST trang 35 Thực hành

Giải Toán lớp 3 Tập 2 trang 35 Bài 1: Trong các hình dưới đây, hình nào là hình chữ nhật?

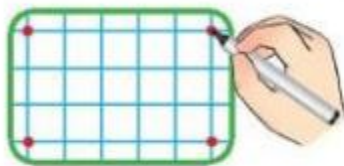


Lời giải:

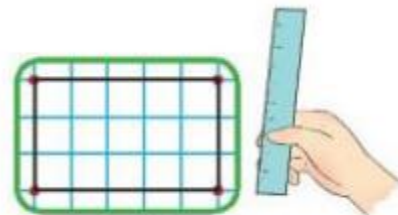
Em quan sát hình vẽ và dựa vào đặc điểm của hình chữ nhật.

Các hình EGHK và MNPQ là hình chữ nhật.

Giải Toán lớp 3 Tập 2 trang 35 Bài 2: Vẽ hình chữ nhật trên bảng con.



Vẽ 4 đỉnh của hình chữ nhật.



Dùng thước thẳng vẽ các cạnh.

Lời giải:

Học sinh tự thực hành.

Giải Toán CTST lớp 3 trang 35 Luyện tập

Giải Toán lớp 3 Tập 2 trang 35 Bài 1: Số?



Khung cửa sổ có dạng hình chữ nhật.



Lời giải:

Hình chữ nhật có:

- + 4 góc vuông
- + 2 cạnh dài có độ dài bằng nhau
- + 2 cạnh ngắn có độ dài bằng nhau

Quan sát hình vẽ, em thấy: Khung cửa sổ dạng hình chữ nhật, cạnh dài 150 cm, cạnh ngắn 120 cm.

