

Hướng dẫn giải các bài tập trang 26, 27, 28 Nhân số có bốn chữ số với số có một chữ số sách giáo khoa Toán lớp 3 bộ sách Chân trời sáng tạo (CTST) thuộc chương trình mới chi tiết và chính xác nhất sẽ là nguồn tài liệu tham khảo hữu ích dành cho phụ huynh và các em học sinh.

***Giải Toán lớp 3 CTST trang 26 Thực hành*****Giải Toán lớp 3 Tập 2 trang 26 Bài 1:** Đặt tính rồi tính:

$1221 \times 4$

$2000 \times 5$

$1105 \times 9$

$1060 \times 6$

$810 \times 8$

$2618 \times 2$

**Lời giải:**

$$\begin{array}{r} 1221 \\ \times 4 \\ \hline 4884 \end{array}$$

$$\begin{array}{r} 2000 \\ \times 5 \\ \hline 10000 \end{array}$$

$$\begin{array}{r} 810 \\ \times 8 \\ \hline 6480 \end{array}$$

$$\begin{array}{r} 1105 \\ \times 9 \\ \hline 9945 \end{array}$$

$$\begin{array}{r} 1060 \\ \times 6 \\ \hline 6360 \end{array}$$

$$\begin{array}{r} 2618 \\ \times 2 \\ \hline 5236 \end{array}$$

***Giải Toán Chân trời sáng tạo lớp 3 trang 27, 28 Luyện tập*****Giải Toán lớp 3 Tập 2 trang 27 Bài 1:** Tính nhẩm:

a)  $50 \times 2$

b)  $20 \times 4$

$500 \times 2$

$200 \times 4$

$5000 \times 2$

$2000 \times 4$

**Lời giải:**

a)  $50 \times 2 = 100$

$500 \times 2 = 1\ 000$

$5\ 000 \times 2 = 10\ 000$

b)  $20 \times 4 = 80$

$200 \times 4 = 800$

$2\ 000 \times 4 = 8\ 000$

**Giải Toán lớp 3 Tập 2 trang 27 Bài 2: Số?**



**Lời giải:**

Em thực hiện theo các phép tính viết trên mũi tên.



**Giải Toán lớp 3 Tập 2 trang 27 Bài 3: >, <, =**

a)  $1080 \times 9$  .?.  $1020 \times 9$

b)  $2 \times 1000 \times 5$  .?.  $1000 \times 2 \times 5$

c)  $2400 \times 2$  .?.  $(200 + 4000) \times 2$

**Lời giải:**

a)  $1080 \times 9 > 1020 \times 9$  (vì hai phép tính có cùng thừa số 9, mà  $1080 > 1020$ )

b)  $2 \times 1000 \times 5 = 1000 \times 2 \times 5$  (vì hai phép tính có thừa số giống nhau)

c) Ta có:  $200 + 4000 = 4200$ , bài tập đưa về so sánh  $2400 \times 2$  và  $4200 \times 2$

$2400 \times 2 < (200 + 4000) \times 2$  (vì hai phép tính có thừa số 2 giống nhau và  $2400 < 4200$ )

**Giải Toán lớp 3 Tập 2 trang 27 Bài 4:** Tìm giá trị thích hợp của mỗi biểu thức.

**Lời giải:**

**Lời giải:**

Em tính giá trị của biểu thức:

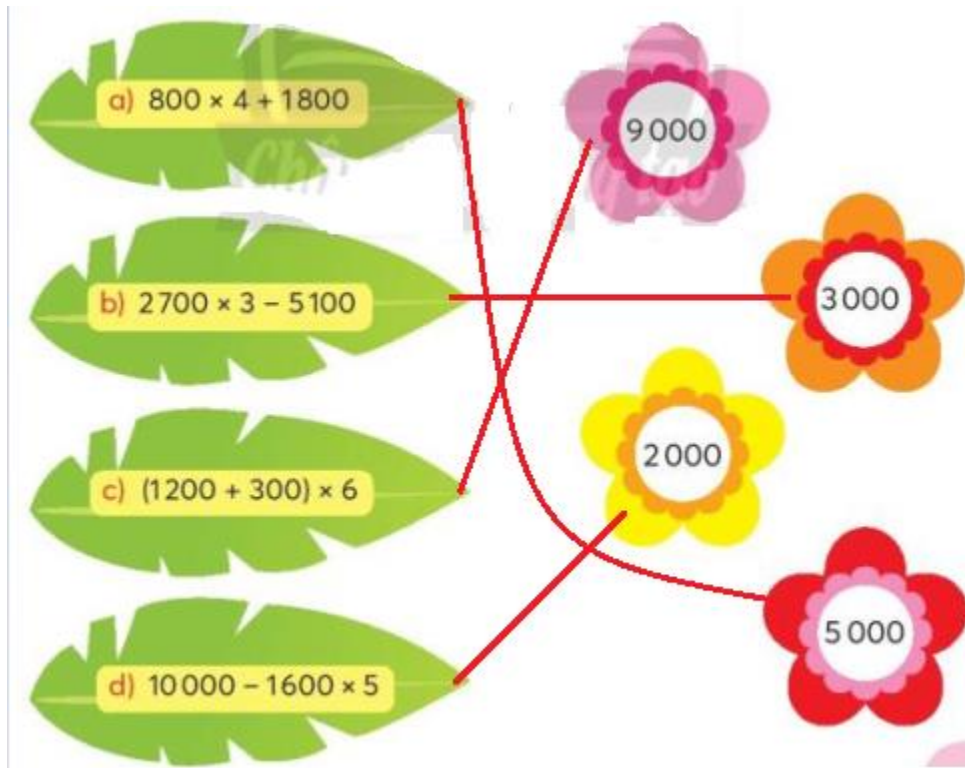
a)  $800 \times 4 + 1\,800 = 3\,200 + 1\,800 = 5\,000$

b)  $2\ 700 \times 3 - 5\ 100 = 8\ 100 - 5\ 100 = 3\ 000$

c)  $(1\ 200 + 300) \times 6 = 1\ 500 \times 6 = 9\ 000$

d)  $10\ 000 - 1\ 600 \times 5 = 10\ 000 - 8\ 000 = 2\ 000$

Em nối như hình vẽ:



**Giải Toán lớp 3 Tập 2 trang 28 Bài 5:**

Trong kho có 10 000 kg gạo. Người ta dùng 6 xe để chuyển gạo trong kho đến các cửa hàng. Biết mỗi xe chở 1500 kg gạo. Hỏi trong kho còn lại bao nhiêu ki-lô-gam gạo?

**Lời giải:**

6 xe chuyển số ki-lô-gam gạo là:

$1\ 500 \times 6 = 9\ 000$  (kg)

Trong kho còn lại số ki-lô-gam gạo là:

$$10\ 000 - 9\ 000 = 1\ 000 \text{ (kg)}$$

Đáp số: 1 000 kg gạo

**Giải Toán lớp 3 Tập 2 trang 28 Bài 6:** Hôm qua bạn Nam đã uống 1 l nước và 2 chai nước, mỗi chai 500 ml. Hỏi hôm qua bạn Nam đã uống bao nhiêu lít nước?

**Lời giải:**

Tổng lượng nước của hai chai nước là:

$$500 \times 2 = 1\ 000 \text{ (ml)}$$

$$\text{Đổi: } 1\ 000 \text{ ml} = 1 \text{ l}$$


Tổng số lít nước hôm qua bạn Nam uống là:

$$1 + 1 = 2 \text{ (lít)}$$





Đáp số: 2 lít nước

**Giải Toán CTST lớp 3 trang 28 Vui học**

**Giải Toán lớp 3 Tập 2 trang 28 Bài Vui học:** Chỉ đường cho bạn Gấu đi theo các phép tính có kết quả lớn hơn 1000 để tìm được mật ong.

Bắt đầu 

$5 \times 1000$	$600 \times 2$	$2000 - 900$	$130 \times 8$
$7 \times 150$	$1350 - 250$	$1200 - 170$	$300 + 701$
$620 + 180$	$780 + 300$	$600 + 410$	$120 \times 9$
$1500 - 450$	$5 \times 200$	$900 \times 3$	$1570 - 570$

**Lời giải:**

Em thực hiện các phép tính:

$5 \times 1000 = 5000$	$600 \times 2 = 1200$
$600 \times 2 = 1200$	$1350 - 250 = 1150$
$2000 - 900 = 1100$	$780 + 300 = 1080$
$130 \times 8 = 1040$	$5 \times 200 = 1000$
$2000 - 900 = 1100$	$130 \times 8 = 1040$
$1200 - 170 = 1030$	$300 + 701 = 1001$
$600 + 410 = 1010$	$120 \times 9 = 1080$
$900 \times 3 = 2700$	$1570 - 570 = 1000$

Đường bạn Gấu đi là:

