

Hướng dẫn giải các bài tập trang 82, 83 Em làm được những gì? sách giáo khoa Toán lớp 3 bộ sách Chân trời sáng tạo (CTST) thuộc chương trình mới chi tiết và chính xác nhất sẽ là nguồn tài liệu tham khảo hữu ích dành cho phụ huynh và các em học sinh.

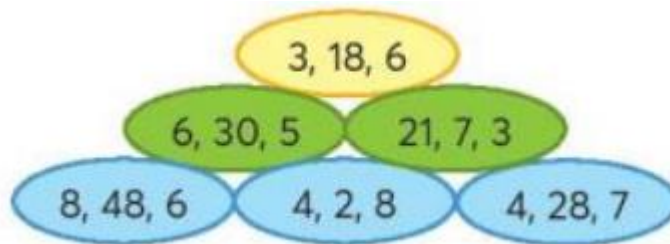
**Giải Toán lớp 3 CTST trang 82, 83 Luyện tập**

**Giải Toán lớp 3 Tập 1 trang 82 Bài 1:** Chọn bộ ba số thích hợp để nói các phép tính trong bảng nhân, chia đã học (theo mẫu):

Mẫu: 3, 18, 6

$$3 \times 6 = 18 \quad 18 : 3 = 6$$

$$6 \times 3 = 18 \quad 18 : 6 = 3$$

**Lời giải:**

\*) Bộ ba số 6, 30, 5

$$6 \times 5 = 30 \quad 5 \times 6 = 30$$

$$30 : 6 = 5 \quad 30 : 5 = 6$$

\*) Bộ ba số 21, 7, 3

$$7 \times 3 = 21 \quad 3 \times 7 = 21$$

$$21 : 7 = 3 \quad 21 : 3 = 7$$

\*) Bộ ba số 8, 48, 6

$8 \times 6 = 48 \quad 6 \times 8 = 48$

$48 : 8 = 6 \quad 48 : 6 = 8$

\*) Bộ ba số 4, 2, 8

$4 \times 2 = 8 \quad 2 \times 4 = 8$

$8 : 4 = 2 \quad 8 : 2 = 4$

\*) Bộ ba số 4, 28, 7

$4 \times 7 = 28 \quad 7 \times 4 = 28$

$28 : 4 = 7 \quad 28 : 7 = 4$

**Giải Toán lớp 3 Tập 1 trang 82 Bài 2: Đúng hay sai?**

a) 
$$\begin{array}{r} 45 \\ \times 2 \\ \hline 90 \end{array}$$

b) 
$$\begin{array}{r} 128 \\ \times 3 \\ \hline 364 \end{array}$$

c) 
$$\begin{array}{r} 96 \\ 6 \overline{) 6} \\ \hline 36 \\ 36 \\ \hline 0 \end{array}$$

d) 
$$\begin{array}{r} 869 \\ 8 \overline{) 6} \\ \hline 069 \\ 64 \\ \hline 5 \end{array}$$

**Lời giải:**

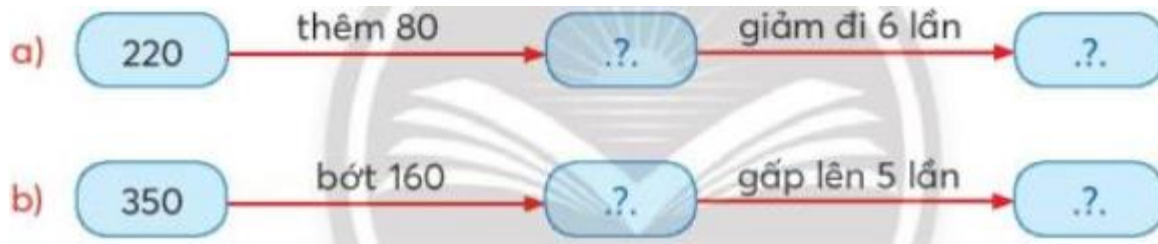
a) Đúng.

b) Sai.

c) Đúng.

d) Sai.

**Giải Toán lớp 3 Tập 1 trang 82 Bài 3: Số?**



**Lời giải:**

a)  $220 + 80 = 300$

$300 : 6 = 50$

b)  $350 - 160 = 190$

$190 \times 5 = 950$

**Giải Toán lớp 3 Tập 1 trang 82 Bài 4:** Chọn đồng hồ phù hợp với cách đọc.



A. 15 giờ 6 phút  
hay 3 giờ 6 phút chiều



B. 10 giờ 53 phút  
hay 11 giờ kém 7 phút



C. 18 giờ 22 phút  
hay 6 giờ 22 phút chiều



D. 16 giờ 45 phút  
hay 17 giờ kém 15 phút

**Lời giải:**

A. 15 giờ 6 phút  
hay 3 giờ 6 phút chiều

B. 10 giờ 53 phút  
hay 11 giờ kém 7 phút

C. 18 giờ 22 phút  
hay 6 giờ 22 phút chiều

D. 16 giờ 45 phút  
hay 17 giờ kém 15 phút

**Giải Toán lớp 3 Tập 1 trang 83 Bài 5:** Chọn ý trả lời đúng.


a) Đã tô màu 1/4 hình nào?



b) Trong ba địa điểm sau, nơi lạnh nhất là:



A. Mẫu Sơn  
(Lạng Sơn)



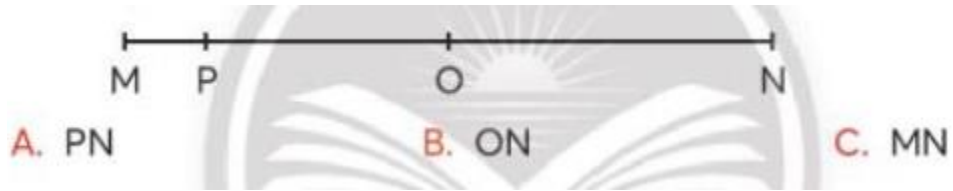
B. Bạch Mã  
(Thừa Thiên - Huế)



C. Đà Lạt  
(Lâm Đồng)



c) O là trung điểm của đoạn thẳng:



**Lời giải:**

a)

Đã tô màu 1616 hình A.

Đã tô màu 1313 hình B.

Đã tô màu 1414 hình C.

Chọn C.

b) Hình A nhiệt độ ở Mẫu Sơn là  $0^{\circ}\text{C}$ .

Hình B nhiệt độ ở Bạch Mã là  $4^{\circ}\text{C}$ .

Hình C nhiệt độ ở Lâm Đồng là  $12^{\circ}\text{C}$ .

Chọn A.

c) Quan sát hình vẽ, em thấy: Điểm O nằm giữa hai điểm M và N;  $OM = ON$  nên điểm O là trung điểm của đoạn thẳng MN.

Chọn C.