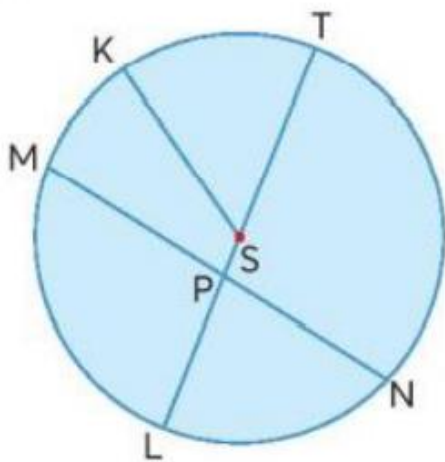


Hướng dẫn giải các bài tập trang 79, 80 Hình tròn sách giáo khoa Toán lớp 3 bộ sách Chân trời sáng tạo (CTST) thuộc chương trình mới chi tiết và chính xác nhất sẽ là nguồn tài liệu tham khảo hữu ích dành cho phụ huynh và các em học sinh.

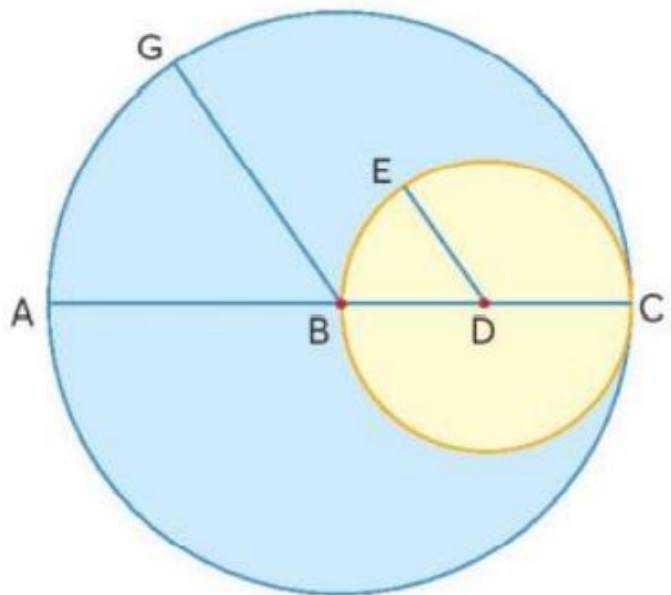
**Giải Toán lớp 3 CTST trang 79, 80 Thực hành**

**Giải Toán lớp 3 Tập 1 trang 79 Bài 1:** Nêu tên tâm, các bán kính, đường kính có trong mỗi hình tròn sau:

a)



b)

**Lời giải:**

a) Đường tròn tâm S:

Bán kính SK, ST, SL

Đường kính LN.

b)

\*) Đường tròn tâm B

Bán kính BG, BA, BC

Đường kính AC.

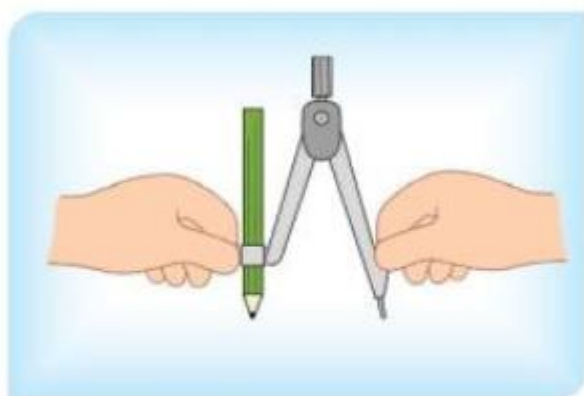
\*) Đường tròn tâm D

Bán kính DE, DB, DC

Đường kính BC.

**Giải Toán lớp 3 Tập 1 trang 80 Bài 2:** Thực hành vẽ hình tròn bằng com – pa:

a) Sử dụng com – pa để vẽ hình tròn.



Mở com-pa.



Xoay com-pa.

b) Vẽ em bé và ông mặt trời.



**Lời giải:**

Học sinh tự thực hành.

***Giải Toán CTST lớp 3 trang 80 Luyện tập***

**Giải Toán lớp 3 Tập 1 trang 80 Bài 1:** Câu nào đúng, câu nào sai?

Trong một hình tròn:

- a) Chỉ có một bán kính và một đường kính.
- b) Có nhiều bán kính và nhiều đường kính.
- c) Các đường kính dài bằng nhau.
- d) Đường kính dài gấp 2 lần bán kính.

**Lời giải:**

- a) Sai.
- b) Đúng.
- c) Đúng.
- d) Đúng.