

Hướng dẫn giải các bài tập trang 71, 72 Xem đồng hồ sách giáo khoa Toán lớp 3 bộ sách Chân trời sáng tạo (CTST) thuộc chương trình mới chi tiết và chính xác nhất sẽ là nguồn tài liệu tham khảo hữu ích dành cho phụ huynh và các em học sinh.

Giải Toán lớp 3 CTST trang 71, 72 Thực hành

Giải Toán lớp 3 Tập 1 trang 71 Bài 1: Mỗi đồng hồ chỉ mấy giờ?

Mẫu:











 9 giờ 39 phút
hay 10 giờ kém 21 phút.


Lời giải:



7 giờ 8 phút



4 giờ 13 phút



2 giờ 48 phút
hay 3 giờ kém 12 phút



10 giờ 37 phút

hay 11 giờ kém 23 phút



12 giờ 54 phút

hay 1 giờ kém 6 phút



12 giờ hay 38 phút

hay 1 giờ kém 22 phút

Giải Toán lớp 3 Tập 1 trang 72 Bài 2: Xoay kim đồng hồ để đồng hồ chỉ:

- a) 3 giờ 21 phút
- b) 7 giờ 54 phút
- c) 11 giờ kém 18 phút

Lời giải:

Học sinh tự thực hành.

Giải Toán CTST lớp 3 trang 72 Luyện tập

Giải Toán lớp 3 Tập 1 trang 72 Bài 1: Chọn đồng hồ phù hợp với cách đọc:



A. 3 giờ kém 12 phút

B. 3 giờ 18 phút

C. 10 giờ 3 phút

D. 10 giờ 21 phút



Lời giải:



A. 3 giờ kém 12 phút

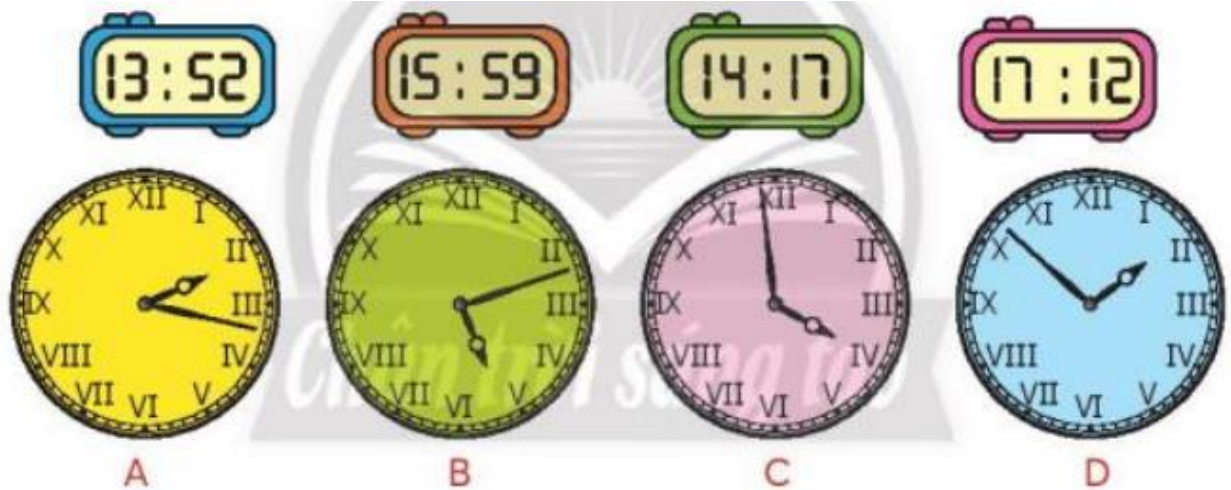
B. 3 giờ 18 phút

C. 10 giờ 3 phút

D. 10 giờ 21 phút



Giải Toán lớp 3 Tập 1 trang 72 Bài 2: Vào một buổi chiều, hai đồng hồ nào chỉ cùng thời gian:



Lời giải:

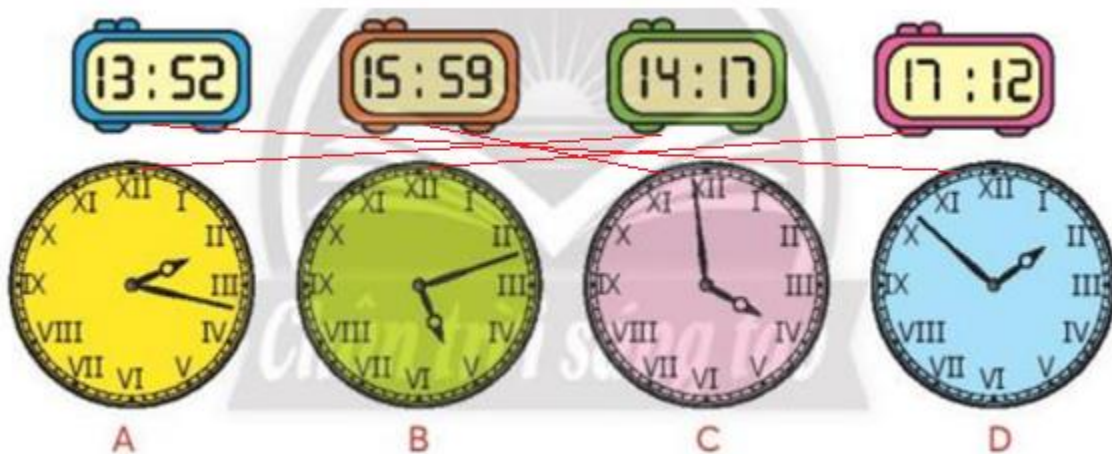
Đồng hồ A chỉ 14 giờ 17 phút

Đồng hồ B chỉ 17 giờ 12 phút

Đồng hồ C chỉ 15 giờ 59 phút

Đồng hồ D chỉ 13 giờ 52 phút

Em nối như hình vẽ:



Giải Toán lớp 3 Tập 1 trang 72 Bài 3:

Mừng xuân mới, trường em tổ chức thi vẽ tranh với chủ đề “Đất nước em”:

Bắt đầu vẽ lúc:



Vẽ xong tranh lúc:



- a) Chúng em bắt đầu vẽ lúc ... giờ
- b) Lớp 2a vẽ xong lúc ... giờ ... phút.
- Lớp 2b vẽ xong lúc ... giờ ... phút.
- c) Thời gian lớp 2a vẽ nhanh hơn lớp 2b là ... phút.

Lời giải:

- a) Chúng em bắt đầu vẽ lúc 8 giờ.
- b) Lớp 2a vẽ xong lúc 11 giờ 8 phút.
- Lớp 2b vẽ xong lúc 11 giờ 20 phút.
- c) Thời gian lớp 2a vẽ nhanh hơn lớp 2b là 12 phút.