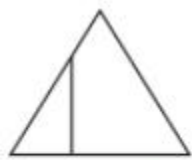


Hướng dẫn giải các bài tập trang 46, 47 Một phần hai, một phần ba, một phần tư, một phần năm sách giáo khoa Toán lớp 3 bộ sách Chân trời sáng tạo (CTST) thuộc chương trình mới chi tiết và chính xác nhất sẽ là nguồn tài liệu tham khảo hữu ích dành cho phụ huynh và các em học sinh.

Giải Toán lớp 3 CTST trang 46 Thực hành


Giải Toán lớp 3 Tập 1 trang 46 Bài 1: Những hình nào đã được chia thành các phần bằng nhau?



Hình A



Hình B



Hình C

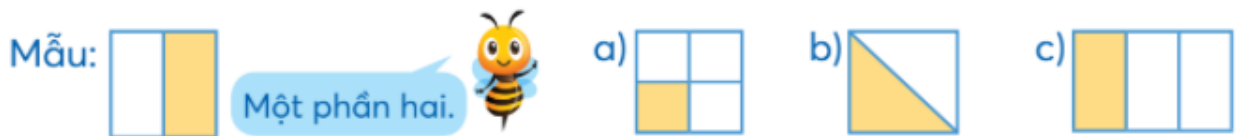


Hình D

Lời giải:

Hình B và hình D đã được chia thành các phần bằng nhau.

Giải Toán lớp 3 Tập 1 trang 46 Bài 2: Đã tô màu một phần mấy mỗi hình? (Nói theo mẫu)



Lời giải:

a) Hình vẽ được chia làm 4 phần bằng nhau, tô màu 1 phần. Đã tô màu $\frac{1}{4}$ hình a.

b) Hình vẽ được chia làm 2 phần bằng nhau, tô màu 1 phần. Đã tô màu $\frac{1}{2}$ hình b.

c) Hình vẽ được chia làm 3 phần bằng nhau, tô màu 1 phần. Đã tô màu $\frac{1}{3}$ hình c.

Giải Toán lớp 3 Tập 1 trang 46 Bài 3:

a) Gấp một mảnh giấy hình vuông để chia mảnh giấy thành bốn phần bằng nhau.

Ví dụ:



b) Tô màu 1414 mảnh giấy hình vuông ở câu a

Lời giải:

Học sinh tự thực hành.

Giải Toán CTST lớp 3 trang 47 Luyện tập

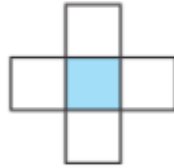
Giải Toán lớp 3 Tập 1 trang 47 Bài 1: Đã tô màu 1515 những hình nào?



Hình A



Hình B



Hình C



Hình D

Lời giải:

Hình A: Hình vẽ có 5 phần bằng nhau, tô màu 1 phần. Đã tô màu 1515 hình A.

Hình B: Hình vẽ có 4 phần bằng nhau, tô màu 1 phần. Đã tô màu 1414 hình B.

Hình C: Hình vẽ có 5 phần bằng nhau, tô màu 1 phần. Đã tô màu 1515 hình C.

Hình D: Hình vẽ đã cho được chia thành 5 phần không bằng nhau.

Đáp án: Đã tô màu 1515 hình A, hình C.

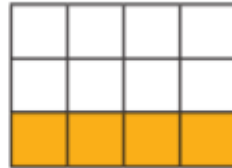
Giải Toán lớp 3 Tập 1 trang 47 Bài 2: Đã tô màu 1313 số ô vuông của những hình nào?



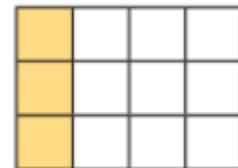
Hình A



Hình B



Hình C



Hình D

Lời giải:

Hình A: Có 3 ô vuông, tô màu 1 ô vuông. Đã tô màu 1313 số ô vuông.

Hình B: Có 6 ô vuông, tô màu 2 ô vuông. Đã tô màu 1313 số ô vuông.

Hình C: Có 12 ô vuông, tô màu 4 ô vuông. Đã tô màu 1313 số ô vuông.

Hình D: Có 12 ô vuông, tô màu 3 ô vuông. Đã tô màu 1414 số ô vuông.

Vậy đã tô màu 1313 số ô vuông của các hình A, B, C.


Giải Toán lớp 3 Tập 1 trang 47 Bài 3: Đã khoanh vào 1212 số cúc áo của những hình nào?



Hình A



Hình B



Hình C

Lời giải:

Hình A có 4 cúc áo, khoanh vào 2 cúc áo. Đã khoanh vào 1212 số cúc áo của hình A.

Hình B có 6 cúc áo, khoanh vào 2 cúc áo. Đã khoanh vào 1313 số cúc áo của hình B.

Hình C có 6 cúc áo, khoanh vào 3 cúc áo. Đã khoanh vào 1212 số cúc áo của hình C.

Trả lời: Đã khoanh vào 1212 số cúc áo của hình A và hình C.

Giải Toán lớp 3 Tập 1 trang 47 Bài 4: Đã khoanh vào 1414 số con vật ở hình nào?



Lời giải:

Hình A: Có 12 con vật, khoanh vào 4 con vật. Đã khoanh vào 1313 số con vật.

Hình B: Có 12 con vật, khoanh vào 3 con vật. Đã khoanh vào 1414 số con vật.

Hình C: Có 16 con vật, khoanh vào 8 con vật. Đã khoanh vào 1212 số con vật.

Trả lời: Đã khoanh vào 1414 số con vật ở hình B.