

Hướng dẫn giải các bài tập trang 28, 29 Xem đồng hồ sách giáo khoa Toán lớp 3 bộ sách Chân trời sáng tạo (CTST) thuộc chương trình mới chi tiết và chính xác nhất sẽ là nguồn tài liệu tham khảo hữu ích dành cho phụ huynh và các em học sinh.

**Giải Toán lớp 3 CTST trang 28, 29 Thực hành****Giải Toán lớp 3 Tập 1 trang 28 Bài 1: Mỗi đồng hồ chỉ mấy giờ?**

Mẫu:

9 giờ 40 phút  
hay 10 giờ kém 20 phút**Lời giải:**

7 giờ 10 phút



4 giờ 15 phút



11 giờ 25 phút



10 giờ 30 phút hay 10 rưỡi



1 giờ 50 phút

hay 2 giờ kém mười phút



1 giờ hay 13 giờ

**Giải Toán lớp 3 Tập 1 trang 29 Bài 2:** Xoay kim đồng hồ để đồng hồ chỉ:

- a) 3 giờ 25 phút
- b) 7 giờ 50 phút
- c) 11 giờ kém 20 phút

**Lời giải:**

Học sinh tự thực hành.

*Giải Toán CTST lớp 3 trang 29 Luyện tập*

**Giải Toán lớp 3 Tập 1 trang 29 Bài 1:** Chọn đồng hồ phù hợp với cách đọc.

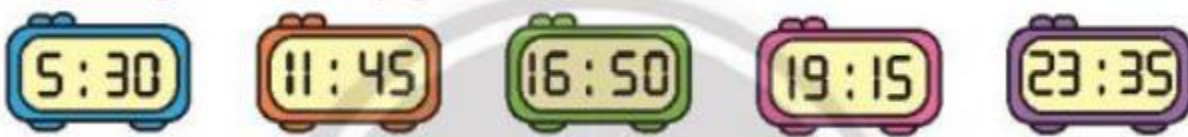
	<b>3 giờ kém 15 phút</b>	
	<b>3 giờ 15 phút</b>	
	<b>10 giờ 5 phút</b>	
	<b>10 giờ 25 phút</b>	

**Lời giải:**

	<b>3 giờ kém 15 phút</b>	
	<b>3 giờ 15 phút</b>	
	<b>10 giờ 5 phút</b>	
	<b>10 giờ 25 phút</b>	

*Note: Arrows in the original image connect the analog clocks to their corresponding text labels: 3:15 to '3 giờ 15 phút', 10:05 to '10 giờ 5 phút', and 10:25 to '10 giờ 25 phút'.*

**Giải Toán lớp 3 Tập 1 trang 29 Bài 2:** Mỗi đồng hồ chỉ mấy giờ?



**Lời giải:**

Đồng hồ chỉ 5 giờ 30 phút hay 5 rưỡi.



Đồng hồ chỉ 11 giờ 45 phút hay 12 giờ kém 15 phút.



Đồng hồ chỉ 4 giờ 50 phút hay 4 giờ kém 10 phút.



Đồng hồ chỉ 7 giờ 15 phút.



Đồng hồ chỉ 11 giờ 35 phút hay 0 giờ kém 25 phút.

**Giải Toán lớp 3 Tập 1 trang 29 Bài 3:** Vào một buổi tối, hai đồng hồ nào chỉ cùng thời gian?




A



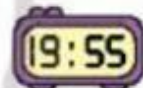
B



C



D



E



G

**Lời giải:**

Quan sát hình vẽ, em thấy:

- Đồng hồ A chỉ 7 giờ 55 phút.
- Đồng hồ B chỉ 9 giờ.
- Đồng hồ C chỉ 8 giờ 20 phút.
- Đồng hồ D chỉ 9 giờ.
- Đồng hồ E chỉ 7 giờ 55 phút.
- Đồng hồ G chỉ 8 giờ 20 phút.

Kết luận:

- Đồng hồ A và đồng hồ E chỉ cùng thời gian.
- Đồng hồ B và đồng hồ D chỉ cùng thời gian.
- Đồng hồ C và đồng hồ G chỉ cùng thời gian.

**Giải Toán lớp 3 Tập 1 trang 29 Bài 4:** Buổi sáng ngày 20 tháng 11 ở lớp em.

Số?



- a) Chúng em bắt đầu liên hoan văn nghệ vào lúc .?. giờ .?. phút và kết thúc lúc .?. giờ kém .?. phút.
- b) Buổi liên hoan văn nghệ kéo dài trong .?. phút.

**Lời giải:**

- a) Chúng em bắt đầu liên hoan văn nghệ vào lúc 9 giờ 25 phút và kết thúc lúc 10 giờ kém 5 phút.
- b) Buổi liên hoan văn nghệ kéo dài trong 30 phút.