

Hướng dẫn giải các bài tập trang 19, 20 Em làm được những gì? sách giáo khoa Toán lớp 3 bộ sách Chân trời sáng tạo (CTST) thuộc chương trình mới chi tiết và chính xác nhất sẽ là nguồn tài liệu tham khảo hữu ích dành cho phụ huynh và các em học sinh.

**Giải Toán lớp 3 CTST trang 19, 20 Luyện tập****Giải Toán lớp 3 Tập 1 trang 19 Bài 1:** Câu nào đúng, câu nào sai?

- a) 467 gồm 4 trăm, 6 chục và 7 đơn vị.
- b) 599 là số liền trước của 600.
- c) 835, 583, 358, 385 là các số được sắp xếp theo thứ tự từ lớn đến bé.

**Lời giải:**

- a) Đúng.
- b) Đúng.
- c) Sai.

**Giải Toán lớp 3 Tập 1 trang 19 Bài 2:** Tính nhẩm:

a) $7 + 9$	b) $20 + 38$	c) $900 - 500 + 200$
$12 - 5$	$54 - 20$	$520 + 70 - 90$
$18 - 9$	$49 - 40$	$280 - 60 - 220$

**Lời giải:**

$$a) 7 + 9 = 16 \quad b) 20 + 38 = 58 \quad c) 900 - 500 + 200 = 600$$

$$12 - 5 = 7 \quad 54 - 20 = 34 \quad 520 + 70 - 90 = 500$$

$$18 - 9 = 9 \quad 49 - 40 = 9 \quad 280 - 60 - 220 = 0$$

**Giải Toán lớp 3 Tập 1 trang 19 Bài 3:** Đặt tính rồi tính

a)  $185 + 362$

b)  $917 - 530$

c)  $29 + 305$

**Lời giải:**

$$\begin{array}{r} 185 \\ + 362 \\ \hline 547 \end{array}$$

$$\begin{array}{r} 917 \\ - 530 \\ \hline 387 \end{array}$$

$$\begin{array}{r} 29 \\ + 305 \\ \hline 334 \end{array}$$

**Giải Toán lớp 3 Tập 1 trang 19 Bài 4:** Số?

a)  $.?. - 51 = 43$

b)  $207 - .?. = 84$

c)  $559 + .?. = 760$

**Lời giải:**

a)

$$.?. - 51 = 43$$

$$43 + 51 = 94$$

b)

$$207 - .?. = 84$$


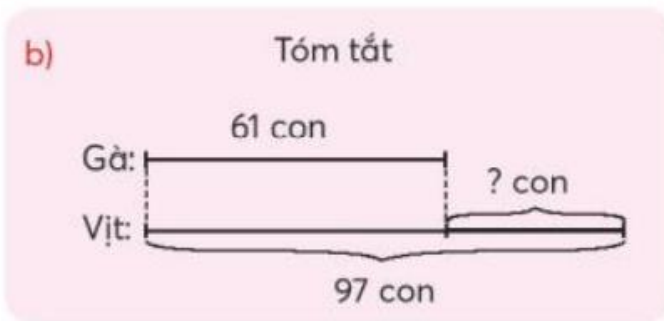
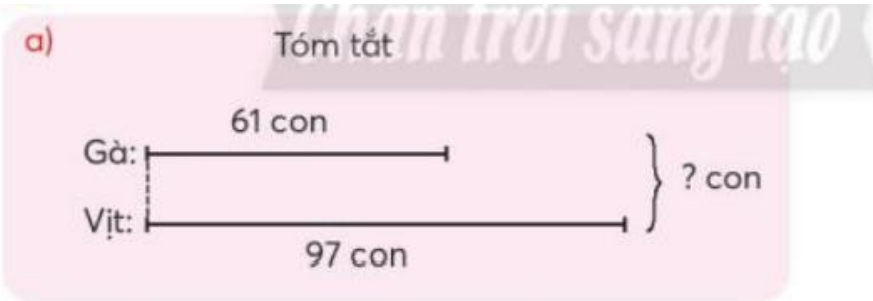
$$207 - 84 = 123$$

c)

$$559 + .?. = 760$$

$$760 - 559 = 201$$

**Giải Toán lớp 3 Tập 1 trang 19 Bài 5:** Giải các bài toán theo tóm tắt sau:



**Lời giải:**

a)

Tổng số gà và vịt là:

$$61 + 97 = 158 \text{ (con)}$$

b)

Vịt nhiều hơn gà số con là:

$$97 - 61 = 36 \text{ (con)}$$

Đáp số: a) 158 con; b) 36 con

**Giải Toán lớp 3 Tập 1 trang 20 Bài 6:** Điền dấu  $>$ ,  $<$ ,  $=$  vào chỗ chấm:

$$6 \times 5 \text{ ? } 5 \times 6$$

$$20 : 2 \text{ ? } 20 : 5$$

$$5 \times 4 \text{ ? } 5 \times 7$$

$$1 \times 2 \text{ ? } 1 \times 5$$

**Lời giải:**

$$6 \times 5 = 5 \times 6$$

$$20 : 2 > 20 : 5$$

$$5 \times 4 < 5 \times 7$$

$$1 \times 2 < 1 \times 5$$

**Giải Toán lớp 3 Tập 1 trang 20 Bài 7:** Quan sát hình vẽ, viết một phép nhân và một phép chia.




**Lời giải:**

$$2 \times 5 = 10$$

$$10 : 2 = 5$$


**Giải Toán lớp 3 Tập 1 trang 20 Bài 8:** Ước lượng rồi đếm.



**Ước lượng:** Có khoảng .?. con gà.

**Đếm:** có .?. con gà.

**Lời giải:**



Quan sát hình vẽ em thấy: Có 5 nhóm gà, mỗi nhóm có khoảng 10 con.

Có khoảng:  $10 \times 5 = 50$  (con gà)

Ước lượng: Có khoảng 50 con gà.

Đếm: Có 47 con gà.

**Giải Toán CTST lớp 3 trang 20 Vui học****Giải Toán lớp 3 Tập 1 trang 20 Bài 1: Số?**

Mỗi xe chở 2 chú vịt. Để chở cùng lúc hết các chú vịt ở hình bên, cần .?. chiếc xe.

**Lời giải:**

Có 12 chú vịt.

Số chiếc xe cần để chở hết số vịt trên là:

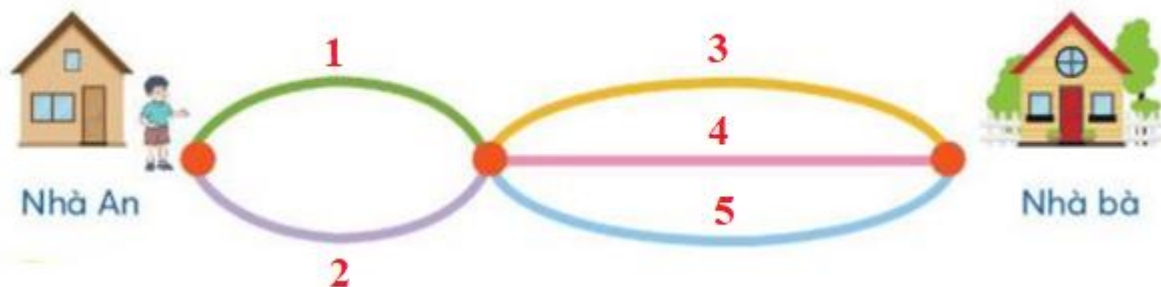
$$12 : 2 = 6 \text{ (chiếc)}$$

Đáp số: 6 chiếc xe

**Giải Toán Chân trời sáng tạo lớp 3 trang 20 Thử thách**

**Giải Toán lớp 3 Tập 1 trang 20 Bài 1:** Có mấy cách để đi từ nhà An đến nhà bà?

**Lời giải:**



Các đường để từ nhà An đến nhà bà là:

- + Đi đường số 1 và đường số 3
- + Đi đường số 1 và đường số 4
- + Đi đường số 1 và đường số 5
- + Đi đường số 2 và đường số 3
- + Đi đường số 2 và đường số 4
- + Đi đường số 2 và đường số 5

Vậy có 6 cách để đi từ nhà An đến nhà bà.