

Hướng dẫn giải các bài tập trang 9, 10 Ôn tập phép cộng, phép trừ sách giáo khoa Toán lớp 3 bộ sách Chân trời sáng tạo (CTST) thuộc chương trình mới chi tiết và chính xác nhất sẽ là nguồn tài liệu tham khảo hữu ích dành cho phụ huynh và các em học sinh.

Giải Toán Chân trời sáng tạo lớp 3 trang 9 Thực hành

Giải Toán lớp 3 Tập 1 trang 9 Bài 1: Số?

Lời giải:

Có tất cả 22 viên bi xanh và 15 viên bi đỏ. Có tất cả 37 viên bi.

$22 + 15 = 37$ $15 + 22 = 37$

$37 - 15 = 22$ $37 - 22 = 15$

Giải Toán lớp 3 Tập 1 trang 9 Bài 2: Làm (theo mẫu):

a) 20, 90, 70 b) 14, 9, 5

Lời giải:

a) $70 + 20 = 90$

$20 + 70 = 90$

$90 - 70 = 20$

$90 - 20 = 70$

b) $9 + 5 = 14$

$5 + 9 = 14$

$14 - 9 = 5$

$14 - 5 = 9$

Giải Toán lớp 3 CTST trang 9, 10 Luyện tập**Giải Toán lớp 3 Tập 1 trang 9 Bài 1: Đặt tính rồi tính:**

a) $204 + 523$

b) $61 + 829$

c) $347 - 80$

Lời giải:

$$\begin{array}{r} 204 \\ + 523 \\ \hline 727 \end{array}$$

$$\begin{array}{r} 61 \\ + 829 \\ \hline 890 \end{array}$$

$$\begin{array}{r} 347 \\ - 80 \\ \hline 267 \end{array}$$

Giải Toán lớp 3 Tập 1 trang 9 Bài 2: Tính:

a) $15 + 6 + 5$

b) $18 + 12 + 17$

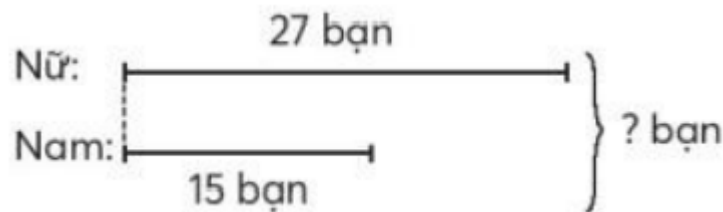
c) $29 + 5 + 6$

Lời giải:

a)	b)	c)
$15 + 6 + 5$	$18 + 12 + 17$	$29 + 5 + 6$
$= 21 + 5$	$= 30 + 17$	$= 34 + 6$
$= 26$	$= 47$	$= 40$

Giải Toán lớp 3 Tập 1 trang 9 Bài 3: Đội văn nghệ trường em có 27 bạn nữ và 15 bạn nam. Hỏi đội văn nghệ trường em có bao nhiêu bạn?

Tóm tắt:



Lời giải:

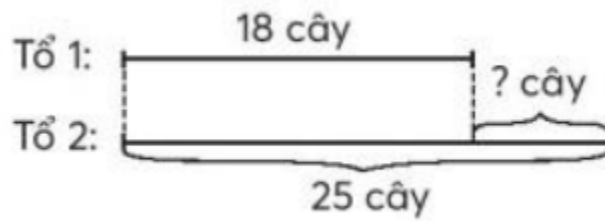
Đội văn nghệ trường em có tất cả số bạn là:

$$27 + 15 = 42 \text{ (bạn)}$$

Đáp số: 42 bạn

Giải Toán lớp 3 Tập 1 trang 10 Bài 4: Tổ 1 trồng được 18 cây, tổ 2 trồng được 25 cây. Hỏi tổ 2 trồng được nhiều hơn tổ 1 bao nhiêu cây?

Tóm tắt:



Lời giải:

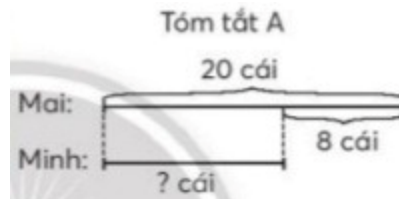
Tổ 2 trồng được nhiều hơn tổ 1 số cây là:

$$25 - 18 = 7 \text{ (cây)}$$

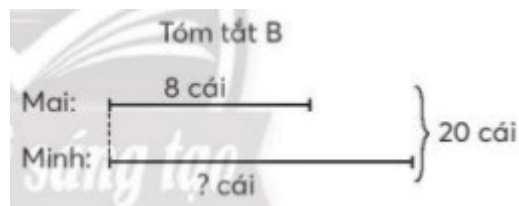
Đáp số: 7 cây

Giải Toán lớp 3 Tập 1 trang 10 Bài 5: Mỗi tóm tắt sau phù hợp với bài toán nào?

Bài toán 1: Mai và Minh có tất cả 20 cái nhãn vở, trong đó Mai có 8 cái. Hỏi Minh có bao nhiêu cái nhãn vở?



Bài toán 2: Mai có 20 cái khẩu trang. Minh có ít hơn Mai 8 cái. Hỏi Minh có bao nhiêu cái khẩu trang?



Lời giải:

*) Bài toán 1: Mai và Minh có tất cả 20 cái nhãn vở, trong đó Mai có 8 cái. Hỏi Minh có bao nhiêu cái nhãn vở?

Tóm tắt:

Có tất cả: 20 cái nhãn vở

Mai có: 8 cái nhãn vở

Hỏi: Minh có ? cái nhãn vở

Vậy tóm tắt B phù hợp với bài toán 1.

*) Bài toán 2: Mai có 20 cái khẩu trang. Minh có ít hơn Mai 8 cái. Hỏi Minh có bao nhiêu cái khẩu trang?

Tóm tắt:

Mai có: 20 cái nhãn vở

Minh ít hơn Mai: 8 cái nhãn vở

Hỏi: Minh có ? cái nhãn vở

Vậy tóm tắt A phù hợp với bài toán 2.

Giải Toán CTST lớp 3 trang 10 Thử thách

Giải Toán lớp 3 Tập 1 trang 10 Bài Thử thách: Quan sát hình ảnh dưới đây, giúp bạn tìm câu trả lời:

**Lời giải:**

Số tuổi của mẹ cháu bé là:

$$32 + 9 = 41 \text{ (tuổi)}$$

Vậy mẹ bé năm nay 41 tuổi.