

Hướng dẫn giải các bài tập trang 94 đến 96 **Bài 70: Nhân số có năm chữ số với số có một chữ số sách giáo khoa Toán lớp 3 bộ sách Kết nối tri thức (KNTT)** thuộc chương trình mới chi tiết và chính xác nhất sẽ là nguồn tài liệu tham khảo hữu ích dành cho phụ huynh và các em học sinh.

Giải Toán KNTT lớp 3 trang 94, 95 Hoạt động

Giải Toán lớp 3 Tập 2 trang 94 Bài 1: Tính:

$$\begin{array}{r} 47053 \\ \times 2 \\ \hline \end{array} \quad \begin{array}{r} 18042 \\ \times 4 \\ \hline \end{array} \quad \begin{array}{r} 15160 \\ \times 5 \\ \hline \end{array}$$

Lời giải:

$$\begin{array}{r} 47053 \\ \times 2 \\ \hline 94106 \end{array} \quad \begin{array}{r} 18042 \\ \times 4 \\ \hline 72168 \end{array} \quad \begin{array}{r} 15160 \\ \times 5 \\ \hline 75800 \end{array}$$

Giải Toán lớp 3 Tập 2 trang 94 Bài 2: Đặt tính rồi tính:

$$31\ 504 \times 3$$

$$23\ 160 \times 4$$

Lời giải:

$$\begin{array}{r} 31504 \\ \times 3 \\ \hline 94512 \end{array} \quad \begin{array}{r} 23160 \\ \times 4 \\ \hline 92640 \end{array}$$

Giải Toán lớp 3 Tập 2 trang 95 Bài 3: Mỗi lần người ta chuyển 15 250 kg thóc vào kho. Hỏi sau 3 lần chuyển như vậy, người ta chuyển được bao nhiêu ki-lô-gam thóc vào kho?

Lời giải:

Sau 3 lần chuyển như vậy, người ta chuyển được số ki-lô-gam thóc là:

$$15\ 250 \times 3 = 45\ 750 \text{ (kg)}$$

Đáp số: 45 750 kg thóc

Giải Toán Kết nối tri thức lớp 3 trang 95 Luyện tập

Giải Toán lớp 3 Tập 2 trang 95 Bài 1: Số?

Thừa số	18 071	13 061	12 140
Thừa số	5	6	7
Tích	90 355	?	?

Lời giải:

Thừa số	18 071	13 061	12 140
Thừa số	5	6	7
Tích	90 355	78 366	84 980

Giải Toán lớp 3 Tập 2 trang 95 Bài 2: Đặt tính rồi tính:

$$10\ 706 \times 9$$

$$12\ 060 \times 8$$

$$15\ 108 \times 5$$

Lời giải:

$$\begin{array}{r} 10706 \\ \times 9 \\ \hline 96354 \end{array} \quad \begin{array}{r} 12060 \\ \times 8 \\ \hline 96480 \end{array} \quad \begin{array}{r} 15108 \\ \times 5 \\ \hline 75540 \end{array}$$

Giải Toán lớp 3 Tập 2 trang 95 Bài 3: Tính nhẩm (theo mẫu):

Mẫu: $12\ 000 \times 4 = ?$

Nhẩm: $12\ \text{nghìn} \times 4 = 48\ \text{nghìn}$

$12\ 000 \times 4 = 48\ 000$

a) $11\ 000 \times 9$

b) $21\ 000 \times 3$

c) $15\ 000 \times 6$

Lời giải:

a) $11\ 000 \times 9$

Nhẩm: $11\ \text{nghìn} \times 9 = 99\ \text{nghìn}$

$11\ 000 \times 9 = 99\ 000$

b) $21\ 000 \times 3$

Nhẩm: $21\ 000 \times 3 = 63\ \text{nghìn}$

$$21\ 000 \times 3 = 63\ 000$$

c) $15\ 000 \times 6$

Nhằm: $15\ \text{nghìn} \times 6 = 90\ \text{nghìn}$

$$15\ 000 \times 6 = 90\ 000$$

Giải Toán lớp 3 Tập 2 trang 95 Bài 4: Có ba kho chứa dầu, mỗi kho chứa 12 000 l. Người ta đã chuyển đi 21 000 l dầu. Hỏi ba kho đó còn lại bao nhiêu lít dầu?



Lời giải:

Ba kho có số lít dầu là:

$$12\ 000 \times 3 = 36\ 000 \text{ (lít)}$$

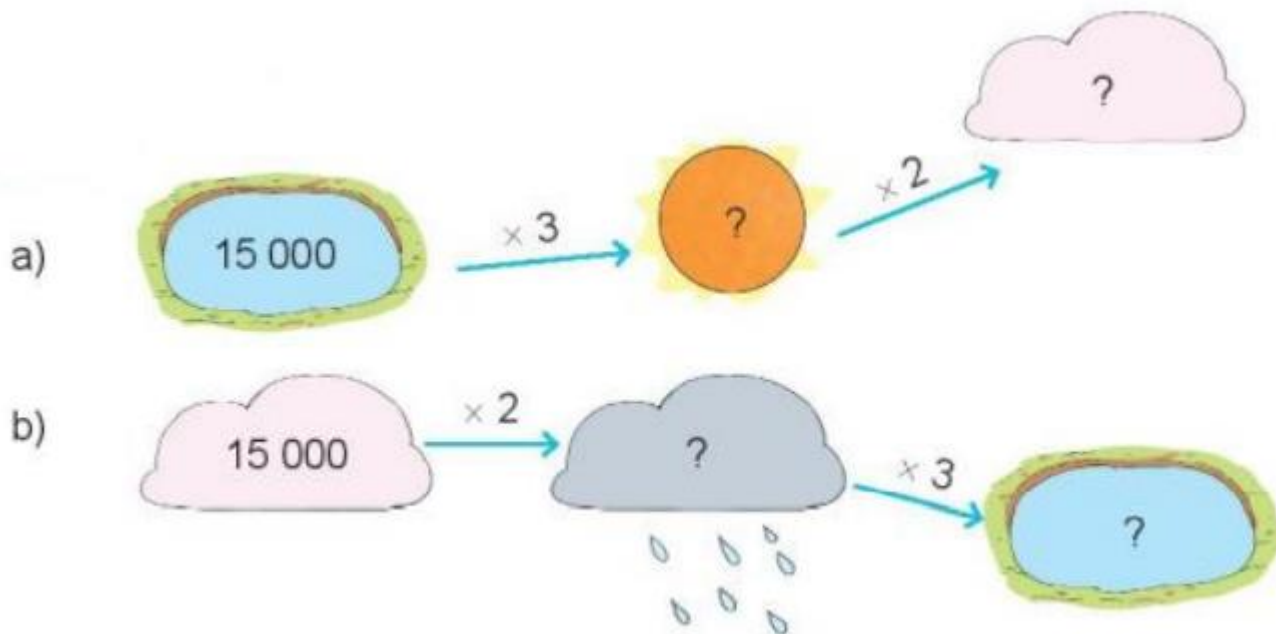
Sau khi chuyển 21 000 lít dầu đi thì kho còn lại số lít dầu là:

$$36\ 000 - 21\ 000 = 15\ 000 \text{ (lít)}$$

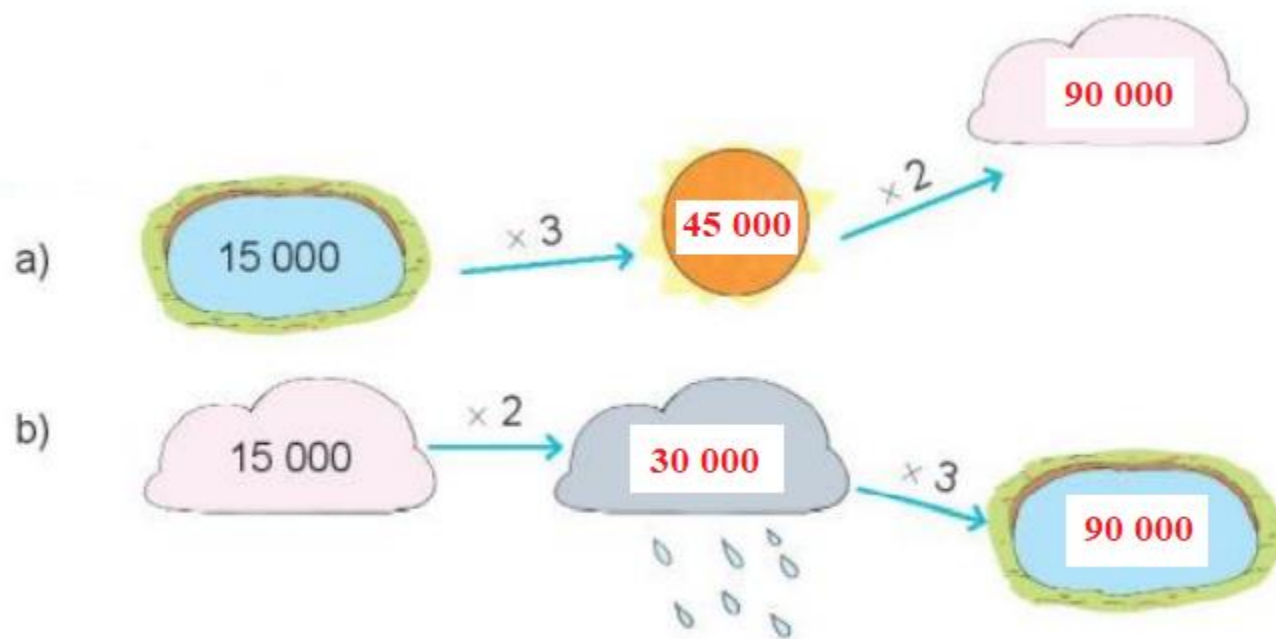
Đáp số: 15 000 lít dầu

Giải Toán lớp 3 KNTT trang 96 Luyện tập

Giải Toán lớp 3 Tập 2 trang 96 Bài 1: Số?



Lời giải:



Giải Toán lớp 3 Tập 2 trang 96 Bài 2:

a) Đặt tính rồi tính:

$$31\ 624 \times 3$$

$$15\ 041 \times 3$$

b) Tính giá trị của biểu thức:

$$26\ 745 + 12\ 071 \times 6$$

Lời giải:

a)

$\begin{array}{r} 31624 \\ \times \quad 3 \\ \hline 94872 \end{array}$	$\begin{array}{r} 15041 \\ \times \quad 3 \\ \hline 45123 \end{array}$
--	--

b)

$$26\ 745 + 12\ 071 \times 6$$

$$= 26\ 745 + 72\ 426$$

$$= 99\ 171$$

Giải Toán lớp 3 Tập 2 trang 96 Bài 3: Việt mua 6 quyển vở, mỗi quyển giá 6 000 đồng. Việt đưa cô bán hàng tờ 100 000 đồng. Hỏi cô bán hàng trả lại cho Việt bao nhiêu tiền?

Lời giải:

Việt mua hết số tiền là:

$$6\ 000 \times 6 = 36\ 000 \text{ (đồng)}$$

Cô bán hàng trả lại cho Việt số tiền là:

$$100\ 000 - 36\ 000 = 64\ 000 \text{ (đồng)}$$

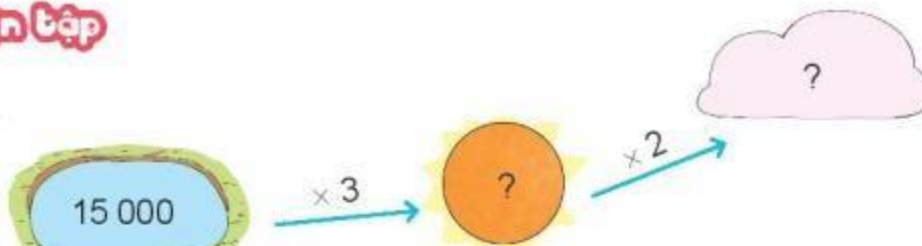
Đáp số: 64 000 đồng

Giải Toán lớp 3 Tập 2 trang 96 Bài 4: Trong một nông trại ươm cây giống có hai vườn ươm, mỗi vườn có 14 000 cây giống. Trong một trại ươm khác có 15 000 cây giống. Hỏi cả 2 trại ươm đó có bao nhiêu cây giống?



1 Số ?

a)



b)



2 a) Đặt tính rồi tính.

$$31\ 624 \times 3$$

$$15\ 041 \times 5$$

b) Tính giá trị của biểu thức.

$$26\ 745 + 12\ 071 \times 6$$

3 Việt mua 6 quyển vở, mỗi quyển giá 6 000 đồng. Việt đưa cô bán hàng tờ 100 000 đồng. Hỏi cô bán hàng trả lại cho Việt bao nhiêu tiền?

4 Trong một trại ươm cây giống có hai vườn ươm, mỗi vườn có 14 000 cây giống. Trong một trại ươm khác có 15 000 cây giống. Hỏi cả hai trại ươm đó có bao nhiêu cây giống?



Lời giải:

Hai vườn ươm có số cây giống là:

$$14\ 000 \times 2 = 28\ 000 \text{ (cây)}$$

Cả hai trại ươm có số cây giống là:

$$28\ 000 + 15\ 000 = 43\ 000 \text{ (cây)}$$

Đáp số: 43 000 cây giống