

Hướng dẫn giải các bài tập trang 66 đến 69 **Bài 62: Luyện tập chung sách giáo khoa Toán lớp 3 bộ sách Kết nối tri thức (KNTT)** thuộc chương trình mới chi tiết và chính xác nhất sẽ là nguồn tài liệu tham khảo hữu ích dành cho phụ huynh và các em học sinh.

Giải Toán KNTT lớp 3 trang 66, 67 Luyện tập

Giải Toán lớp 3 Tập 2 trang 66 Bài 1: Hoàn thành bảng sau:

Viết số Đọc số

51 254 ?

? ba mươi tám nghìn năm trăm mười chín

26 856 ?

? bảy mươi chín nghìn sáu trăm

Lời giải:

Viết số Đọc số

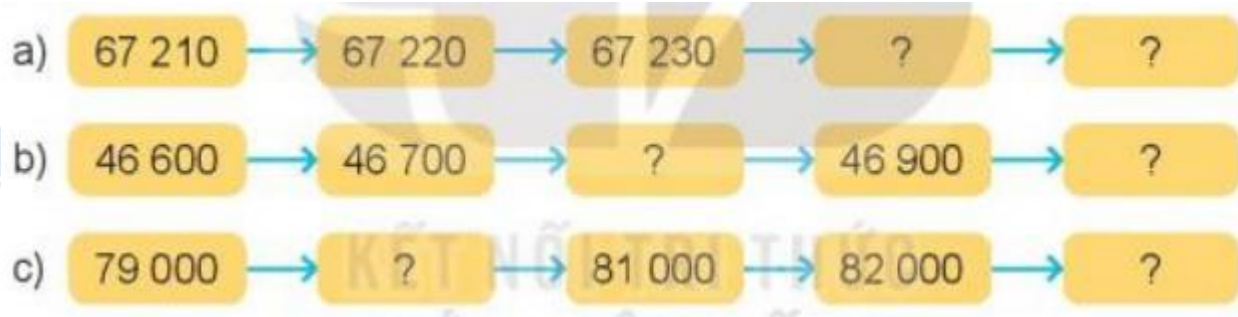
51 254 năm mươi một nghìn hai trăm năm mươi tư

38 519 ba mươi tám nghìn năm trăm mười chín

26 856 hai mươi sáu nghìn tám trăm năm mươi sáu

79 600 bảy mươi chín nghìn sáu trăm

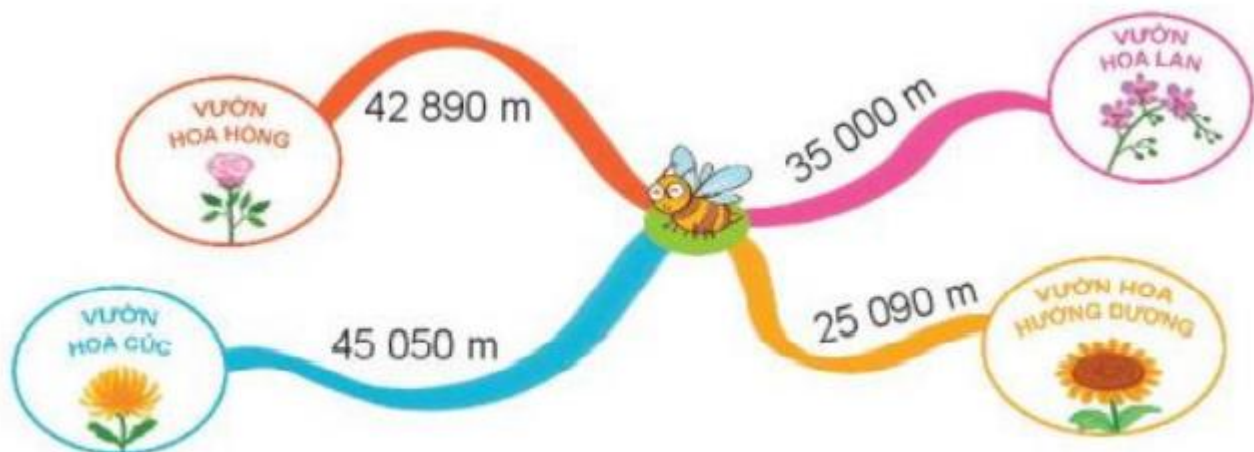
Giải Toán lớp 3 Tập 2 trang 66 Bài 2: Số ?



Lời giải:



Giải Toán lớp 3 Tập 2 trang 66 Bài 3: Khoảng cách từ vị trí ong vàng đến các vườn hoa được cho như hình sau:



Từ vị trí ong vàng đến vườn hoa nào xa nhất? Từ vị trí ong vàng đến vườn hoa nào gần nhất?

Lời giải:

So sánh: $25\ 090\text{ m} < 35\ 000\text{ m} < 42\ 890\text{ m} < 45\ 050\text{ m}$

Từ vị trí ong vàng đến vườn hoa hồng xa nhất.

Từ vị trí ong vàng đến vườn hoa hướng dương gần nhất.

Giải Toán lớp 3 Tập 2 trang 67 Bài 4: Đ, S ?

a) $62\ 820 > 7382$

b) $52\ 794 < 60\ 000$

c) $8000 + 400 > 9000$

d) $5400 - 400 = 5000$

Lời giải:

a) $62\ 820 > 7382$ Đ

b) $52\ 794 < 60\ 000$ Đ

c) $8000 + 400 > 9000$ S

d) $5400 - 400 = 5000$ Đ

Giải Toán lớp 3 KNTT trang 67, 68 Luyện tập

Giải Toán lớp 3 Tập 2 trang 67 Bài 1: Toa tàu cuối cùng ghi số nào?

4 Đ, S ?

a) $62\ 820 > 7\ 382$

b) $52\ 794 < 60\ 000$

c) $8\ 000 + 400 > 9\ 000$

d) $5\ 400 - 400 = 5\ 000$



1 Toa tàu cuối cùng ghi số nào?



2 Mỗi ô tô sẽ đến chỗ rửa xe ghi biểu thức có giá trị là số ghi trên ô tô đó. Tìm chỗ rửa cho mỗi ô tô.



3

Bài hát có gần 75 000 lượt nghe.

Không! Bài hát này chỉ có khoảng 74 000 lượt nghe thôi.



Biết rằng bài hát có 74 381 lượt nghe. Nam và Việt làm tròn số đến hàng nghìn, ai đã làm tròn đúng?

Lời giải:



Giải Toán lớp 3 Tập 2 trang 67 Bài 2: Mỗi ô tô sẽ đến chỗ rửa xe ghi biểu thức có giá trị là số ghi trên ô tô đó. Tìm chỗ rửa cho mỗi ô tô.



Lời giải:

$$30\ 000 + 9\ 000 + 800 + 40 + 5 = 39\ 845$$

$$20\ 000 + 8\ 000 + 700 + 10 + 6 = 28\ 716$$

$$20\ 000 + 8\ 000 + 100 + 70 = 28\ 170$$



Giải Toán lớp 3 Tập 2 trang 67 Bài 3: Biết rằng bài hát có 74 381 lượt nghe.

Nam và Việt làm tròn số đến hàng nghìn, ai đã làm tròn đúng?



Lời giải:


Vì $3 < 5$

74 381 \longrightarrow 74 000

Làm tròn xuống

Vậy bạn Việt (áo vàng) làm tròn đúng.

Giải Toán lớp 3 Tập 2 trang 68 Bài 4: Mỗi bạn viết một trong các số 20 080, 52 080, 92 000



Mỗi bạn đã viết số nào?

Lời giải:

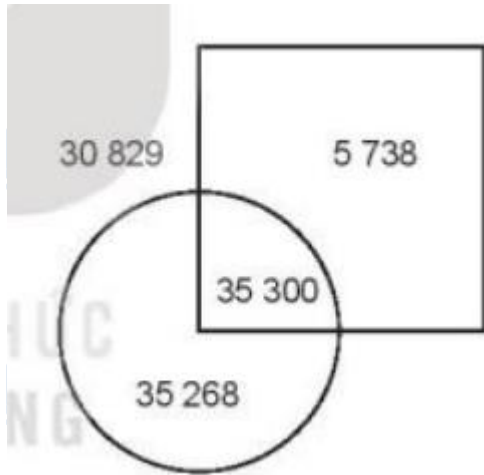
Bạn nam bên trái viết số: 92 000

Bạn Mai viết số: 52 080

Bạn nam bên phải viết số: 20 080

Giải Toán Kết nối tri thức lớp 3 trang 68 Luyện tập

Giải Toán lớp 3 Tập 2 trang 68 Bài 1: Quan sát hình rồi chọn câu trả lời đúng:



Số lớn nhất nằm ở vị trí nào?

1. Ở trong hình tròn và ở trong hình vuông
2. Ở trong hình vuông nhưng ở ngoài hình tròn
3. Ở trong hình tròn nhưng ở ngoài hình vuông

Lời giải:

Vì $5\ 738 < 30\ 829 < 35\ 268 < 35\ 300$ nên chọn đáp án A.

Giải Toán lớp 3 Tập 2 trang 68 Bài 2:



a) Dựa vào số lượng ong, chọn câu trả lời đúng

Làm tròn đến hàng nghìn, đàn ong có khoảng:

A. 26 000 con ong

B. 27 000 con ong

C. 25 000 con ong

b) Làm tròn số lượng ong đến hàng trăm, đến hàng chục nghìn.

Lời giải:

a)

vì $7 > 5$

26 781 \longrightarrow 27 000

Làm tròn lên

Vậy chọn đáp án B

b)

Làm tròn đến hàng trăm

Vì $8 > 5$

26 781 \longrightarrow 26 800

Làm tròn lên

Làm tròn đến hàng chục nghìn

Vì $6 > 5$

26 781 \longrightarrow 30 000

Làm tròn lên