

Toán lớp 3 Kết nối tri thức Bài 47: Làm quen với chữ số La Mã**Giải Toán KNTT lớp 3 trang 12, 13 Hoạt động****Giải Toán lớp 3 Tập 2 trang 12 Bài 1: Mỗi đồng hồ chỉ mấy giờ?****A****B****C****D****Lời giải:**

Đồng hồ A chỉ 1 giờ.

Đồng hồ B chỉ 5 giờ.

Đồng hồ C chỉ 9 giờ.

Đồng hồ D chỉ 10 giờ.

Giải Toán lớp 3 Tập 2 trang 13 Bài 2: Chọn cặp số và số La Mã thích hợp:




Lời giải:

Số 13 – XIII

Số 15 – XV

Số 11 – XI

Số 17 – XVII



Giải Toán lớp 3 Tập 2 trang 13 Bài 3:

a) Đọc các số La Mã sau: VI; V; VIII; II; XI; IX.

b) Viết các số từ 1 đến 15 thành số La Mã.

Lời giải:

a) Đọc số La Mã: VI: số 6; V: số năm; VIII: số tám; II: số hai; XI: số mười một; IX: số chín.

b) Viết các số từ 1 đến 15 thành số La Mã:

1 – I 9 – IX

2 – II 10 – X

3 – III 11 – XI

4 – IV 12 – XII

5 – V 13 – XIII

6 – VI 14 – XIV

7 – VII 15 – XV

8 – VIII

Giải bài tập Toán KNTT lớp 3 trang 13, 14 Luyện tập

Giải Toán lớp 3 Tập 2 trang 13 Bài 1: Dùng que tính có thể xếp thành các số La Mã như hình bên:



- a) Dùng 5 que tính hãy xếp thành số 8, số 13 bằng chữ số La Mã.
b) Để xếp được ba số 9 bằng chữ số La Mã thì dùng hết mấy que tính?

Lời giải:

- a) Dùng 5 que tính hãy xếp thành số 8, số 13 bằng chữ số La Mã:


Số 8



Số 13



b) Số 9:



Để xếp được một số 9 thì dùng hết 3 que tính.

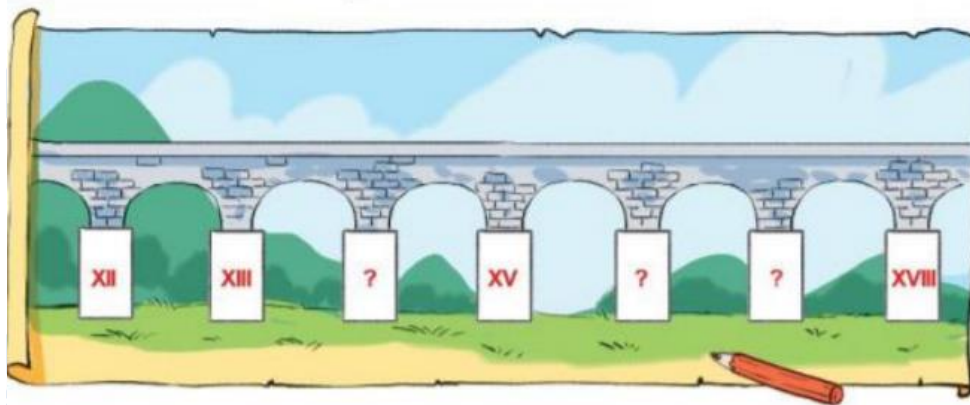
Để xếp được ba số 9 cần dùng số que tính là:

$$3 \times 3 = 9 \text{ (que tính)}$$

Đáp số: 9 que tính

Giải Toán lớp 3 Tập 2 trang 14 Bài 2:

a) Tìm số La Mã thích hợp:



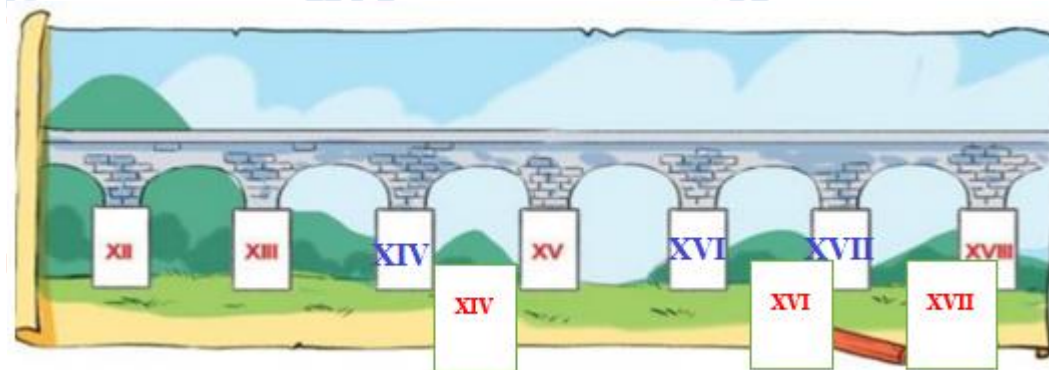
b) Sắp xếp các số XVIII, XVII, XII, XIII theo thứ tự từ bé đến lớn.

Lời giải:

Lời giải

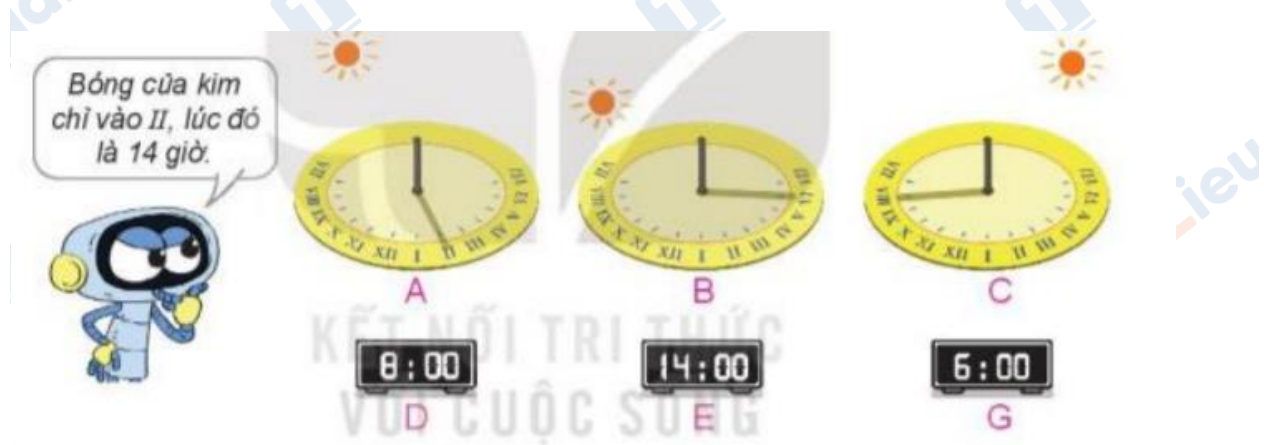
a) Em được dãy số: 12; 13; 14; 15; 16; 17; 18

Em tìm các số La Mã thích hợp như hình vẽ:



b) Sắp xếp các số theo thứ tự từ bé đến lớn: XII, XIII, XVII, XVIII.

Giải Toán lớp 3 Tập 2 trang 14 Bài 3: Chọn đồng hồ điện tử thích hợp với đồng hồ mặt trời:



Lời giải:

Đồng hồ A là 14 giờ vì bóng của kim chỉ vào II.

Đồng hồ B là 6 giờ vì bóng của kim chỉ vào VI.

Đồng hồ C chỉ 8 giờ vì bóng của kim chỉ vào VIII.

Giải Toán lớp 3 Tập 2 trang 14 Bài 4: Tìm đường đi cho chú linh dương đến hồ uống nước theo thứ tự các số La Mã từ I đến XX



Lời giải:



I	II	XII	XIII	XX	XV	XVI	XVIII	XX
XI	III	IV	XIV	XIX	XVII	XII	XVI	XIX
XX	X	V	VI	X	XIV	VII	XX	VII
II	IV	XIII	VII	IV	III	VIII	XIX	XX
X	XV	X	III	IV	X	V	XVIII	III
VI	IX	XVI	XII	I	XI	II	XVII	X
V	IV	V	VI	V	III	I	XVI	II
I	III	II	VII	X	XIII	XIV	XV	XX



TaiLieu.com