

**Bài 44: Ôn tập chung sách giáo khoa Toán lớp 3 bộ sách Kết nối tri thức (KNTT)**

*Giải Toán Kết nối tri thức lớp 3 trang 120 Luyện tập*

**Giải Toán lớp 3 Tập 1 trang 120 Bài 1: Đặt tính rồi tính**

**Bài 44** **ÔN TẬP CHUNG**

**Luyện tập**

1 Đặt tính rồi tính.

$213 \times 3$        $217 \times 4$        $161 \times 5$

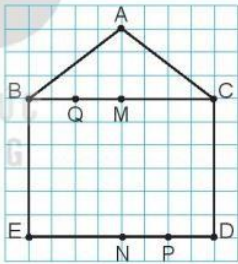
2 Tính.

$69 \overline{) 3}$        $68 \overline{) 4}$        $80 \overline{) 5}$

3 Trong hình bên:

a) Nêu tên trung điểm của các đoạn thẳng BC, ED, BM, ND.

b) Có mấy góc vuông? Nêu tên đỉnh và cạnh của mỗi góc vuông đó.



4 Tính giá trị của biểu thức.

a)  $175 + 42 - 75$       b)  $12 \times (12 - 9)$

5 Cửa hàng nhà bà Năm có 1 thùng đựng 100 l nước mắm và 5 can, mỗi can đựng 10 l nước mắm. Hỏi cửa hàng nhà bà Năm có tất cả bao nhiêu lít nước mắm?

120

**Lời giải:**

$$\begin{array}{r} \times 213 \\ 3 \\ \hline 639 \end{array}$$

$$\begin{array}{r} \times 217 \\ 4 \\ \hline 868 \end{array}$$

$$\begin{array}{r} \times 161 \\ 5 \\ \hline 805 \end{array}$$

Giải Toán lớp 3 Tập 1 trang 120 Bài 2: Tính

Bài 44

ÔN TẬP CHUNG



1 Đặt tính rồi tính.

$213 \times 3$

$217 \times 4$

$161 \times 5$

2 Tính.

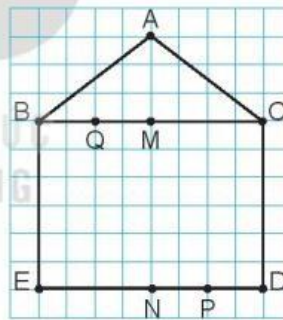
$$\begin{array}{r} 69 \quad | \quad 3 \\ \hline \end{array}$$

$$\begin{array}{r} 68 \quad | \quad 4 \\ \hline \end{array}$$

$$\begin{array}{r} 80 \quad | \quad 5 \\ \hline \end{array}$$

3 Trong hình bên:

- a) Nêu tên trung điểm của các đoạn thẳng BC, ED, BM, ND.
- b) Có mấy góc vuông? Nêu tên đỉnh và cạnh của mỗi góc vuông đó.



4 Tính giá trị của biểu thức.

$175 + 42 - 75$

$12 \times (12 - 9)$

5 Cửa hàng nhà bà Năm có 1 thùng đựng 100 l nước mắm và 5 can, mỗi can đựng 10 l nước mắm. Hỏi cửa hàng nhà bà Năm có tất cả bao nhiêu lít nước mắm?

Lời giải:

$$\begin{array}{r|l} 69 & 3 \\ \hline 09 & 23 \\ \hline & 0 \end{array} \quad \begin{array}{r|l} 68 & 4 \\ \hline 28 & 17 \\ \hline & 0 \end{array} \quad \begin{array}{r|l} 80 & 5 \\ \hline 30 & 16 \\ \hline & 0 \end{array}$$

Giải Toán lớp 3 Tập 1 trang 120 Bài 3: Trong hình bên:

Bài 44

ÔN TẬP CHUNG



luyện tập

1 Đặt tính rồi tính.

$$213 \times 3$$

$$217 \times 4$$

$$161 \times 5$$

2 Tính.

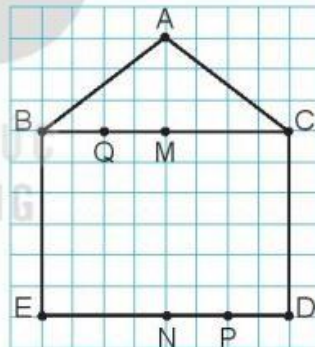
$$\begin{array}{r} 69 \\ 3 \\ \hline \end{array}$$

$$\begin{array}{r} 68 \\ 4 \\ \hline \end{array}$$

$$\begin{array}{r} 80 \\ 5 \\ \hline \end{array}$$

3 Trong hình bên:

- Nêu tên trung điểm của các đoạn thẳng BC, ED, BM, ND.
- Có mấy góc vuông? Nêu tên đỉnh và cạnh của mỗi góc vuông đó.



4 Tính giá trị của biểu thức.

a)  $175 + 42 - 75$

b)  $12 \times (12 - 9)$

5 Cửa hàng nhà bà Năm có 1 thùng đựng 100 l nước mắm và 5 can, mỗi can đựng 10 l nước mắm. Hỏi cửa hàng nhà bà Năm có tất cả bao nhiêu lít nước mắm?

a) Nêu tên trung điểm của các đoạn thẳng BC, ED, BM, ND.

b) Có mấy góc vuông? Nêu tên đỉnh và cạnh của mỗi góc vuông đó.

**Lời giải:**

a) Tên trung điểm của các đoạn thẳng BC, ED, BM, ND là: điểm M, điểm N, điểm Q, điểm P.

b) Có 4 góc vuông.

Tên đỉnh và cạnh của mỗi góc vuông đó: đỉnh B – góc CBE, đỉnh C- góc BCD, đỉnh D góc CDE, đỉnh E – góc BEC.

**Giải Toán lớp 3 Tập 1 trang 120 Bài 4:** Tính giá trị của biểu thức.

a)  $175 + 42 - 75$  b)  $12 \times (12 - 9)$

**Lời giải:**

a)                      b)

$175 + 42 - 75$      $12 \times (12 - 9)$

$= 217 - 75$        $= 12 \times 3$

$= 142$                $= 36$

**Giải Toán lớp 3 Tập 1 trang 120 Bài 5:** Cửa hàng nhà bà Năm có 1 thùng đựng 100 l nước mắm và 5 can, mỗi can đựng 10 l nước mắm. Hỏi cửa hàng nhà bà Năm có tất cả bao nhiêu lít nước mắm?

**Lời giải:**

5 can đựng số lít nước mắm là:

$$5 \times 10 = 50 \text{ (l)}$$

Cửa hàng Bà Năm có tất cả số lít nước mắm là:

$$100 + 50 = 150 \text{ (l)}$$

Đáp số: 150 l

**Giải Toán lớp 3 KNTT trang 121 Luyện tập**

**Giải Toán lớp 3 Tập 1 trang 121 Bài 1: Đặt tính rồi tính:**

$$72 \times 3 \quad 116 \times 6 \quad 106 \times 8$$

**Lời giải:**

$$\begin{array}{r} 72 \\ \times 3 \\ \hline 216 \end{array} \quad \begin{array}{r} 116 \\ \times 6 \\ \hline 696 \end{array} \quad \begin{array}{r} 106 \\ \times 8 \\ \hline 848 \end{array}$$

**Giải Toán lớp 3 Tập 1 trang 121 Bài 2: Tính:**

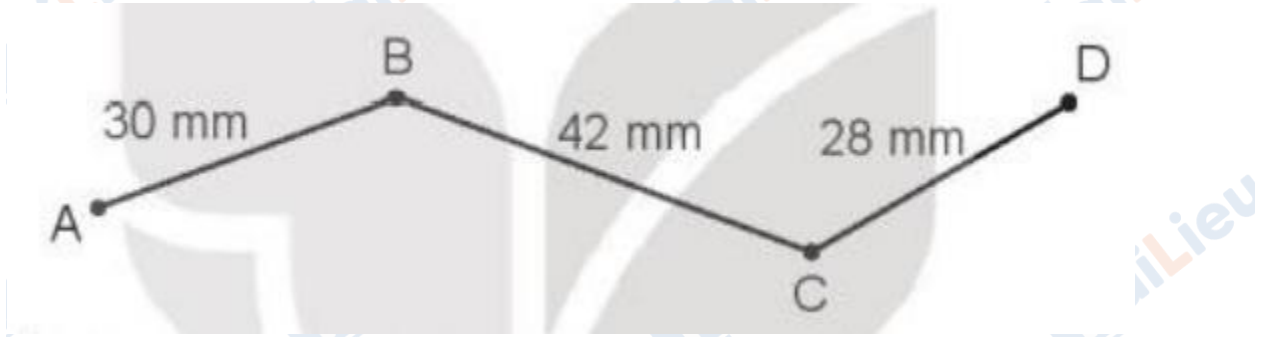
$$\begin{array}{r|l} 963 & 3 \\ \hline & \end{array} \quad \begin{array}{r|l} 265 & 5 \\ \hline & \end{array} \quad \begin{array}{r|l} 720 & 4 \\ \hline & \end{array}$$

**Lời giải:**

$$\begin{array}{r|l} 963 & 3 \\ \hline 06 & 321 \\ 03 & \\ 0 & \end{array} \quad \begin{array}{r|l} 265 & 5 \\ \hline 15 & 53 \\ 0 & \end{array} \quad \begin{array}{r|l} 720 & 4 \\ \hline 32 & 180 \\ 00 & \\ 0 & \end{array}$$

**Giải Toán lớp 3 Tập 1 trang 121 Bài 3:**

a) Tính độ dài đường gấp khúc ABCD.



b) Túi muối cân nặng bao nhiêu gam?



**Lời giải:**

a)

Độ dài đường gấp khúc ABCD là:

$$30 + 42 + 28 = 100 \text{ (mm)}$$

b)

Túi muối nặng số gam là:

$$200 + 200 + 100 = 500 \text{ (g)}$$

Đáp số: a) 100mm; b) 500g

**Giải Toán lớp 3 Tập 1 trang 121 Bài 4:** Tính giá trị của biểu thức:

a)  $96 : 3 \times 5$  b)  $60 : (2 \times 3)$

**Lời giải:**

a)            b)

$96 : 3 \times 5$      $60 : (2 \times 3)$

$= 32 \times 5$      $= 60 : 6$

$= 160$          $= 10$

**Giải Toán lớp 3 Tập 1 trang 121 Bài 5:** Để giúp đỡ các bạn học sinh bị ảnh

hưởng bởi lũ lụt, tuần đầu trường em góp được 20 thùng đựng sách vở và đồ dùng học tập. Tuần sau trường em góp được số thùng gấp 3 lần số thùng ở tuần đầu. Hỏi sau hai tuần trường em góp được tất cả bao nhiêu thùng đựng sách vở và đồ dùng học tập?

**Lời giải:**

Tuần thứ 2 trường em gom được số thùng đựng sách vở và đồ dùng học tập là:

$20 \times 3 = 60$  (thùng)

Cả 2 tuần gom được số thùng đựng sách vở và đồ dùng học tập là:

$60 + 20 = 80$  (thùng)

Đáp số: 80 thùng