

Hướng dẫn giải các bài tập trang 118 đến 119 Bài 43: Ôn tập hình học và đo lường sách giáo khoa Toán lớp 3 bộ sách Kết nối tri thức (KNTT) thuộc chương trình mới chi tiết và chính xác nhất sẽ là nguồn tài liệu tham khảo hữu ích dành cho phụ huynh và các em học sinh.

Giải Toán lớp 3 KNTT trang 118 Luyện tập

Giải Toán lớp 3 Tập 1 trang 118 Bài 1: Trong hình bên:

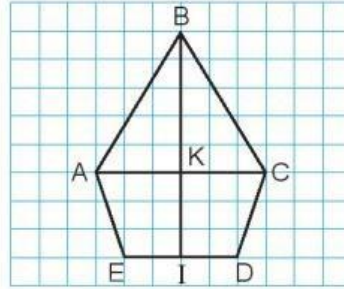
- a) Có mấy góc vuông?
- b) Có mấy góc không vuông đỉnh A?
- c) Tìm trung điểm của đoạn thẳng AC và đoạn thẳng ED.

Bài 43

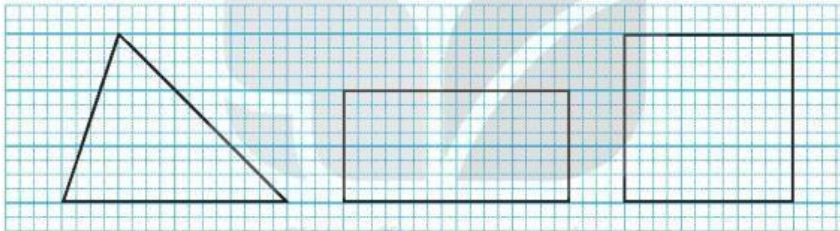
ÔN TẬP HÌNH HỌC VÀ ĐO LƯỜNG



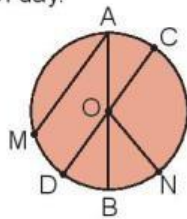
- 1 Trong hình bên:
- Có mấy góc vuông?
 - Có mấy góc không vuông đỉnh A?
 - Tìm trung điểm của đoạn thẳng AC và đoạn thẳng ED.



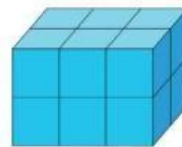
- 2 Vẽ hình (theo mẫu).



- 3 a) Nêu tên các đường kính, bán kính của hình tròn dưới đây.
- b) Hình dưới đây được xếp bởi bao nhiêu khối lập phương, bao nhiêu khối trụ?



- 4 Người ta xếp các khối lập phương màu trắng thành khối hộp chữ nhật, rồi sơn tất cả các mặt của khối hộp chữ nhật đó (như hình vẽ). Hỏi có tất cả bao nhiêu khối lập phương được sơn 3 mặt, được sơn 2 mặt?



Lời giải:

- Có 6 góc vuông: góc BKA, góc BKC, góc CKI, góc IKA, góc KID và góc KIE.
- Không có góc không vuông đỉnh A.

c) Trung điểm của đoạn thẳng AC là điểm K và đoạn thẳng ED là điểm I.

Giải Toán lớp 3 Tập 1 trang 118 Bài 2: Vẽ hình (theo mẫu):



Lời giải:

Học sinh tự vẽ

Giải Toán lớp 3 Tập 1 trang 118 Bài 3:

- a) Nêu tên các đường kính, bán kính của hình tròn dưới đây. b) Hình dưới đây được xếp bởi bao nhiêu khối lập phương, bao nhiêu khối trụ?

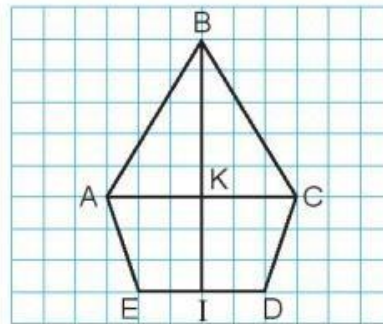
Bài 43

ÔN TẬP HÌNH HỌC VÀ ĐO LƯỜNG




luyện tập

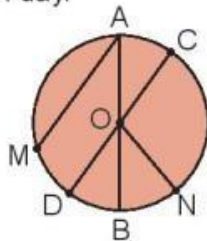
- 1 Trong hình bên:
 - a) Có mấy góc vuông?
 - b) Có mấy góc không vuông đỉnh A?
 - c) Tìm trung điểm của đoạn thẳng AC và đoạn thẳng ED.



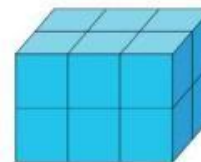
- 2 Vẽ hình (theo mẫu).



- 3 a) Nêu tên các đường kính, bán kính của hình tròn dưới đây.
- b) Hình dưới đây được xếp bởi bao nhiêu khối lập phương, bao nhiêu khối trụ?



- 4 Người ta xếp các khối lập phương màu trắng thành khối hộp chữ nhật, rồi sơn tất cả các mặt của khối hộp chữ nhật đó (như hình vẽ). Hỏi có tất cả bao nhiêu khối lập phương được sơn 3 mặt, được sơn 2 mặt?



Lời giải:

- a) Đường kính: DC, AB b) Hình dưới đây được xếp bởi 16 khối lập phương, 3 khối trụ?
Bán kính: OA, OB, OC, OD,
ON

Giải Toán lớp 3 Tập 1 trang 118 Bài 4: Người ta xếp các khối lập phương màu trắng thành khối hộp chữ nhật, rồi sơn tất cả các mặt của khối hộp chữ nhật đó (như hình vẽ). Hỏi có tất cả bao nhiêu khối lập phương được sơn 3 mặt, được sơn 2 mặt?

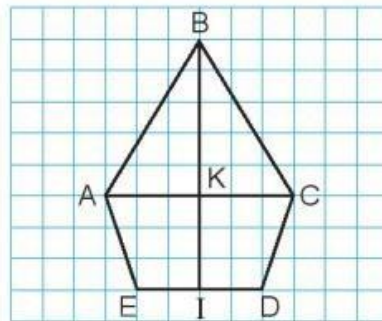
Bài 43

ÔN TẬP HÌNH HỌC VÀ ĐO LƯỜNG




luyện tập

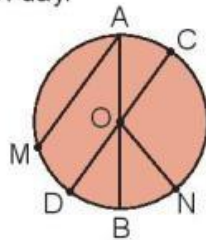
- 1 Trong hình bên:
 - a) Có mấy góc vuông?
 - b) Có mấy góc không vuông đỉnh A?
 - c) Tìm trung điểm của đoạn thẳng AC và đoạn thẳng ED.



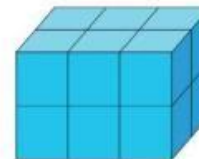
- 2 Vẽ hình (theo mẫu).



- 3 a) Nêu tên các đường kính, bán kính của hình tròn dưới đây.
- b) Hình dưới đây được xếp bởi bao nhiêu khối lập phương, bao nhiêu khối trụ?



- 4 Người ta xếp các khối lập phương màu trắng thành khối hộp chữ nhật, rồi sơn tất cả các mặt của khối hộp chữ nhật đó (như hình vẽ). Hỏi có tất cả bao nhiêu khối lập phương được sơn 3 mặt, được sơn 2 mặt?



Lời giải:

Có tất cả 6 khối lập phương được sơn 3 mặt, có 4 khối lập phương được sơn 2 mặt

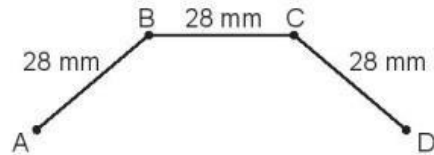
Giải Toán KNTT lớp 3 trang 119 Luyện tập

Giải Toán lớp 3 Tập 1 trang 119 Bài 1:

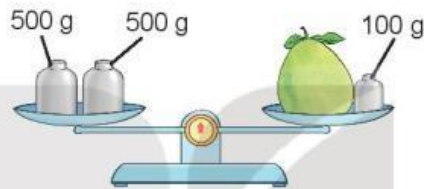
a) Tính độ dài đường gấp khúc ABCD.



1 a) Tính độ dài đường gấp khúc ABCD.



b) Quả bưởi cân nặng bao nhiêu gam?



2 Chọn số đo thích hợp.

a) Quyển sách Toán 3 tập một dày khoảng:

- A. 5 mm B. 5 cm C. 5 dm

b) Cái bút mực cân nặng khoảng:

- A. 2 g B. 2 kg C. 20 g

c) Lượng thuốc nước trong một lọ thuốc nhỏ mắt có khoảng:

- A. 15 ml B. 15 l C. 150 ml

d) Nhiệt độ cơ thể người bình thường khoảng:

- A. 35 °C B. 37 °C C. 38 °C

3 Tính.

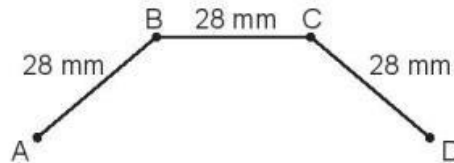
- | | | |
|--------------------------------------|------------------------------------|--------------------------------------|
| a) $480 \text{ mm} + 120 \text{ mm}$ | b) $465 \text{ g} + 340 \text{ g}$ | c) $500 \text{ ml} + 156 \text{ ml}$ |
| $545 \text{ mm} - 45 \text{ mm}$ | $200 \text{ g} \times 5$ | $1\ 000 \text{ ml} - 500 \text{ ml}$ |
| $840 \text{ mm} : 3$ | $900 \text{ g} : 6$ | $250 \text{ ml} \times 3$ |

4 Một gói mì tôm cân nặng 80 g, một hộp sữa cân nặng 455 g. Hỏi 3 gói mì tôm và 1 hộp sữa cân nặng bao nhiêu gam?

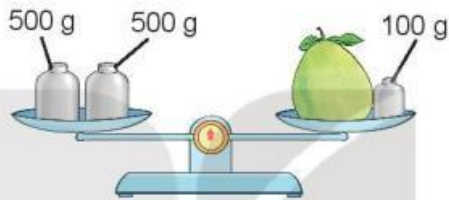
b) Quả bưởi cân nặng bao nhiêu gam?



1 a) Tính độ dài đường gấp khúc ABCD.



b) Quả bưởi cân nặng bao nhiêu gam?



2 Chọn số đo thích hợp.

a) Quyển sách Toán 3 tập một dày khoảng:

- A. 5 mm B. 5 cm C. 5 dm

b) Cái bút mực cân nặng khoảng:

- A. 2 g B. 2 kg C. 20 g

c) Lượng thuốc nước trong một lọ thuốc nhỏ mắt có khoảng:

- A. 15 ml B. 15 l C. 150 ml

d) Nhiệt độ cơ thể người bình thường khoảng:

- A. 35 °C B. 37 °C C. 38 °C

3 Tính.

a) $480 \text{ mm} + 120 \text{ mm}$

b) $465 \text{ g} + 340 \text{ g}$

c) $500 \text{ ml} + 156 \text{ ml}$

$545 \text{ mm} - 45 \text{ mm}$

$200 \text{ g} \times 5$

$1\ 000 \text{ ml} - 500 \text{ ml}$

$840 \text{ mm} : 3$

$900 \text{ g} : 6$

$250 \text{ ml} \times 3$

4 Một gói mì tôm cân nặng 80 g, một hộp sữa cân nặng 455 g. Hỏi 3 gói mì tôm và 1 hộp sữa cân nặng bao nhiêu gam?

Lời giải:

a) Độ dài đường gấp khúc là:

$$28 + 28 + 28 = 84 \text{ mm}$$

b) Quả bưởi nặng số gam là:

$$500 + 500 - 100 = 900\text{g}$$

Giải Toán lớp 3 Tập 1 trang 119 Bài 2: Chọn số đo thích hợp.

a) Quyển sách Toán 3 tập một dày khoảng:

A. 5 mm B. 5 cm C. 5 dm

b) Cái bút mực cân nặng khoảng:

A. 2 g B. 2 kg C. 20 g

c) Lượng thuốc nước trong một lọ thuốc nhỏ mắt có khoảng:

A. 15 ml B. 15 l C. 150 ml

d) Nhiệt độ cơ thể người bình thường khoảng:

A. 35°C B. 37°C C. 38°C

Lời giải:

a) Quyển sách Toán 3 tập một dày khoảng: 5mm

b) Cái bút mực cân nặng khoảng: 2g

c) Lượng thuốc nước trong một lọ thuốc nhỏ mắt có khoảng:

d) Nhiệt độ cơ thể người bình thường khoảng: 37 °C

Giải Toán lớp 3 Tập 1 trang 119 Bài 3: Tính

a) $480 \text{ mm} + 120 \text{ mm}$ b) $465 \text{ g} + 340 \text{ g}$ c) $500 \text{ ml} + 156 \text{ ml}$

$545 \text{ mm} - 45 \text{ mm}$ $200 \text{ g} \times 5$ $1\ 000 \text{ ml} - 500 \text{ ml}$

$840 \text{ mm} : 3$ $900 \text{ g} : 6$ $250 \text{ ml} \times 3$

Lời giải:

a) $480 \text{ mm} + 120 \text{ mm} = 600 \text{ mm}$ b) $465 \text{ g} + 340 \text{ g} = 805 \text{ g}$ c) $500 \text{ ml} + 156 \text{ ml} = 656 \text{ ml}$

$545 \text{ mm} - 45 \text{ mm} = 500 \text{ mm}$ $200 \text{ g} \times 5 = 1000 \text{ g}$ $1\ 000 \text{ ml} - 500 \text{ ml} = 500 \text{ ml}$

$840 \text{ mm} : 3 = 280 \text{ mm}$ $900 \text{ g} : 6 = 150 \text{ g}$

$250 \text{ ml} \times 3 = 750 \text{ ml}$

Giải Toán lớp 3 Tập 1 trang 119 Bài 4: Một gói mì tôm cân nặng 80 g, một hộp sữa cân nặng 455 g. Hỏi 3 gói mì tôm và 1 hộp sữa cân nặng bao nhiêu gam?

Lời giải:

Ba gói mì tôm nặng số gam là:

$80 \times 3 = 240 \text{ (g)}$

3 gói mì tôm và 1 hộp sữa cân nặng số g là:

$240 + 455 = 695 \text{ (g)}$

Đáp số: 695 gam