

Hướng dẫn giải các bài tập trang 97 đến 98 Bài 36: Nhân số có ba chữ số với số có một chữ số sách giáo khoa Toán lớp 3 bộ sách Kết nối tri thức (KNTT) thuộc chương trình mới chi tiết và chính xác nhất sẽ là nguồn tài liệu tham khảo hữu ích dành cho phụ huynh và các em học sinh.

Giải Toán Kết nối tri thức lớp 3 trang 98 Hoạt động

Giải Toán lớp 3 Tập 1 trang 98 Bài 1: Tính.

$$\begin{array}{r} 312 \\ \times 3 \\ \hline \end{array}$$

$$\begin{array}{r} 203 \\ \times 4 \\ \hline \end{array}$$

$$\begin{array}{r} 427 \\ \times 2 \\ \hline \end{array}$$

$$\begin{array}{r} 131 \\ \times 5 \\ \hline \end{array}$$

Lời giải:

$$\begin{array}{r} 312 \\ \times 3 \\ \hline 936 \end{array}$$

$$\begin{array}{r} 203 \\ \times 4 \\ \hline 812 \end{array}$$

$$\begin{array}{r} 427 \\ \times 2 \\ \hline 854 \end{array}$$

$$\begin{array}{r} 131 \\ \times 5 \\ \hline 655 \end{array}$$

Giải Toán lớp 3 Tập 1 trang 98 Bài 2: Đặt tính rồi tính

 **hoạt động**

1 Tính.

$$\begin{array}{r} 312 \\ \times 3 \\ \hline \end{array}$$

$$\begin{array}{r} 203 \\ \times 4 \\ \hline \end{array}$$

$$\begin{array}{r} 427 \\ \times 2 \\ \hline \end{array}$$

$$\begin{array}{r} 131 \\ \times 5 \\ \hline \end{array}$$

2 Đặt tính rồi tính.

$$243 \times 2$$

$$162 \times 4$$

$$250 \times 3$$

$$108 \times 5$$

3 Hôm nay, hải âu được 118 ngày tuổi, số ngày tuổi của mèo gấp 3 lần số ngày tuổi của hải âu. Hỏi hôm nay mèo được bao nhiêu ngày tuổi?



 **luyện tập**

1 Số ?

Thừa số	209	253	114	107
Thừa số	4	3	7	9
Tích	?	?	?	?

2 Tính nhẩm (theo mẫu).

Mẫu: $200 \times 2 = ?$

Nhẩm: 2 trăm \times 2 = 4 trăm

$200 \times 2 = 400$

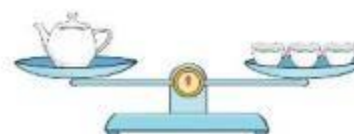
300×3

200×4

400×2

3 Số ?

Trong hình bên, mỗi cái chén cân nặng 128 g. Vậy cái ấm cân nặng ? g.



4 Gấu đen có 3 hũ mật ong, mỗi hũ đựng 250 ml mật ong. Gấu đen đã dùng 525 ml để làm bánh. Hỏi gấu đen còn bao nhiêu mi-li-lít mật ong?

Lời giải:

$$\begin{array}{r} 243 \\ \times 2 \\ \hline 486 \end{array} \quad \begin{array}{r} 162 \\ \times 4 \\ \hline 648 \end{array} \quad \begin{array}{r} 250 \\ \times 3 \\ \hline 750 \end{array} \quad \begin{array}{r} 108 \\ \times 5 \\ \hline 540 \end{array}$$

Giải Toán lớp 3 Tập 1 trang 98 Bài 3: Hôm nay, hải âu được 118 ngày tuổi, số ngày tuổi của mèo gấp 3 lần số ngày tuổi của hải âu. Hỏi hôm nay mèo được bao nhiêu ngày tuổi?

Lời giải:

Hôm nay mèo được số ngày tuổi là:

$$118 \times 3 = 354 \text{ (ngày tuổi)}$$

Đáp số: 354 ngày tuổi

Giải Toán KNTT lớp 3 trang 98 Luyện tập

Giải Toán lớp 3 Tập 1 trang 98 Bài 1: Số?

 **hoạt động**

1 Tính.

$$\begin{array}{r} 312 \\ \times 3 \\ \hline \end{array}$$

$$\begin{array}{r} 203 \\ \times 4 \\ \hline \end{array}$$

$$\begin{array}{r} 427 \\ \times 2 \\ \hline \end{array}$$

$$\begin{array}{r} 131 \\ \times 5 \\ \hline \end{array}$$

2 Đặt tính rồi tính.

$$243 \times 2$$

$$162 \times 4$$

$$250 \times 3$$

$$108 \times 5$$

3 Hôm nay, hải âu được 118 ngày tuổi, số ngày tuổi của mèo gấp 3 lần số ngày tuổi của hải âu. Hỏi hôm nay mèo được bao nhiêu ngày tuổi?



 **luyện tập**

1 Số ?

Thừa số	209	253	114	107
Thừa số	4	3	7	9
Tích	?	?	?	?

2 Tính nhẩm (theo mẫu).

Mẫu: $200 \times 2 = ?$

Nhẩm: $2 \text{ trăm} \times 2 = 4 \text{ trăm}$

$200 \times 2 = 400$

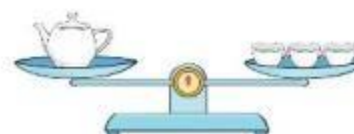
300×3

200×4

400×2

3 Số ?

Trong hình bên, mỗi cái chén cân nặng 128 g. Vậy cái ấm cân nặng ? g.



4 Gấu đen có 3 hũ mật ong, mỗi hũ đựng 250 ml mật ong. Gấu đen đã dùng 525 ml để làm bánh. Hỏi gấu đen còn bao nhiêu mi-li-lít mật ong?

Lời giải:

Thừa số 209 253 114 107

Thừa số 4 3 7 9

Tích 836 759 798 963

Giải Toán lớp 3 Tập 1 trang 98 Bài 2: Tính nhẩm (theo mẫu):Mẫu: $200 \times 2 = ?$ Nhẩm: 2 trăm \times 2 = 4 trăm $200 \times 2 = 400$ 300×3 200×4 400×2 **Lời giải:** 300×3 200×4 400×2 Nhẩm: 3 trăm \times 3 = 9 trămNhẩm: 2 trăm \times 4 = 8 trămNhẩm: 4 trăm \times 2 = 8 trăm $300 \times 3 = 900$ $200 \times 4 = 800$ $400 \times 2 = 800$ **Giải Toán lớp 3 Tập 1 trang 98 Bài 3:** Số?

Trong hình bên, mỗi cái chén cân nặng 128 g. Vậy cái ấm cân nặng ? g.

 **hoạt động**

1 Tính.

$$\begin{array}{r} 312 \\ \times 3 \\ \hline \end{array}$$

$$\begin{array}{r} 203 \\ \times 4 \\ \hline \end{array}$$

$$\begin{array}{r} 427 \\ \times 2 \\ \hline \end{array}$$

$$\begin{array}{r} 131 \\ \times 5 \\ \hline \end{array}$$

2 Đặt tính rồi tính.

$$243 \times 2$$

$$162 \times 4$$

$$250 \times 3$$

$$108 \times 5$$

3 Hôm nay, hải âu được 118 ngày tuổi, số ngày tuổi của mèo gấp 3 lần số ngày tuổi của hải âu. Hỏi hôm nay mèo được bao nhiêu ngày tuổi?



 **luyện tập**

1 Số ?

Thừa số	209	253	114	107
Thừa số	4	3	7	9
Tích	?	?	?	?

2 Tính nhẩm (theo mẫu).

Mẫu: $200 \times 2 = ?$

Nhẩm: 2 trăm \times 2 = 4 trăm

$200 \times 2 = 400$

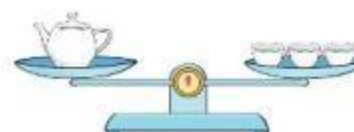
300×3

200×4

400×2

3 Số ?

Trong hình bên, mỗi cái chén cân nặng 128 g. Vậy cái ấm cân nặng ? g.



4 Gấu đen có 3 hũ mật ong, mỗi hũ đựng 250 ml mật ong. Gấu đen đã dùng 525 ml để làm bánh. Hỏi gấu đen còn bao nhiêu mi-li-lít mật ong?

Lời giải:

Cái âm nặng số gam là:

$$128 \times 3 = 384 \text{ (g)}$$

Đáp số: 384 g

Giải Toán lớp 3 Tập 1 trang 98 Bài 4: Gấu đen có 3 hũ mật ong, mỗi hũ đựng 250 ml mật ong. Gấu đen đã dùng 525 ml để làm bánh. Hỏi gấu đen còn bao nhiêu mi-li-lít mật ong?

Lời giải:

Ba hũ mật ong có số mi-li-lít là:

$$250 \times 3 = 750 \text{ (ml)}$$

Gấu đen còn lại số ml là:

$$750 - 525 = 225 \text{ (ml)}$$

Đáp số: 225 ml mật ong

Trên đây là nội dung gợi ý trả lời các câu hỏi và bài tập trong SGK Toán lớp 3 tập 1 Bài 36 trang 97, 98 bộ sách Kết nối tri thức chi tiết và dễ hiểu nhất. Ngoài ra các bạn có thể tham khảo các bài toán khác cùng bộ sách đã được đăng tải trên chuyên trang của chúng tôi.