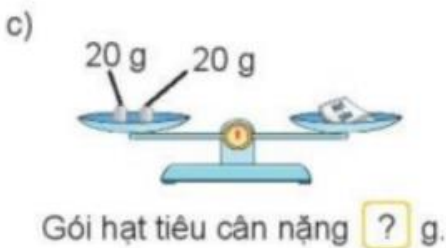
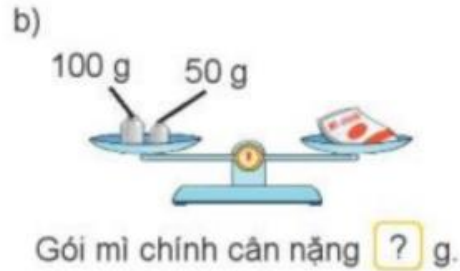
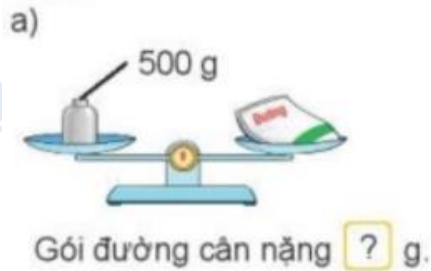


**Giải bài tập Toán lớp 3 Kết nối tri thức Bài 31: Gam**

**Toán lớp 3 trang 87, 88 Hoạt động**

**Giải Toán lớp 3 Tập 1 trang 87, 88 Bài 1: Số?**



**Lời giải:**

Em thực hiện phép tính cộng.



**Giải Toán lớp 3 Tập 1 trang 88 Bài 2: Số?**

a)



Túi táo cân nặng ? g.

b)



Gói bột mì cân nặng ? g.

c) Túi táo cân nặng hơn gói bột mì là ? g.

Túi táo và gói bột mì cân nặng tất cả là ? g.

**Lời giải:**

a)



Túi táo cân nặng 500 g.

b)



Gói bột mì cân nặng 250 g.

c)

Túi táo cân nặng hơn gói bột mì là:

$$500 - 250 = 250 \text{ (g)}$$

Túi táo và gói bột mì cân nặng tất cả là:

$$500 + 250 = 750 \text{ (g)}$$

**Toán lớp 3 trang 88 Luyện tập**

**Giải Toán lớp 3 Tập 1 trang 88 Bài 1:** Tính (theo mẫu):

Mẫu:

$$250 \text{ g} + 300 \text{ g} = 550 \text{ g}$$

$$40 \text{ g} : 5 = 8 \text{ g}$$

a)  $740 \text{ g} - 360 \text{ g}$

b)  $15 \text{ g} \times 4$

**Lời giải:**

a)  $740 \text{ g} - 360 \text{ g} = 380 \text{ g}$

b)  $15 \text{ g} \times 4 = 60 \text{ g}$

**Giải Toán lớp 3 Tập 1 trang 88 Bài 2:** Chọn số cân nặng thích hợp với mỗi con vật:



**Lời giải:**

Quan sát hình vẽ, ta có:

Con gà nặng 2 kg.

Con chó nặng 20 kg.

Con chim nặng 200 g.

Con bò nặng 200 kg.