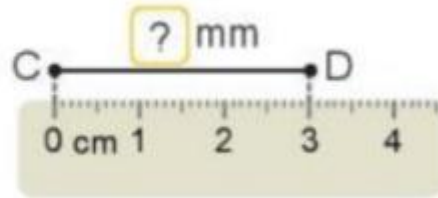
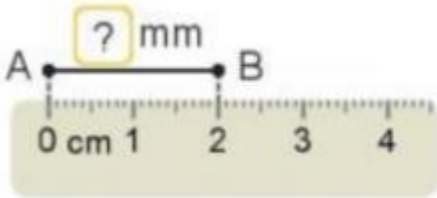


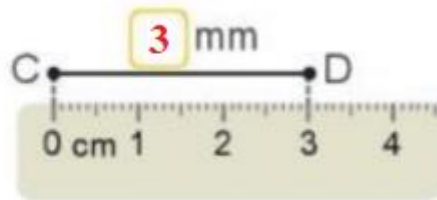
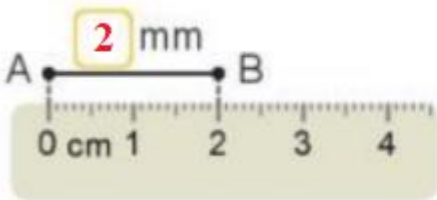
**Giải bài tập Toán lớp 3 Kết nối tri thức Bài 30: Mi - li - mét**

Toán lớp 3 trang 85, 86 Hoạt động

Giải Toán lớp 3 Tập 1 trang 85 Bài 1: Số?



Lời giải:



Giải Toán lớp 3 Tập 1 trang 85 Bài 2: Số?

a)  $1 \text{ cm} = ? \text{ mm}$

b)  $10 \text{ mm} = ? \text{ cm}$

c)  $6 \text{ cm} = ? \text{ mm}$

$1 \text{ m} = ? \text{ mm}$

$1000 \text{ mm} = ? \text{ m}$

$2 \text{ cm} = ? \text{ mm}$

Lời giải:

a)  $1 \text{ cm} = 10 \text{ mm}$

b)  $10 \text{ mm} = 1 \text{ cm}$

c)  $6 \text{ cm} = 60 \text{ mm}$

$1 \text{ m} = 1000 \text{ mm}$

$1000 \text{ mm} = 1 \text{ m}$

$2 \text{ cm} = 20 \text{ mm}$

Giải Toán lớp 3 Tập 1 trang 86 Bài 3: Bạn nào dài hơn?



**Lời giải:**

Vì  $3\text{cm} > 3\text{mm}$  nên bạn ve sầu dài hơn.

**Toán lớp 3 trang 86 Luyện tập**

**Giải Toán lớp 3 Tập 1 trang 86 Bài 1: Tính**

$250\text{ mm} + 100\text{ mm}$

$25\text{ mm} + 3\text{ mm}$

$11\text{ mm} \times 3$

$420\text{ mm} - 150\text{ mm}$

$64\text{ mm} - 15\text{ mm}$

$50\text{ mm} : 2$

**Lời giải:**

$250\text{ mm} + 100\text{ mm} = 350\text{ mm}$

$25\text{ mm} + 3\text{ mm} = 28\text{ mm}$

$11\text{ mm} \times 3 = 33\text{ mm}$

$420\text{ mm} - 150\text{ mm} = 270\text{ mm}$

$64\text{ mm} - 15\text{ mm} = 49\text{ mm}$

$50\text{ mm} : 2 = 25\text{ mm}$

**Giải Toán lớp 3 Tập 1 trang 86 Bài 2: Số?**

3 Bạn nào dài hơn?

Chào kiến. Tớ có chiều dài là 3 cm.



Chào ve sầu. Tớ có chiều dài là 3 mm.



luyện tập

1 Tính.

$$250 \text{ mm} + 100 \text{ mm}$$

$$25 \text{ mm} + 3 \text{ mm}$$

$$11 \text{ mm} \times 3$$

$$420 \text{ mm} - 150 \text{ mm}$$

$$64 \text{ mm} - 15 \text{ mm}$$

$$50 \text{ mm} : 2$$

2 Số ?

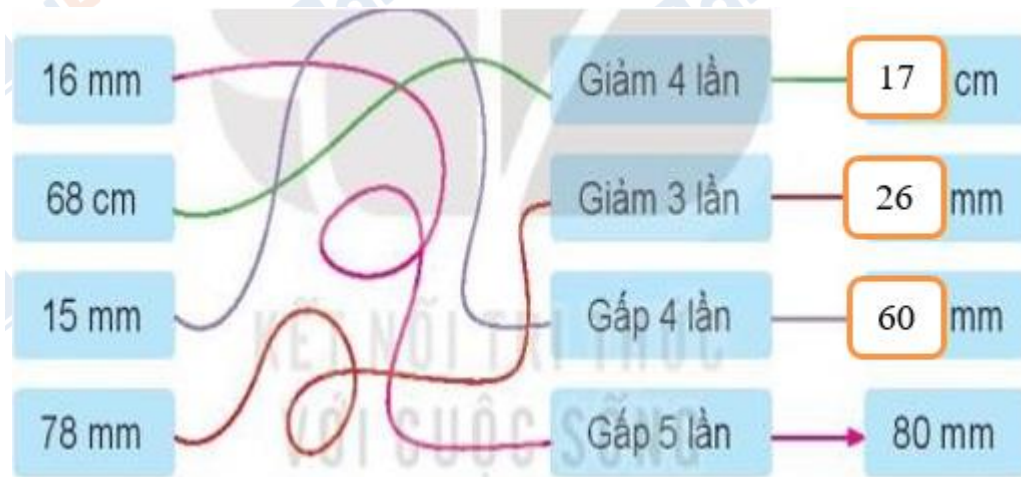
16 mm		Giảm 4 lần	→	? cm
68 cm		Giảm 3 lần	→	? mm
15 mm		Gấp 4 lần	→	? mm
78 mm		Gấp 5 lần	→	80 mm

3 Ốc sên đi từ nhà đến trường. Bạn ấy đã đi được 152 mm. Quãng đường còn phải đi dài 264 mm. Hỏi quãng đường ốc sên đi từ nhà đến trường dài bao nhiêu mi-li-mét?



4 Cào cào tập nhảy mỗi ngày. Ngày đầu tiên cào cào nhảy xa được 12 mm. Một tuần sau thì cào cào nhảy xa được gấp 3 lần ngày đầu tiên. Hỏi khi đó cào cào nhảy xa được bao nhiêu mi-li-mét?

Lời giải:



**Giải Toán lớp 3 Tập 1 trang 86 Bài 3:** Ốc sên đi từ nhà đến trường. Bạn ấy đã đi được 152 mm. Quãng đường còn phải đi dài 264 mm. Hỏi quãng đường ốc sên đi từ nhà đến trường dài bao nhiêu mi-li-mét?

3 Bạn nào dài hơn?

Chào kiến. Tớ có chiều dài là 3 cm.



Chào ve sầu. Tớ có chiều dài là 3 mm.



1 Tính.

$$250 \text{ mm} + 100 \text{ mm}$$

$$25 \text{ mm} + 3 \text{ mm}$$

$$11 \text{ mm} \times 3$$

$$420 \text{ mm} - 150 \text{ mm}$$

$$64 \text{ mm} - 15 \text{ mm}$$

$$50 \text{ mm} : 2$$

2 Số ?

16 mm		Giảm 4 lần	→	? cm
68 cm		Giảm 3 lần	→	? mm
15 mm		Gấp 4 lần	→	? mm
78 mm		Gấp 5 lần	→	80 mm

3 Ốc sên đi từ nhà đến trường. Bạn ấy đã đi được 152 mm. Quảng đường còn phải đi dài 264 mm. Hỏi quãng đường ốc sên đi từ nhà đến trường dài bao nhiêu mi-li-mét?



4 Cào cào tập nhảy mỗi ngày. Ngày đầu tiên cào cào nhảy xa được 12 mm. Một tuần sau thì cào cào nhảy xa được gấp 3 lần ngày đầu tiên. Hỏi khi đó cào cào nhảy xa được bao nhiêu mi-li-mét?

**Lời giải:**

Quãng đường ốc sên đi từ nhà đến trường dài là:

$$152 + 264 = 416 \text{ (mm)}$$

Đáp số: 416 mm

**Giải Toán lớp 3 Tập 1 trang 86 Bài 4:** Cào cào tập nhảy mỗi ngày. Ngày đầu tiên cào cào nhảy xa được 12 mm. Một tuần sau thì cào cào nhảy xa được gấp 3 lần ngày đầu tiên. Hỏi khi đó cào cào nhảy xa được bao nhiêu mi-li-mét?

**Lời giải:**

Một tuần sau cào cào nhảy xa được:

$$12 \times 3 = 36 \text{ (mm)}$$

Đáp số: 36 mm