


Giải bài tập Toán lớp 3 Kết nối tri thức Bài 25: Phép chia hết, phép chia có dư

Toán lớp 3 trang 73 Hoạt động

Giải Toán lớp 3 Tập 1 trang 73 Bài 1: Tính:



Lời giải:

a) $24 \begin{array}{r} | 6 \\ \hline 24 \\ \hline 0 \end{array}$ $20 \begin{array}{r} | 5 \\ \hline 20 \\ \hline 0 \end{array}$

$24 : 6 = 4$ $20 : 5 = 4$

b) $41 \begin{array}{r} | 8 \\ \hline 40 \\ \hline 1 \end{array}$ $23 \begin{array}{r} | 3 \\ \hline 21 \\ \hline 02 \end{array}$

$41 : 8 = 5 \text{ (dư 1)}$ $23 : 3 = 7 \text{ (dư 2)}$

Giải Toán lớp 3 Tập 1 trang 70 Bài 2:



Cách chia táo của bạn nào cho ta phép chia hết? Cách chia táo của bạn nào cho ta phép chia có dư?

Lời giải:

Em có 6 chiếc đĩa.

Em thực hiện phép tính:

$$\begin{array}{r} 18 \quad | \quad 4 \\ \underline{16} \quad | \quad 4 \\ 2 \end{array}$$

$$\begin{array}{r} 18 \quad | \quad 3 \\ \underline{18} \quad | \quad 6 \\ 0 \end{array}$$

$$\begin{array}{r} 18 \quad | \quad 5 \\ \underline{15} \quad | \quad 3 \\ 3 \end{array}$$

$$18 : 4 = 4 \text{ (dư 2)}$$

$$18 : 3 = 6$$

$$18 : 5 = 3 \text{ (dư 3)}$$

Vậy cách chia táo của bạn Rô – bốt và bạn nữ có dư, phép chia của bạn nam cho ta phép chia hết.

Toán lớp 3 trang 74 Luyện tập

Giải Toán lớp 3 Tập 1 trang 74 Bài 1:

a) Tính:



b) Chậu cây nào ở câu a ghi phép chia có số dư là 3?


Lời giải:

a)

$\begin{array}{r} 18 \overline{) 2} \\ 18 \overline{) 9} \\ \hline 0 \end{array}$	$\begin{array}{r} 23 \overline{) 5} \\ 20 \overline{) 4} \\ \hline 3 \end{array}$	$\begin{array}{r} 43 \overline{) 7} \\ 42 \overline{) 6} \\ \hline 1 \end{array}$	$\begin{array}{r} 17 \overline{) 8} \\ 16 \overline{) 2} \\ \hline 1 \end{array}$
---	---	---	---

b) Chậu cây B ghi phép chia có số dư là 3.

Giải Toán lớp 3 Tập 1 trang 74 Bài 2: Chọn số dư của mỗi phép chia dưới đây:



Lời giải:

Em thực hiện các phép tính:

$$17 : 2 = 8 \text{ (dư 1)}$$

$$41 : 6 = 6 \text{ (dư 5)}$$

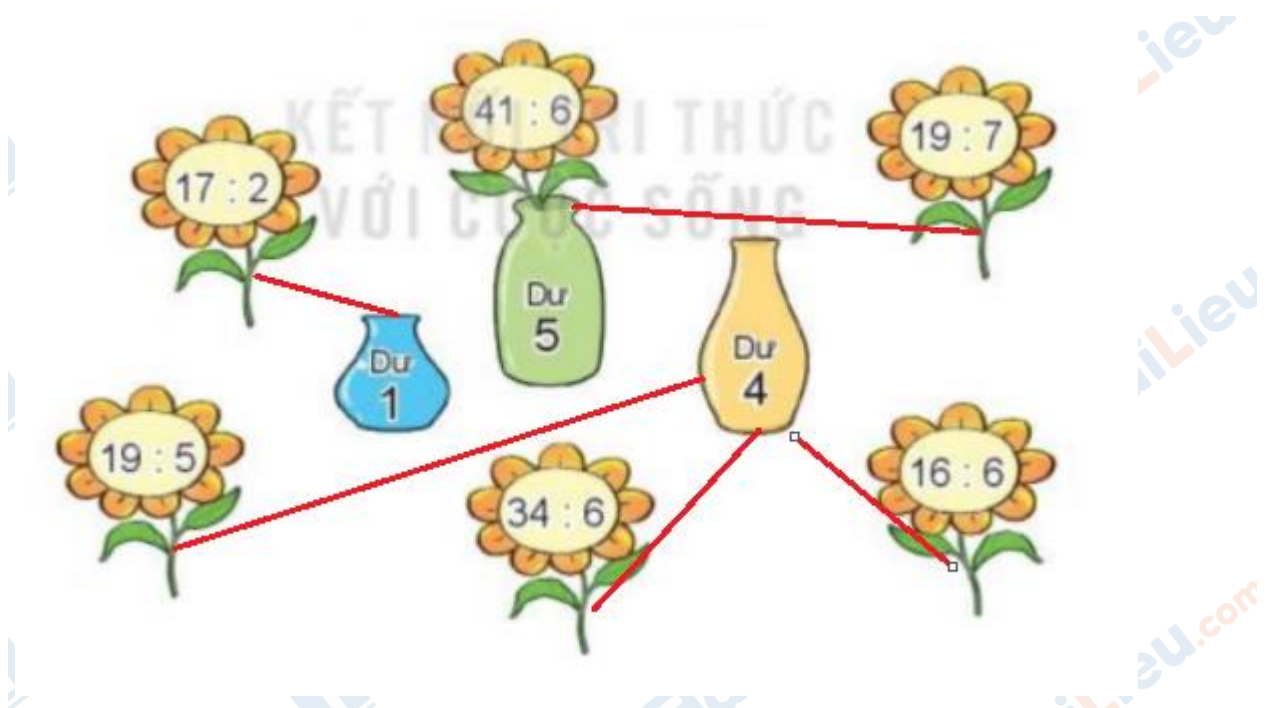
$$19 : 7 = 2 \text{ (dư 5)}$$

$$16 : 6 = 2 \text{ (dư 4)}$$

$$34 : 6 = 5 \text{ (dư 4)}$$

$$19 : 5 = 3 \text{ (dư 4)}$$

Em nối như hình vẽ:



Giải Toán lớp 3 Tập 1 trang 74 Bài 3: Rô-bốt chia 56 con cá vào các rổ, mỗi rổ 8 con cá. Hỏi Rô-bốt chia được bao nhiêu rổ cá như vậy?

Lời giải:

Số rổ cá Rô-bốt chia được là:

$$56 : 8 = 7 \text{ (rổ)}$$

Đáp số: 7 rổ cá