

Hướng dẫn giải các bài tập trang 70 đến 71 Bài 24: Gấp một số lên một số lần sách giáo khoa Toán lớp 3 bộ sách Kết nối tri thức (KNTT) thuộc chương trình mới chi tiết và chính xác nhất sẽ là nguồn tài liệu tham khảo hữu ích dành cho phụ huynh và các em học sinh.

Giải Toán KNTT lớp 3 trang 70 Hoạt động

Giải Toán lớp 3 Tập 1 trang 70 Bài 1: Số?

Số đã cho	4	7	11	8	9
Thêm vào số đã cho 8 đơn vị	12	?	?	?	?
Gấp 8 lần số đã cho	32	?	?	?	?


Lời giải:

Thêm vào số đã cho 8 đơn vị: Em thực hiện phép tính cộng với 8

Gấp 8 lần số đã cho: Em thực hiện phép tính nhân với 8

Số đã cho	4	7	11	8	9
Thêm vào số đã cho 8 đơn vị	12	15	19	16	17
Gấp 8 lần số đã cho	32	56	88	64	72

Giải Toán lớp 3 Tập 1 trang 70 Bài 2: Số?



Lời giải:

10 gấp 5 lần – Em thực hiện phép tính: $10 \times 5 = 50$

7 thêm 5 đơn vị – Em thực hiện phép tính: $7 + 5 = 12$

6 thêm 8 đơn vị – Em thực hiện phép tính: $6 + 8 = 14$

15 gấp 4 lần – Em thực hiện phép tính: $15 \times 4 = 60$



Giải Toán lớp 3 Tập 1 trang 70 Bài 3: Năm nay con 9 tuổi, bố gấp 4 lần tuổi con.

Hỏi năm nay bố bao nhiêu tuổi?

Lời giải:

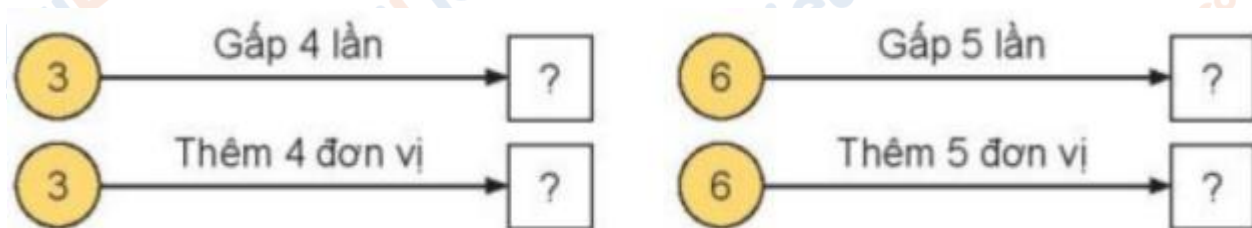
Số tuổi của bố năm nay là:

$$9 \times 4 = 36 \text{ (tuổi)}$$

Đáp số: 36 tuổi

Giải Toán Kết nối tri thức lớp 3 trang 71 Luyện tập

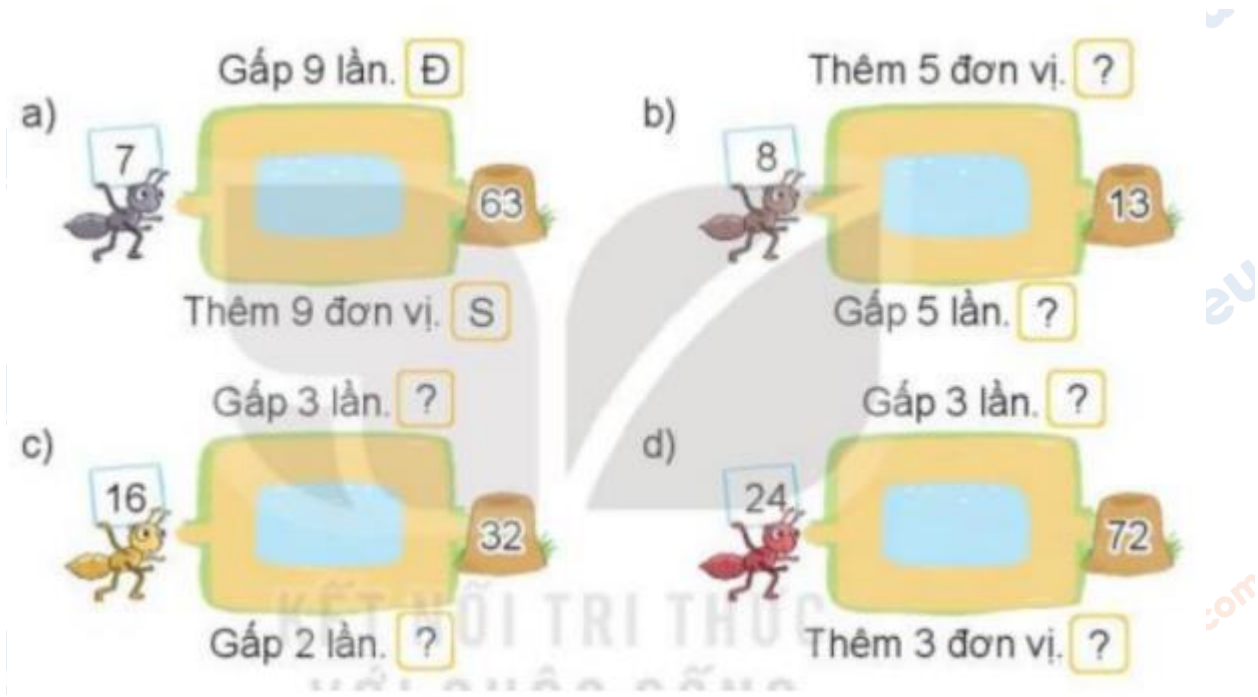
Giải Toán lớp 3 Tập 1 trang 71 Bài 1: Số?



Lời giải:



Giải Toán lớp 3 Tập 1 trang 71 Bài 2: Đ, S?



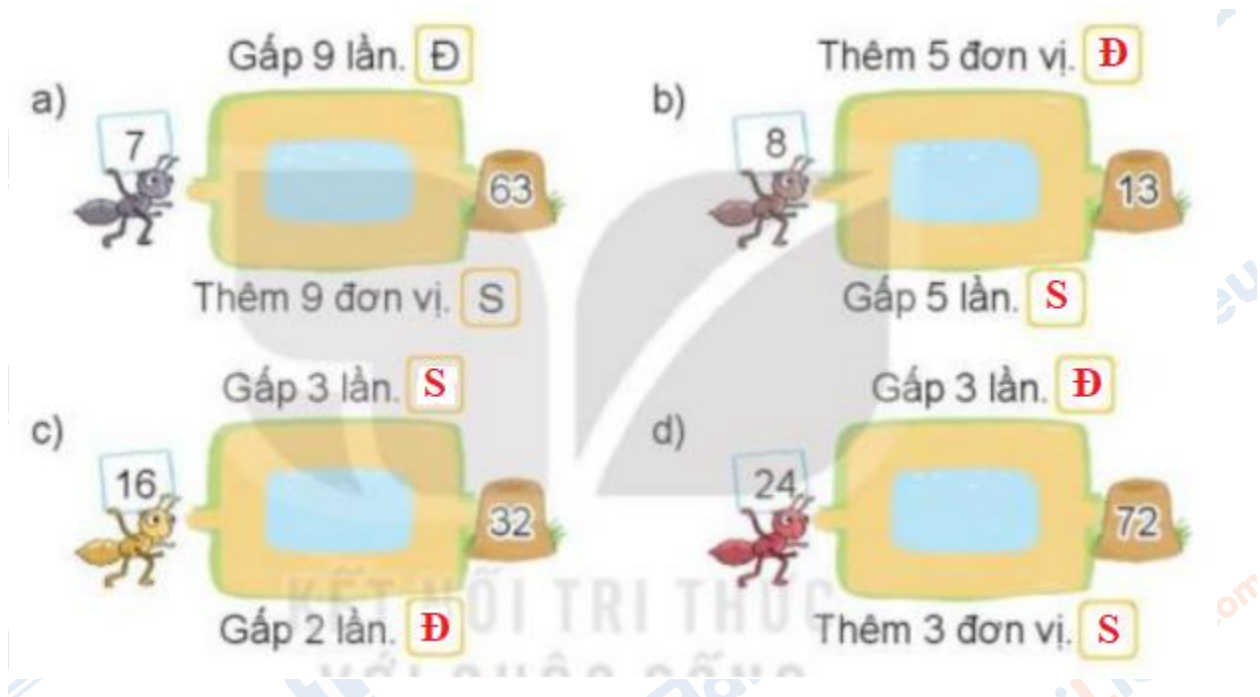
Lời giải:

b) 8 thêm 5 đơn vị được 13.

c) 16 gấp 2 lần được 32.

d) 24 gấp 3 lần được 72.

Em điền Đ, S như hình vẽ:



Giải Toán lớp 3 Tập 1 trang 71 Bài 3: Trong phòng có 9 cái bàn. Nam muốn xếp mỗi bàn 2 cái ghế. Hỏi Nam cần bao nhiêu cái ghế?


Lời giải:

Nam cần số ghế là:

$$2 \times 9 = 18 \text{ (cái)}$$

Đáp số: 18 cái ghế

Giải Toán lớp 3 Tập 1 trang 71 Bài 4: Tìm đường đi qua mê cung để tới tòa thành theo các phép tính có kết quả bằng 45.



Lời giải:

Thực hiện các phép tính:

$$23 \times 2 = 46 \quad 75 - 20 = 55 \quad 16 \times 2 = 32$$

$$15 \times 3 = 45 \quad 9 \times 5 = 45 \quad 75 - 45 = 30$$

$$45 + 7 = 52 \quad 75 - 30 = 45$$

Con đường cần đi là:



Trên đây là nội dung gợi ý trả lời các câu hỏi và bài tập trong SGK Toán lớp 3 tập 1 Bài 24 trang 70, 71 bộ sách Kết nối tri thức chi tiết và dễ hiểu nhất. Ngoài ra các bạn có thể tham khảo các bài toán khác cùng bộ sách đã được đăng tải trên chuyên trang của chúng tôi.