

Giải bài tập Toán lớp 3 trang 39, 40, 41 Bài 13: Tìm thành phần trong phép nhân, phép chia - Kết nối tri thức

Toán lớp 3 trang 39, 40 Hoạt động

Giải Toán lớp 3 Tập 1 trang 39 Bài 1: Tìm thừa số (theo mẫu).

Mẫu : ? x 35

35 : 5 = 7

a) ? x 4 = 28

b) ? x 3 = 12

c) 6 x ? = 24

Lời giải:

a) ? x 4 = 28

28 : 4 = 7

b) ? x 3 = 12

12 : 3 = 4

c) 6 x ? = 24

24 : 6 = 4

Giải Toán lớp 3 Tập 1 trang 39 Bài 2: Số?

Thừa số	8	?	5	7	?
Thừa số	4	6	?	?	9
Tích	32	18	30	21	36

Lời giải:

Thừa số	8	3	5	7	4
Thừa số	4	6	6	3	9
Tích	32	18	30	21	36

Giải Toán lớp 3 Tập 1 trang 40 Bài 3: 5 ca-bin chở tất cả 30 người. Hỏi mỗi ca-bin chở bao nhiêu người? Biết rằng số người ở mỗi ca-bin như nhau.



Lời giải:

Mỗi ca-bin chở số người là:

$$30 : 5 = 6 \text{ (người)}$$

Đáp số: 6 người

Toán lớp 3 trang 41 Hoạt động

Giải Toán lớp 3 Tập 1 trang 41 Bài 1:

a) Tìm số bị chia (theo mẫu).

Mẫu: $? : 5 = 6$

$$6 \times 5 = 30$$

$$? : 6 = 7$$

$$? : 4 = 32$$

$$? : 3 = 18$$

b) Tìm số chia (theo mẫu).

Mẫu: $15 : ? = 3$

$$15 : 3 = 5$$

$$24 : ? = 6$$

$$40 : ? = 5$$

$$28 : ? = 4$$

Lời giải:

a) $? : 6 = 7$

$7 \times 6 = 42$

b) $24 : ? = 6$

$24 : 6 = 4$

$? : 4 = 32$

$32 \times 4 = 128$

$40 : ? = 5$

$40 : 5 = 8$

$? : 3 = 18$

$18 \times 3 = 54$

$28 : ? = 4$

$28 : 4 = 7$

Giải Toán lớp 3 Tập 1 trang 41 Bài 2: Số?



Số bị chia	50	?	24	?	45
Số chia	5	4	?	7	?
Thương	10	7	6	5	9

Lời giải:

Số bị chia	50	28	24	35	45
Số chia	5	4	4	7	5
Thương	10	7	6	5	9

Toán lớp 3 trang 41 Luyện tập

Giải Toán lớp 3 Tập 1 trang 41 Bài 1: Số?



Lời giải:

a)

b)

c)

d)

$$? \times 2 = 8$$

$$? : 5 = 6$$

$$? : 4 = 7$$

$$? \times 3 = 30$$

$$8 : 2 = 4$$

$$6 \times 5 = 30$$

$$7 \times 4 = 28$$


$$30 : 3 = 10$$

Số điền vào ? là 4

Số điền vào ? là 30

Số điền vào ? là 28

Số điền vào ? là 10



Giải Toán lớp 3 Tập 1 trang 41 Bài 2: Có 35 quả cam xếp vào các đĩa, mỗi đĩa 5 quả. Hỏi được mấy đĩa cam như vậy?



Lời giải:

Cần số đĩa cam là:

$$35 : 5 = 7 \text{ (đĩa)}$$

Đáp số: 7 đĩa cam