

Giải bài tập Toán lớp 3 trang 42, 43, 44, 45 Bài 14: Một phần mấy - Kết nối tri thức

Toán lớp 3 trang 43 Hoạt động

Giải Toán lớp 3 Tập 1 trang 43 Bài 1: Đ, S?



Đã tô màu $\frac{1}{3}$ hình chữ nhật.



Đã tô màu $\frac{1}{2}$ hình chữ nhật.



Đã tô màu $\frac{1}{5}$ hình chữ nhật.




Đã tô màu $\frac{1}{6}$ hình chữ nhật.

Lời giải:



Đã tô màu $\frac{1}{3}$ hình chữ nhật.



Đã tô màu $\frac{1}{2}$ hình chữ nhật.

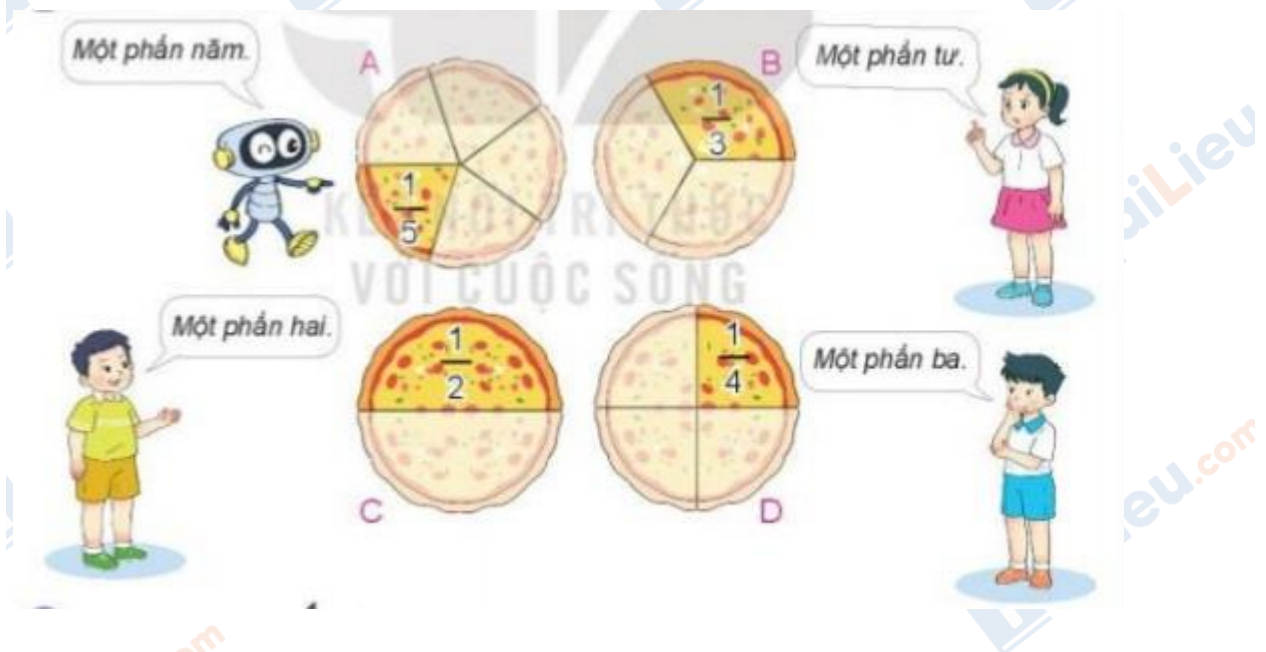


Đã tô màu $\frac{1}{5}$ hình chữ nhật.



Đã tô màu $\frac{1}{6}$ hình chữ nhật.

Giải Toán lớp 3 Tập 1 trang 43 Bài 2: Chọn cách đọc phù hợp với cách viết một phần mấy ở mỗi hình.



Lời giải:

A: Một phần năm

B: Một phần ba

C: Một phần hai

D: Một phần tư

Giải Toán lớp 3 Tập 1 trang 43 Bài 3: Đã khoanh vào 1414 số hạt dẻ của hình nào?



A



B

Lời giải:

Hình A: Có 8 hạt dẻ, khoanh vào 4 hạt dẻ. Khoanh vào 1212 số hạt dẻ.

Hình B: Có 8 hạt dẻ, khoanh vào 2 hạt dẻ. Khoanh vào 1414 số hạt dẻ.

Chọn B.

Toán lớp 3 trang 44, 45 Luyện tập

Giải Toán lớp 3 Tập 1 trang 44 Bài 1: Đ, S?

a)



Đã tô màu $\frac{1}{7}$ hình tròn.

b)



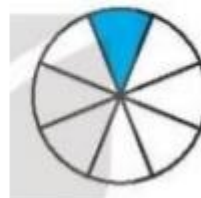
Đã tô màu $\frac{1}{9}$ hình tròn.

c)



Đã tô màu $\frac{1}{4}$ hình tròn.

d)



Đã tô màu $\frac{1}{8}$ hình tròn.

Lời giải:

a) Hình tròn được chia làm 7 phần bằng nhau. Tô màu 1 phần.

Đã tô màu 1/7 hình tròn.

b) Hình tròn được chia làm 9 phần bằng nhau. Tô màu 1 phần.

Đã tô màu 1/9 hình tròn.

c) Hình tròn được chia làm 5 phần bằng nhau. Tô màu 1 phần.

Đã tô màu 1515 hình tròn.

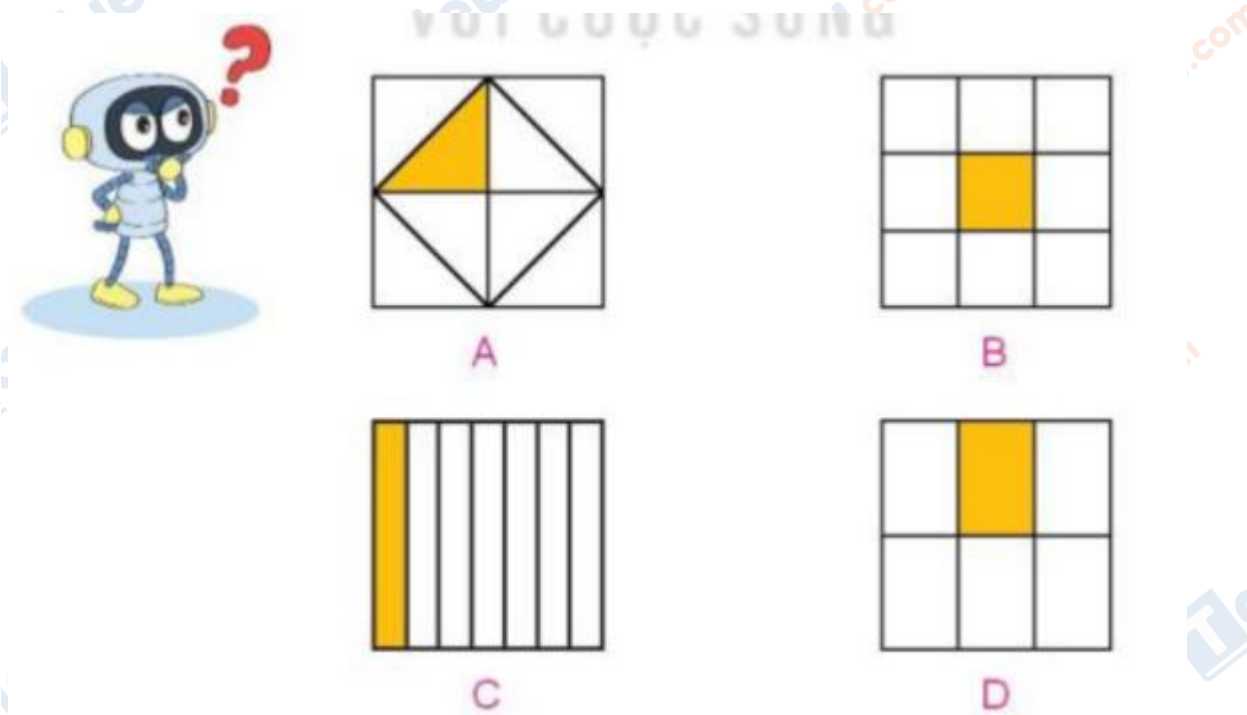
d) Hình tròn được chia làm 8 phần bằng nhau. Tô màu 1 phần.

Đã tô màu 1818 hình tròn.

Kết luận:

a) Đ b) Đ c) S d) Đ

Giải Toán lớp 3 Tập 1 trang 44 Bài 2: Đã tô màu 1818 hình hình nào?



Lời giải:

Đáp án A

Giải Toán lớp 3 Tập 1 trang 45 Bài 3: Đã khoanh vào 1313 số cây cải bắp của hình nào? Đã khoanh vào 1515 số cây xà lách của hình nào?



Lời giải:

Hình A: Có 6 cây cải bắp, khoanh vào 3 cây cải bắp. Đã khoanh vào 1212 số cây cải bắp.

Hình B: Có 6 cây cải bắp, khoanh vào 2 cây cải bắp. Đã khoanh vào 1313 số cây cải bắp.

Hình C: Có 15 cây xà lách, khoanh vào 3 cây xà lách. Đã khoanh vào 1515 số cây xà lách.

Hình D: Có 12 cây xà lách, khoanh vào 4 cây xà lách. Đã khoanh vào 1313 số cây xà lách.


Đáp án: Hình B; Hình C

Giải Toán lớp 3 Tập 1 trang 45 Bài 4: Số?

Mẫu:


Chia 6 quả táo thành 2 phần bằng nhau.

$\frac{1}{2}$ quả táo là 3 quả táo.



Chia 12 quả cam thành 3 phần bằng nhau.

$\frac{1}{3}$ số quả cam là ? quả cam



Lời giải:

Chia 12 quả cam thành 3 phần bằng nhau.

1313 số quả cam là 4 quả cam